



UNIVERSIDADE ESTADUAL DE LONDRINA

Concurso Vestibular 2003

07/01/03

INSTRUÇÕES

1. Confira, abaixo, seu nome e número de inscrição. Assine no local indicado.
2. Aguarde autorização para abrir o caderno de provas.
3. A interpretação das questões é parte do processo de avaliação, não sendo permitidas perguntas aos Fiscais.
4. As provas desta etapa são compostas por questões em que há somente uma alternativa correta.
5. Ao receber a folha de respostas, examine-a e verifique se os dados nela impressos correspondem aos seus. Caso haja irregularidade, comunique-a imediatamente ao Fiscal.
6. Transcreva para a folha de respostas o resultado que julgar correto em cada questão, preenchendo o círculo correspondente, à caneta com tinta preta ou azul-escura.
7. Na folha de respostas, a marcação de mais de uma alternativa em uma mesma questão, rasuras e preenchimento além dos limites do círculo destinado para cada marcação anulam a questão.
8. Não haverá substituição de folha de respostas por erro de preenchimento.
9. Não serão permitidas consultas, empréstimos e comunicação entre os candidatos, tampouco o uso de livros, apontamentos e equipamentos, eletrônicos ou não, inclusive relógio. O não-cumprimento dessas exigências implicará a exclusão do candidato deste Concurso.
10. Ao concluir as provas, permaneça em seu lugar e comunique ao Fiscal. **Aguarde autorização para devolver, em separado, o caderno de provas e a folha de respostas, devidamente assinados.**
11. O tempo para o preenchimento da folha de respostas está contido na duração desta etapa.

DURAÇÃO DESTA PROVA: 4 HORAS



3

BIOLOGIA

HISTÓRIA

SALA

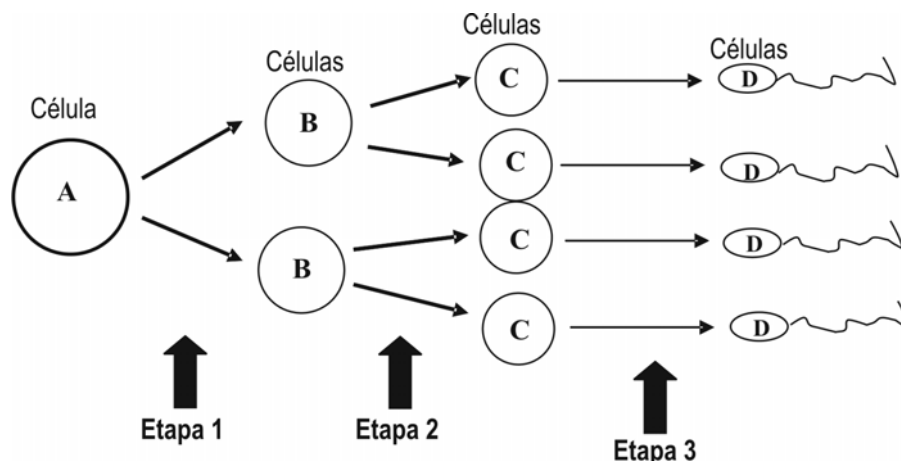
NÚMERO DE INSCRIÇÃO

NOME DO CANDIDATO

ASSINATURA DO CANDIDATO

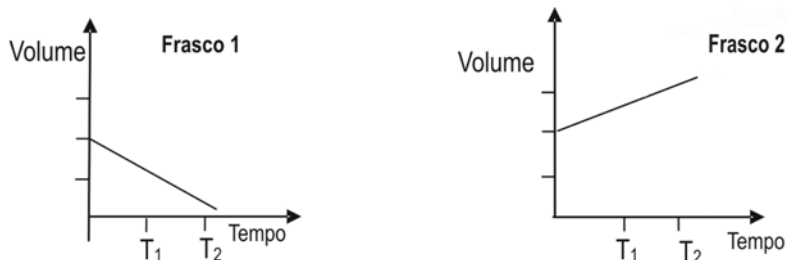
BIOLOGIA

01 - O esquema abaixo representa etapas do processo de gametogênese no homem.



Sobre esse processo, assinale a alternativa correta.

- A célula A é diplóide e as células B, C e D são haplóides.
 - A separação dos homólogos ocorre durante a etapa 2.
 - As células A e B são diplóides e as células C e D são haplóides.
 - A redução no número de cromossomos ocorre durante a etapa 3.
 - A separação das cromátides-irmãs ocorre durante a etapa 1.
- 02 - Células vegetais foram mantidas, por algum tempo, em solução isotônica e, em seguida, transferidas para soluções de NaCl de concentrações desconhecidas (frascos 1 e 2). Os gráficos a seguir representam as variações de volume encontradas nessas células:



De acordo com os dois gráficos acima, foram feitas as seguintes afirmativas:

- As soluções de NaCl dos frascos 1 e 2 são, respectivamente, hipotônica e hipertônica em relação às células vegetais.
- A pressão de turgor em T₂ é menor nas células imersas no frasco 1 do que nas células imersas no frasco 2.
- Ocorre um aumento crescente na pressão de turgor a partir do momento em que as células são mergulhadas no frasco 2.
- Ocorre um aumento crescente da resistência da parede celular a partir do momento em que as células são mergulhadas no frasco 1.

Das afirmativas acima, são corretas apenas:

- I e II.
 - II e III.
 - III e IV.
 - I, II e III.
 - II, III e IV.
- 03 - Considere os seguintes processos:

- Produção de iogurtes e queijos.
- Produção de açúcar a partir da cana.
- Fixação de nitrogênio no solo pelo cultivo de leguminosas.
- Extração do amido do milho.

Quais dos processos acima mencionados dependem da participação de microorganismos?

- Apenas I e II.
- Apenas II e III.
- Apenas I e III.
- Apenas II e IV.
- Apenas III e IV.

04 - Considerando que uma espécie de ave apresenta $2n = 78$ cromossomos é correto afirmar:

- a) Um gameta tem 39 cromossomos autossomos e 2 cromossomos sexuais.
- b) Um gameta tem 38 cromossomos autossomos e 2 cromossomos sexuais.
- c) Um gameta tem 38 cromossomos autossomos e 1 cromossomo sexual.
- d) Uma célula somática tem 77 cromossomos autossomos e 1 cromossomo sexual.
- e) Uma célula somática tem 78 cromossomos autossomos e 2 cromossomos sexuais.

05 - As filas de espera para transplantes aumentam a cada dia que passa. Centros de pesquisa em todo o mundo preparam alternativas ao tradicional transplante de órgãos doados de pessoas clinicamente mortas. Alguns laboratórios estão pesquisando a utilização de órgãos formados a partir de células indiferenciadas, denominadas células-tronco. Para a obtenção dessas células, é preciso extraí-las de embriões na fase de:

- a) Gástrula.
- b) Processo notocordal.
- c) Nêurula.
- d) Mórula.
- e) Formação de saco vitelínico.

06 - Na espécie humana, a miopia e a habilidade para a mão esquerda são caracteres condicionados por genes recessivos que se segregam de forma independente. Um homem de visão normal e destro, cujo pai tinha miopia e era canhoto, casa-se com uma mulher míope e destra, cuja mãe era canhota. Qual a probabilidade de esse casal ter uma criança com fenótipo igual ao do pai?

- a) $1/2$
- b) $1/4$
- c) $1/8$
- d) $3/4$
- e) $3/8$

07 - Em um experimento de reprodução com uma espécie de mamífero, adotou-se o seguinte procedimento: fundiu-se uma célula somática do indivíduo 1 com um óvulo, previamente anucleado, do indivíduo 2. A célula assim formada foi implantada no útero do indivíduo 3, desenvolvendo-se e originando o indivíduo 4. Nos núcleos das células somáticas do indivíduo 4, encontramos genes:

- a) Apenas do indivíduo 1.
- b) Apenas do indivíduo 2.
- c) Apenas do indivíduo 3.
- d) Apenas dos indivíduos 1 e 2.
- e) Apenas dos indivíduos 2 e 3.

08 - Um cientista investigava a influência dos fatores ambientais na variabilidade fenotípica de um determinado caráter. Quais os grupos de gêmeos que o pesquisador deve estudar para comparar os resultados?

- a) Gêmeos idênticos criados juntos e gêmeos fraternos criados juntos.
- b) Gêmeos fraternos criados juntos e gêmeos fraternos criados separados.
- c) Gêmeos idênticos criados separados e gêmeos fraternos criados separados.
- d) Gêmeos fraternos criados juntos e gêmeos idênticos criados separados.
- e) Gêmeos idênticos criados juntos e gêmeos fraternos criados separados.

09 - Geralmente, caules subterrâneos que acumulam substâncias nutritivas, denominados tubérculos, são confundidos como sendo raízes tuberosas que também acumulam reserva de amido. Um caso típico desse equívoco seria o de classificar a batata-inglesa como raiz tuberosa. Qual das alternativas apresenta uma característica que diferencia um tubérculo de uma raiz tuberosa?

- a) O tubérculo possui pêlos absorventes para a absorção de água.
- b) A raiz tuberosa possui gemas axilares para o crescimento de ramos.
- c) O tubérculo possui coifa para proteger o meristema de crescimento.
- d) A raiz tuberosa possui gemas apicais para desenvolver novas raízes.
- e) O tubérculo possui gemas laterais para desenvolver ramos e folhas.

10 - Numa árvore angiosperma de 5 metros de altura, um indivíduo escreveu com canivete o seu nome a 1 metro do nível do solo. Após 10 anos, o indivíduo retornou ao local e constatou que a árvore atingira o triplo da altura. A que distância do solo está a inscrição com o nome do indivíduo, decorridos esses 10 anos?

- a) 1 metro
- b) 3 metros
- c) 5 metros
- d) 10 metros
- e) 15 metros

11 - De janeiro a outubro de 2002, a Secretaria Municipal de Saúde de Londrina contabilizou 69 casos de leishmaniose, enfermidade também conhecida como úlcera de Bauru. De acordo com os dados de epidemiologia dessa Secretaria, a zona rural ainda é a área de maior incidência da doença. Analise as seguintes medidas preventivas para diminuir a ocorrência de leishmaniose.

- I. Combate ao vetor.
- II. Combate ao agente patogênico.
- III. Acesso da população ao saneamento básico.
- IV. Cuidados com a higiene pessoal e dos alimentos.

Assinale a alternativa que contém a(s) medida(s) correta(s).

- a) Apenas I.
- b) Apenas II.
- c) Apenas III e IV.
- d) Apenas I e II.
- e) Apenas II, III e IV.

12 - Em um ribeirão foram pescados dois peixes muito semelhantes, exceto pela coloração das nadadeiras. Um biólogo informou que pertenciam ao mesmo gênero; eram, porém, de espécies diferentes e apresentavam dietas distintas. O peixe com as nadadeiras claras alimentava-se de moluscos e crustáceos que viviam no fundo do ribeirão, e o outro, cujas nadadeiras eram avermelhadas, comia folhas de plantas e insetos aquáticos.

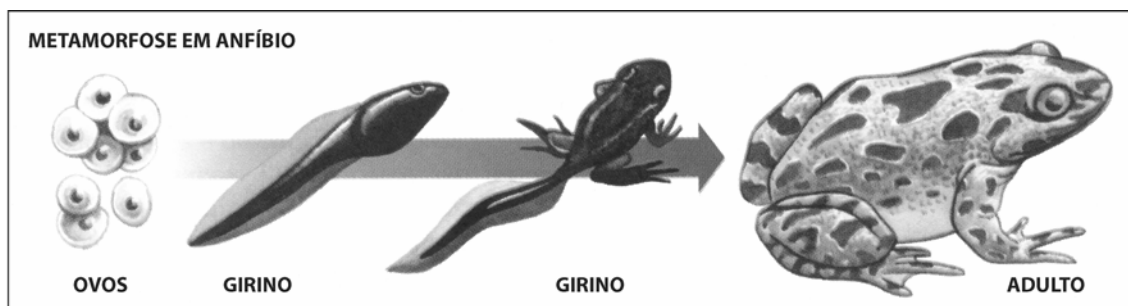
Com base nessas informações, é correto afirmar:

- a) Os dois peixes viviam em habitats diferentes, mas ocupavam o mesmo nicho.
- b) Os dois peixes viviam no mesmo habitat e ocupavam o mesmo nicho.
- c) Os dois peixes viviam em habitats diferentes e ocupavam nichos diferentes.
- d) Os dois peixes viviam no mesmo habitat, mas ocupavam nichos diferentes.
- e) Os dois peixes viviam no mesmo nicho, mas ocupavam habitats diferentes.

13 - A respiração e a circulação nos insetos sustentam a alta demanda metabólica desses animais durante o voo. Além disso, a respiração traqueal é uma importante adaptação dos insetos para a vida terrestre. Sobre as relações fisiológicas entre os processos respiratório e circulatório nos insetos, é correto afirmar:

- a) O sistema circulatório aberto contém hemocianina, pigmento respiratório que facilita o transporte de oxigênio do sistema traqueal para os tecidos.
- b) O sistema traqueal conduz oxigênio diretamente para os tecidos e o dióxido de carbono em direção oposta, o que torna a respiração independente de um sistema circulatório.
- c) O sistema circulatório fechado contém hemoglobina e é fundamental para o transporte de oxigênio do sistema traqueal para os tecidos.
- d) O sistema traqueal conduz oxigênio da hemolinfa para os tecidos, o que torna a respiração dependente de um sistema circulatório.
- e) O sistema circulatório aberto, apesar de não conter pigmentos respiratórios, é fundamental para o transporte de oxigênio do sistema traqueal para os tecidos.

14 - O esquema a seguir representa as fases de desenvolvimento de um anfíbio anuro.



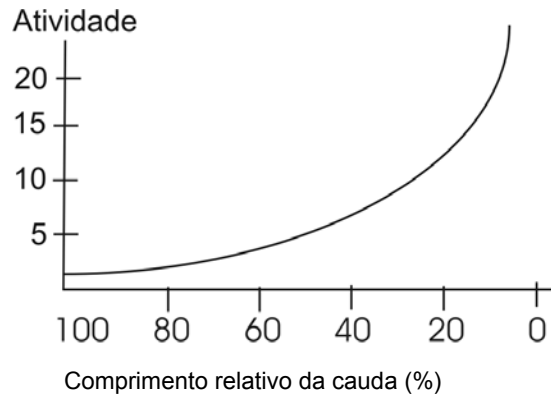
Sobre esse processo, analise as seguintes afirmativas:

- I. Na fase larval, a respiração é cutânea e na fase adulta, é branquial.
- II. Na fase larval, o principal excreta nitrogenado é amônia e na adulta, é uréia.
- III. Os ovos possuem casca impermeável para evitar a dessecação.
- IV. Na cadeia alimentar, o girino geralmente é considerado consumidor primário e o adulto é consumidor secundário.

Assinale a alternativa que contém apenas as afirmativas corretas.

- a) I e II.
- b) II e III.
- c) II e IV.
- d) III e IV.
- e) I, III e IV.

15 - No gráfico a seguir observa-se a relação entre a atividade enzimática de uma organela presente nas células da cauda dos girinos e a variação no comprimento relativo da cauda desses animais durante o seu desenvolvimento.



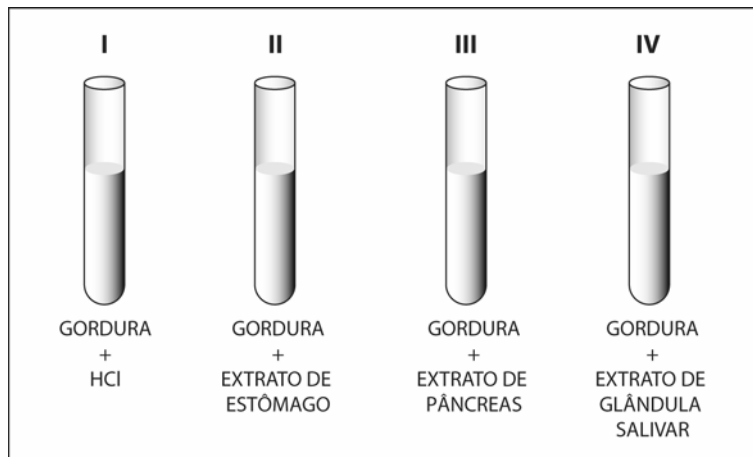
Sobre a redução da cauda desses girinos, analise as seguintes afirmativas:

- I. A atividade das enzimas é máxima no início da regressão da cauda desses anfíbios.
- II. A regressão no tamanho da cauda dos girinos ocorre por ação de enzimas digestivas, conhecidas como hidrolases.
- III. As enzimas que atuam na digestão da cauda dos girinos foram sintetizadas no interior do retículo endoplasmático rugoso.
- IV. A ausência de lisossomos nas células da cauda dos girinos, no início do seu desenvolvimento, impediria a diminuição no tamanho da cauda desses anfíbios.

Das afirmativas acima, são corretas:

- a) Apenas I e III.
- b) Apenas II e IV.
- c) Apenas I e IV.
- d) Apenas I, II, e III.
- e) Apenas II, III e IV.

16 - No esquema a seguir, estão representados 4 tubos de ensaio com os seus componentes.

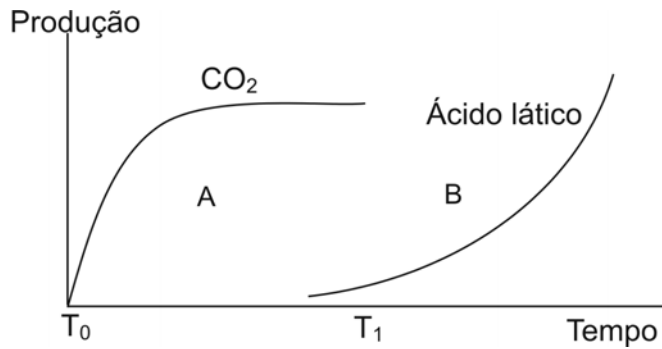


O material retirado de determinado órgão do rato foi adicionado aos tubos de ensaio e após 1 hora, a 38 °C, verificou-se que apenas no tubo III ocorreu digestão de gordura.

Assinale a alternativa que indica, respectivamente, de qual órgão do rato foi retirado o material adicionado aos tubos e qual enzima digestiva participou no processo.

- a) Intestino delgado e tripsina.
- b) Vesícula biliar e lipase.
- c) Intestino delgado e quimiotripsina.
- d) Vesícula biliar e amilase.
- e) Intestino delgado e pepsina.

17 - No gráfico a seguir observa-se a produção de CO₂ e ácido láctico no músculo de um atleta que está realizando atividade física.



Sobre a variação da produção de CO₂ e ácido láctico em A e B, analise as seguintes afirmativas.

- I. A partir de T₁ o suprimento de O₂ no músculo é insuficiente para as células musculares realizarem respiração aeróbica.
- II. O CO₂ produzido em A é um dos produtos da respiração aeróbica, durante o processo de produção de ATP (trifosfato de adenosina) pelas células musculares.
- III. Em A as células musculares estão realizando respiração aeróbica e em B um tipo de fermentação.
- IV. A partir de T₁ a produção de ATP pelas células musculares deverá aumentar.

Das afirmativas acima, são corretas:

- a) Apenas I e II.
- b) Apenas III e IV.
- c) Apenas I, II e III.
- d) Apenas I, II e IV.
- e) Apenas II, III e IV.

18 - Qual das organelas celulares mencionadas abaixo possui menor valor adaptativo para microorganismos que habitam os fundos dos oceanos?

- a) Vacúolo.
- b) Mitocôndria.
- c) Ribossomo.
- d) Cloroplasto.
- e) Centríolo.

19 - No caso de acidentes com usinas nucleares, seus efeitos vão depender do tipo e da quantidade de radiação que chega ao organismo. Por exemplo, o estrôncio 90 tem uma meia-vida de 28 anos, tempo suficiente para se inserir nas cadeias alimentares e se acumular nos organismos vivos. Assim, após alguns meses decorridos de um acidente em uma usina nuclear em região litorânea, qual dos organismos mencionados abaixo teria acumulado mais estrôncio 90?

- a) Algas pardas.
- b) Aves piscívoras.
- c) Ouriços do mar.
- d) Peixes planctófagos.
- e) Micro-crustáceos planctônicos.

20 - O Brasil apresenta diversos tipos de biomas. Relacione os biomas a seguir com as características de sua vegetação.

- I. Floresta Amazônica
- II. Cerrado
- III. Caatinga
- IV. Manguezal

- () Árvores baixas e arbustos que perdem as folhas periodicamente. Plantas xeromórficas.
- () Árvores com raízes escora e pneumatóforos. Ausência de vegetação herbácea.
- () Árvores de grande porte e ampla diversidade de espécies.
- () Árvores de pequeno porte e arbustos distribuídos de forma esparsa. Caules tortuosos com casca espessa e raízes profundas.

Assinale a alternativa que apresenta, de cima para baixo, a seqüência correta.

- a) III, I, IV e II.
- b) II, IV, III e I.
- c) II, IV, I e III.
- d) II, I, III e IV.
- e) III, IV, I e II.

HISTÓRIA

21 - “(...) Graco parecia ter chegado ao ponto em que, ou renunciava completamente ao plano, ou começava uma revolução: escolheu a última hipótese. Rompeu relações com o colega e apresentou-se diante da multidão reunida perguntando-lhe se um tribuno que se opunha à vontade do povo não devia ser destituído de seu cargo. A assembléia do povo, habituada a ceder a todas as propostas que lhe eram apresentadas, e composta na maior parte do proletariado agrícola que emigrara do campo estando pessoalmente interessada no voto da lei, deu resposta quase unanimemente favorável. (...) Para obter esta reeleição inconstitucional, meditava ainda novas reformas. (...) O Senado reuniu-se no templo da Fidelidade. (...) Quando Tibério levou a mão à frente para indicar ao povo que sua cabeça estava ameaçada, comentou-se que ele pedira ao povo para coroá-lo com o diadema. O cônsul Cévola foi instado a deixar que se matasse o traidor. (...) Morreram com ele cerca de trezentas pessoas.” (MOMMSEN, Theodor. *História de Roma*. Excertos. Rio de Janeiro: Opera Mundi, 1973. p. 174-175.)

Com base no texto e nos conhecimentos sobre a questão agrária na República Romana, é correto afirmar:

- a) A morte de Tibério Graco é narrada como resultado de uma tentativa de impedir a reunião do Senado no templo da Fidelidade.
 - b) A lei que Tibério Graco desejava aprovar beneficiava os ricos ocupantes de terras públicas e ampliava ao máximo o apoio político aos seus propósitos.
 - c) O autor do texto expressa seu preconceito em relação às constantes decisões da plebe urbana, contrárias aos interesses dos tribunos.
 - d) Os opositores mataram Graco para impedir a aprovação da lei que os obrigaria a devolver suas terras ao Estado, para posterior distribuição aos pobres.
 - e) O texto elogia a Assembléia Romana por discutir, democraticamente, os interesses comuns da plebe e da aristocracia.
- 22 - “Como o rei, cada um dos sires (senhores) sente-se encarregado de manter em nome de Deus a paz e a justiça, e toda a rede de direitos que lhe permite cumprir esse ofício converge para seu castelo. A torre, antigamente símbolo da cidade soberana, da majestade real (...) aparece agora como símbolo de um poder pessoal.” (DUBY, Georges. *No Tempo das Catedrais: a arte e a sociedade* (980-1420). Lisboa: Imprensa Universitária, 1979. p. 44.)

Sobre as relações e as atribuições sociais no século XI, período de plenitude do feudalismo no Ocidente Europeu, é correto afirmar:

- a) Os senhores encarnavam o poder de governo, impondo a sua força armada e controlando a administração da justiça e a cobrança de impostos.
 - b) Submetidos ao regime de escravidão, os servos eram impedidos de ter acesso às terras comunais.
 - c) A nobreza, sem função definida, passou por acelerado processo de desestruturação, que levou à sua substituição pelo clero na sociedade feudal.
 - d) A reação contra o pagamento dos impostos senhoriais gerou grande contingente de camponeses desenraizados, que se organizavam em bandos armados a serviço dos nobres contrários ao processo de feudalização.
 - e) As cidades simbolizavam o poder dos senhores feudais e submetiam a nobreza à sua legislação centralizadora.
- 23 - **Para compreender a expansão marítima nos séculos XV e XVI, é necessário considerar a importância da cartografia. Sobre o tema, é correto afirmar que os cartógrafos representaram o mundo:**

- a) Valendo-se de conhecimentos acumulados e transmitidos por meio da filosofia, da astronomia e da experiência concreta.
 - b) Desconhecendo o valor político de sua arte de cartografar para os rumos da rivalidade castelhana-portuguesa.
 - c) Ignorando a hagiografia medieval e as crenças na existência de monstros marinhos e de correntes de ventos nos oceanos.
 - d) Confirmando os conhecimentos estáticos sobre o planeta, resultantes da observação direta dos espaços desconhecidos.
 - e) Anotando nos mapas pontos geográficos, longitudes e latitudes com exímia precisão, em função dos eficazes instrumentos de navegação.
- 24 - “Sem colonização não há uma boa conquista, e se a terra não é conquistada, as pessoas não serão convertidas. Portanto, o lema do conquistador deve ser colonizar.” (GÓMARA, Francisco López de. *Historia General de las Indias*. Madrid, 1852. p. 181. citado por BETHEL, Leslie (Org.). *História da América Latina*. 2. ed. São Paulo: Edusp; Brasília: Fundação Alexandre Gusmão, 1988. p. 135.)

Com base nas palavras do historiador e nos conhecimentos sobre a conquista da América Espanhola, é correto afirmar:

- a) A boa conquista, para o autor, limitava-se a assaltar, a saquear e a tomar posse de objetos fáceis de transportar, como ouro, prata e pedras preciosas.
- b) A colonização da América foi uma ação militar e teve seqüência na conquista espiritual e na migração maciça de súditos espanhóis para dominar a terra.
- c) Para os espanhóis, que menosprezavam a condição de senhor, a ausência de mão-de-obra para trabalhar a terra não foi um obstáculo à colonização.
- d) A superioridade numérica de armamentos e a experiência tática dos espanhóis permitiram uma conquista pacífica e sem traumas.
- e) A conquista preservou as instituições nativas, conservando os níveis demográfico, econômico, social e ideológico das sociedades autóctones.

- 25 - “Os índios são obrigados a cuspir cada vez que falam em qualquer um de seus deuses. São obrigados a dançar danças novas, o Baile da Conquista e o Baile dos Mouros e Cristãos, que celebram a invasão da América e a humilhação dos infiéis. (...) Os índios fazem a Virgem desfilarem em andores de plumas, e chamando-a de Avó da Luz pedem todas as noites que ela traga o sol na manhã seguinte; mas com maior devoção veneram a serpente que ela esmaga com o pé. (...) Identificam-se com Jesus, que foi condenado sem provas, como eles; mas não adoram a cruz por ser símbolo de sua imolação, e sim porque a cruz tem a forma do fecundo encontro da chuva com a terra.” (GALEANO, Eduardo. *As Caras e as Máscaras*. Rio de Janeiro: Nova Fronteira, 1985. p. 75.)

Com base no texto e nos conhecimentos sobre a conquista na América Espanhola, considere as seguintes afirmativas:

- I. Os espanhóis fizeram um grande esforço para suplantar as religiões indígenas, que, para eles, ofendiam o Cristianismo, considerado pelos conquistadores a única religião.
- II. O mundo pré-colombiano caracterizou-se pela uniformidade religiosa das culturas nativas, que eram fundamentalmente monoteístas.
- III. No campo religioso inexistiu uma cisão entre o universo europeu e o indígena, na medida em que as religiões autóctones foram substituídas pela simbologia do culto ocidental.
- IV. Em diversas bulas, o papa conferiu aos Reis Católicos o poder de evangelizar os “infiéis” nas terras descobertas, revelando a tutela da Igreja pelo poder monárquico.

Assinale a alternativa correta.

- a) Apenas as afirmativas I, II e III são corretas.
- b) Apenas as afirmativas I e IV são corretas.
- c) Apenas as afirmativas II, III e IV são corretas.
- d) Apenas as afirmativas III e IV são corretas.
- e) Apenas as afirmativas I, III e IV são corretas.

- 26 - O Renascimento, amplo movimento artístico, literário e científico, expandiu-se da Península Itálica por quase toda a Europa, provocando transformações na sociedade. Sobre o tema, é correto afirmar:

- a) O racionalismo renascentista reforçou o princípio da autoridade da ciência teológica e da tradição medieval.
- b) Houve o resgate, pelos intelectuais renascentistas, dos ideais medievais ligados aos dogmas do catolicismo, sobretudo da concepção teocêntrica de mundo.
- c) Nesse período, reafirmou-se a idéia de homem cidadão, que terminou por enfraquecer os sentimentos de identidade nacional e cultural, os quais contribuíram para o fim das monarquias absolutas.
- d) O humanismo pregou a determinação das ações humanas pelo divino e negou que o homem tivesse a capacidade de agir sobre o mundo, transformando-o de acordo com sua vontade e interesse.
- e) Os estudiosos do período buscaram apoio na observação, no método experimental e na reflexão racional, valorizando a natureza e o ser humano.

- 27 - “Oh se a gente preta tirada
das brenhas da sua Etiópia,
e passada ao Brasil,
conhecera bem quanto deve a Deus
e à sua Santíssima Mãe
por este que pode parecer
desterro, cativo e desgraça
e não é senão milagre
e grande milagre!” (Antonio Vieira, 1633.)

As palavras do Padre Vieira representam as inquietações e hesitações de autoridades régias, eclesiásticas e de colonos frente à mais emblemática rebelião de quilombos coloniais, o Quilombo de Palmares – o “Estado Negro” encravado no Brasil escravista. Sobre o tema, é correto afirmar:

- a) No Brasil as comunidades remanescentes dos quilombos foram aniquiladas e com elas também a tradição oral dos povos africanos.
- b) Vieira e outros jesuítas justificaram e defenderam a escravidão dos negros, combinando a idéia de missão com a de ordem escravista.
- c) As tropas locais, instruídas pelos jesuítas, negociaram pacificamente a rendição dos mocambos da Serra da Barriga.
- d) O insucesso das diversas expedições contra Palmares não alterou a política de prevenção contra fugas e ajuntamentos de fugitivos.
- e) A palavra “milagre” usada por Vieira significa o triunfo da libertação dos negros do cativo.

- 28 - “O BRAZIL QUEM USA SOU EEUU” (Grafite escrito em um muro da cidade de São Paulo)

A frase irônica procura contextualizar a relação política entre os Estados Unidos da América e o Brasil desde os movimentos pela independência no continente. Sobre o tema, considere as seguintes afirmativas:

- I. A independência dos Estados Unidos, em 1776, incentivou os brasileiros que participaram de movimentos conspiratórios contra o poder colonial português.
- II. Os Estados Unidos da América obrigaram Portugal a reconhecer a independência do Brasil, visando obter para si vantagens comerciais e tributárias no continente europeu.
- III. A visão norte-americana do Pan-Americanismo, no século XIX, assegurou a independência econômica aos Estados americanos que conquistaram a liberdade política.
- IV. Os Estados Unidos foram um dos primeiros países a estabelecer relações diplomáticas e comerciais com os Estados independentes americanos, evidenciando a inter-relação da economia com a política.

Assinale a alternativa correta.

- a) Apenas as afirmativas I, II e III são corretas.
- b) Apenas as afirmativas II, III e IV são corretas.
- c) Apenas as afirmativas I e IV são corretas.
- d) Apenas as afirmativas II e III são corretas.
- e) Apenas as afirmativas I e III são corretas.

- 29 - “Certo gentil-homem francês sempre se assoa com a mão; coisa muito avessa a nosso costume. Defendendo seu gesto (e ele era famoso por seus bons achados), perguntou-me que privilégio tinha esse excremento sujo para que lhe preparássemos um belo pano delicado a fim de recebê-lo e depois, o que é mais, o dobrássemos e guardássemos conosco; (...) e o costume não me permitiu perceber essa estranheza, a qual, no entanto, consideramos tão horrível quando nos é relatada sobre outro país.” (MONTAIGNE, citado por CHARTIER, Roger (Org.) *História da vida privada 3: da Renascença ao século das luzes*. São Paulo: Companhia das Letras, 1991. p. 184.)

Essa narrativa de Montaigne, nos seus *Ensaio*s, I, XXIII, refere-se às transformações nos costumes entre os séculos XV e XVIII, que se efetuaram na Europa em ritmos e cronologias variáveis. Sobre esse movimento, é correto afirmar:

- As expressões de espontaneidade biológicas, afetivas e emocionais dos indivíduos permaneceram livres do controle coletivo e das proibições sociais.
 - Formas de sociabilidade, tal como o ato de comer à mesa, aceitavam à época comensais com apetites indiscretos, com seus ruídos e humores sem controle.
 - A aprendizagem das boas maneiras e das máximas morais esteve ausente das preocupações e dos conselhos dos pensadores.
 - Houve uma maior adequação às normas, que repousavam nas pressões exercidas pelo grupo mais prestigiado sobre cada indivíduo, mas também, e cada vez mais, na incorporação das regras sociais por parte deste.
 - A exigência do decoro foi banida das regras sociais, e os indivíduos podiam expor publicamente suas paixões e suas maneiras de agir na intimidade.
- 30 - “Há trezentos anos que o africano tem sido o principal instrumento da ocupação e da manutenção do nosso território pelo europeu, e que os seus descendentes se misturam com o nosso povo. Onde ele não chegou ainda, o país apresenta o aspecto com que surpreendeu aos seus primeiros descobridores. Tudo o que significa luta do homem com a natureza, conquista do solo para habitação e cultura, estradas e edifícios, canais e cafezais, a casa do senhor e a senzala dos escravos, igrejas e escolas, alfândegas e correios, telégrafos e caminhos de ferro, academias e hospitais, tudo, absolutamente tudo, que existe no país, como resultado do trabalho manual, como emprego de capital, como acumulação de riqueza, não passa de um doação gratuita da raça que trabalha à que faz trabalhar.” (NABUCO, Joaquim. *Minha formação*. Brasília: Editora UnB, 1981. p. 28-29.)

Com base no texto do integrante do parlamento no Brasil Império e nos conhecimentos sobre o trabalho escravo, é correto afirmar:

- Apesar de defender a instituição permanente da escravidão, Joaquim Nabuco destaca a presença fundamental da mão-de-obra livre no contexto do desenvolvimento econômico do Brasil Império.
 - Para o estadista, o fim da escravidão abalaria de forma irreversível a produção agrícola e o comércio no Império.
 - O parlamentar é enfático em suas opiniões sobre a relevância que teve o trabalho escravo para a economia e a sociedade brasileiras.
 - A persistência da escravidão no Brasil por três séculos resulta da submissão dos africanos e da ausência de lutas contra o rigor do cativeiro.
 - A condição de grande proprietário, desfrutada por Joaquim Nabuco, reflete-se em sua visão contrária ao reconhecimento da contribuição do negro para a cultura nacional.
- 31 - “Longe de serem uns monstros de espada, eles querem, majoritariamente, ser os portadores de um grande destino. Por mais que tenham passado populações inteiras pelo fio da espada – como Gallieni em seus primeiros tempos – ou as tenham queimado vivas – como Bugeaud na Argélia –, a seus olhos tais atos são apenas os meios necessários para a realização do projeto colonial [na África], essa missão civilizadora que substitui a evangelização tão cara aos conquistadores do século XVI.” (FERRO, Marc. *História das colonizações: das conquistas às independências – séculos XIII a XX*. Trad. Rosa Freire d’Aguiar. São Paulo: Companhia das Letras, 1996. p. 104.)

No texto acima, que trata da partilha e da conquista da África, no século XIX, o autor defende que:

- Os conquistadores fincavam suas bandeiras sem violar os direitos humanos da igualdade e da liberdade dos povos africanos.
 - Os conquistadores desprezavam a glória, o heroísmo e as riquezas decorrentes da grande obra civilizadora na África.
 - Os conquistadores tinham a convicção de encarnar a razão e a ciência e serem capazes de subjugar as sociedades africanas.
 - Os conquistadores conseguiram que triunfasse a idéia de um projeto colonial tirânico e violento, pois foram incapazes de cooptar lideranças políticas nativas.
 - Assim como Portugal, outros Estados europeus substituíram, na África, os canhões pelas missões evangelizadoras jesuíticas.
- 32 - “A tomada de impressões digitais, inventada em Bengala, durante o domínio britânico na Índia, buscou uma nova maneira segura de identificar os súditos britânicos coloniais. Francis Galton, pai da eugenia moderna, esperava poder provar que elas revelavam a ‘raça’ de cada indivíduo. Mas em 1892, foi forçado a admitir o fracasso: não havia diferenças sistemáticas entre as impressões digitais dos grupos.” (VINES, Gail. *Folha de S. Paulo*, 06 ago. 1995.)

Sobre o texto, é correto afirmar:

- Os ingleses confirmaram na Índia diferenças biológicas entre as raças através de experimentos científicos realizados no corpo humano.
- Na Índia, os súditos do Império Britânico, independentemente de suas origens, desconheciam ações de discriminação ou segregação.
- A principais potências européias estimulavam o desenvolvimento da ciência e da tecnologia, nas suas respectivas possessões coloniais, para beneficiar as populações locais.
- Na Índia, a associação entre os ensaios científicos e a dominação política buscava comprovar a superioridade dos ingleses sobre os demais povos.
- Na Ásia, o colonialismo aliou à busca de novos mercados para o capital a valorização dos atributos raciais dos povos colonizados.

33 - Nos textos a seguir, o jesuíta José de Anchieta e o escritor Euclides da Cunha apresentam imagens inusitadas do sertão brasileiro.

“O mal se espalha nos matos ou se esconde nas furnas e nos pântanos, de onde sai à noite sob as espécies da cobra e do rato, do morcego e da sanguessuga. Mas o perigo mortal se dá quando tais forças, ainda exteriores, penetram na alma dos homens.” (José de Anchieta citado por CHAUI, Marilena. *Brasil: mito fundador e sociedade autoritária*. São Paulo: Editora Fundação Perseu Abramo, 2000. p. 66.)

“É uma paragem impressionadora.

As condições estruturais da terra lá se vincularam à violência máxima dos agentes exteriores para o desenho dos relevos estupendos. O regime torrencial dos climas excessivos, sobrevindo de súbito, depois das insolações demoradas, e embatendo naqueles pendores, expôs há muito, arrebatando-lhes para longe todos os elementos degradados, as séries mais antigas daqueles últimos rebentos das montanhas (...), dispondo-se em cenários em que ressalta, predominantemente, o aspecto atormentado das paisagens. (...)

Dissociam-na [a terra] nos verões queimosos; degradam-na [a terra] nos invernos torrenciais.” (CUNHA, Euclides da. *Os sertões*. Ed. crítica org. por Walnice N. Galvão. São Paulo: Ática, 1998. p. 26.)

Com base nos textos, assinale a alternativa que apresenta a compreensão dos autores sobre o sertão.

- a) Para Anchieta o sertão é o lugar do mal, onde o demônio fica à espreita pronto para atacar, enquanto para Euclides é uma terra atormentada e martirizada em sua essência.
- b) Para Euclides o sertão é a confirmação da descrição idílica de Caminha, enquanto para Anchieta é o purgatório, onde jamais a palavra de Deus frutificará.
- c) Tanto para o jesuíta quanto para o escritor o sertão é o espaço do sertanejo fraco, que foge da luta contra a fúria dos elementos da natureza.
- d) Tanto para o jesuíta quanto para o escritor o sertão é o lugar da promessa de riqueza, que pode redimir os males da sociedade brasileira.
- e) Para Euclides o sertão é o espaço do encontro harmonioso entre o homem e a natureza, enquanto para Anchieta é o lugar das delícias do paraíso cristão.

34 - A escravidão marcou profundamente as relações inter-raciais no tecido social do Brasil e dos Estados Unidos. Sobre as relações inter-raciais na atualidade, é correto afirmar:

- a) No Brasil, os negros sofrem segregação e restrições legais formalizadas na limitação da escolha de moradias e do acesso a locais públicos.
- b) Nos Estados Unidos, existe uma harmoniosa convivência entre negros e brancos nos diversos espaços públicos.
- c) Os conceitos e categorias elaborados para analisar e descrever as relações sociais entre negros e brancos devem ser os mesmos para os dois países.
- d) No Brasil a tese da “democracia racial” está consolidada, sendo que o preconceito e a discriminação racial restringem-se ao passado colonial.
- e) As diferenças entre negros e brancos, que estruturam a sociedade brasileira, são alimentadas pelas desigualdades de classes e pelos preconceitos raciais.

35 - Nos textos a seguir, o narrador e a intelectual problematizam a experiência da ditadura militar na Argentina, instaurada em 1976.

“Sou o filho mais velho. Meus irmãos mais moços têm seis e quatro anos e faz agora oito meses que nós vimos papai pela última vez. Um dia muito frio e muito triste, de manhã cedo, um grupo de homens, que dizia pertencer à polícia, entrou em nossa casa armado de pistolas e levou nosso pai e depois disso não tivemos nenhuma notícia dele (...)” (Argentina. *Terror Fascista Contra Crianças. Dossiê da Anistia Internacional*. p. 6-7. Liga Brasileira de Defesa dos Direitos Humanos, 1980.)

“Há romances, poemas, depoimentos (...) [que] são obstáculos contra o convite ao esquecimento, contra sua possibilidade ou imposição; teimam em opor-se à hipocrisia de uma reconciliação amnésica que pretende calar o que, de qualquer modo, já se sabe.” (SARLO, Beatriz. *Paisagens imaginárias*. São Paulo: Edusp, 1997. p. 32.)

Dado o confronto entre o presente e o passado recente na Argentina, o narrador e a intelectual conferem à memória e à história o trabalho de:

- a) Fazer esquecer a violência dos militares argentinos contra homens, mulheres e crianças, para amenizar os conflitos políticos dos tempos da ditadura.
- b) Fornecer subsídios às classes médias argentinas para fortalecer sua luta contra a atual política econômica de recessão.
- c) Construir uma relação com o passado que permita aos argentinos restabelecer a continuidade entre as experiências dos tempos da ditadura e o presente.
- d) Fazer da ditadura militar um motivo de reconciliação com o passado político argentino para calar os atingidos pela repressão.
- e) Falsificar provas da violência imposta à população argentina para que seus executores sejam condenados e punidos.

Observe a figura e responda à questão 36.



36 - Com base na charge e nos conhecimentos sobre a atual Constituição brasileira, é correto afirmar:

- a) As dificuldades de acesso aos direitos sociais elementares (moradia, saúde e alimentação) têm origem na forma como a Constituição atual foi elaborada.
- b) A Constituição de 1988 introduziu uma série de benefícios sociais que privilegiaram as famílias dos estratos médios em detrimento da população em geral.
- c) O texto da última Constituição assegura em sua formulação jurídica conquistas sociais e individuais aos cidadãos brasileiros.
- d) Os dispositivos da Constituição de 1988 revogaram a legislação conhecida como CLT (Consolidação das Leis do Trabalho).
- e) O texto atual da Constituição é omissivo em relação ao tema dos direitos da criança e do adolescente no Brasil.

37 - Em 1949, o *Jornal Voz Operária* estampava a seguinte manchete: "Terror e banditismo no Norte do Paraná. Cresce de intensidade a luta dos camponeses pela terra." (*Jornal Voz Operária*, 29 out. 1949, n. 23, p. 1.)


No Brasil, os conflitos pela terra não são recentes, conforme se pode verificar na manchete citada acima. Sobre o tema, assinale a alternativa correta.

- a) Chico Mendes, seringueiro e ecologista, presidente do Sindicato dos Trabalhadores Rurais de Xapuri, no estado do Acre, foi assassinado a mando de proprietários da região.
- b) A reforma agrária empreendida pelos diversos governos do Pará enfraqueceu as lutas pelas terras no estado.
- c) As Ligas Camponesas, no estado de Pernambuco, organizaram-se para combater as levas de trabalhadores que vinham do litoral em busca de terras no interior.
- d) As terras indígenas, existentes na região Norte do país, permaneceram livres de intrusão devido à política disciplinadora dos garimpos realizada pelos governos brasileiros.
- e) Os posseiros do Norte do Paraná beneficiaram-se da legislação agrária estadual que implementou a reforma fundiária na região.

38 - "Pelos campos a fome em grandes plantações/ Pelas ruas marchando indecisos cordões/ Ainda fazem da flor seu mais forte refrão/ E acreditam nas flores vencendo o canhão/ Há soldados armados, amados ou não/ Quase todos perdidos, de armas na mão/ Nos quartéis lhes ensinam uma antiga lição/ De morrer pela pátria e viver sem razão/ Nas escolas, nas ruas, campos, construções/ Somos todos iguais, braços dados ou não/ Os amores na mente, as flores no chão/ A certeza na frente, a história na mão/ Caminhando e cantando e seguindo a canção/ Aprendendo e ensinando uma nova lição / Vem, vamos embora, que esperar não é saber/ Quem sabe faz a hora, não espera acontecer (Refrão)."

A canção intitulada "Pra não dizer que não falei das flores", de Geraldo Vandré, foi interpretada no Festival da Canção de 1967. Sobre ela, é correto afirmar:

- a) Constituiu-se em veículo de propaganda política do regime militar, no intuito de forjar o patriotismo.
- b) Tornou-se hino de contestação dos movimentos sociais a partir da década de 1970, assinalando a presença de novos sujeitos sociais no cenário político.
- c) Defende que a luta social depende da emergência de grandes líderes políticos.
- d) Sua letra está desvinculada da realidade nacional, tendo por objetivo mudanças no plano estético da canção brasileira.
- e) Conclama os militantes a desistirem da luta pela justiça social nos seus respectivos espaços de atuação política.



39 - A imagem acima foi retirada de uma flâmula produzida pelo Centro Acadêmico da Faculdade Nacional de Medicina da Universidade do Brasil, hoje UFRJ, por volta de 1968. Sobre o movimento estudantil durante a ditadura militar, é correto afirmar:

- a) A relação política de cooperação entre o governo militar e os estudantes deu suporte às mobilizações organizadas pela União Nacional dos Estudantes (UNE).
- b) O endurecimento do regime contra o movimento estudantil foi estimulado pela decretação do Ato Institucional Número 5.
- c) A morte e as prisões de estudantes resultaram da ofensiva militar contra a privatização do ensino superior no Brasil.
- d) Os Centros Acadêmicos universitários aceitaram passivamente a desestruturação das organizações estudantis.
- e) A clandestinidade do movimento estudantil, desde o início da ditadura, impossibilitou formas bem-humoradas de comunicação entre os universitários.

40 - “Vapor barato, um mero serviçal do narcotráfico,
foi encontrado na ruína de uma escola em construção
Aqui tudo parece que é construção e já é ruína
Tudo é menino e menina no olho da rua
O asfalto, a ponte e o viaduto ganindo pra lua
Nada continua
E o cano da pistola que as crianças mordem
Reflete todas as cores da paisagem da cidade que é muito mais bonita
E muito mais intensa do que um cartão postal
Alguma coisa está fora da ordem
Fora da nova ordem mundial”

(Caetano Veloso, Música “Fora da Ordem”.)

A partir da leitura da canção, é correto afirmar:

- a) A letra da música destaca o papel da escola na contenção do tráfico de drogas realizado pelos adolescentes na periferia.
- b) A nova ordem mundial, para o compositor, implementou políticas para estabilizar a economia e resolver os graves problemas sociais do país.
- c) A letra da música atribui às grandes obras realizadas na cidade a responsabilidade pelos males cotidianos nas favelas.
- d) O compositor tematiza o tráfico de drogas, a miséria e a violência presentes no cotidiano de alguns setores da população urbana.
- e) A nova ordem mundial, para o compositor, melhorou o cotidiano das populações que habitam as regiões cariocas deterioradas, ao reduzir a violência e o tráfico de drogas e armas.