

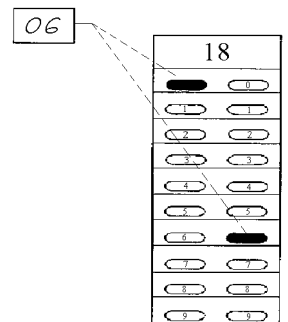
# 2º VESTIBULAR UEM 2003

## PROVA 1 GEOGRAFIA E HISTÓRIA

N.º DE INSCRIÇÃO:  -

### INSTRUÇÕES PARA A REALIZAÇÃO DA PROVA

1. Verifique se este caderno contém 30 questões e/ou qualquer tipo de defeito. Qualquer problema, avise, imediatamente, o fiscal.
2. Verifique se o número do gabarito deste caderno corresponde ao constante da etiqueta fixada em sua carteira. Se houver divergência, avise, imediatamente, o fiscal.
3. Sobre a folha de respostas.
  - Confira os seguintes dados: nome do candidato, número de inscrição, número da prova e o número do gabarito.
  - Assine no local apropriado.
  - Preencha-a, cuidadosamente, com caneta esferográfica azul escuro, escrita grossa (tipo Bic cristal), pois a mesma não será substituída em caso de erro ou de rasura.
  - Para cada questão, preencha sempre dois alvéolos: um na coluna das dezenas e um na coluna das unidades, conforme exemplo ao lado: questão **18**, resposta **06**.
4. No tempo destinado a esta prova (4 horas), está incluído o de preenchimento da folha de respostas.
5. Transcreva as respostas somente na folha de respostas.
6. Ao término da prova, levante o braço e aguarde atendimento. Entregue este caderno, a folha de respostas e o caderno de Redação ao fiscal.



UEM

Comissão Central do Vestibular Unificado

GABARITO 1

# GEOGRAFIA

01 – Com respeito aos oceanos e aos mares, é correto afirmar que

- 01) o mecanismo das marés decorre da atração gravitacional exercida sobre a crosta da Terra, pela Lua e pelo Sol. Basicamente, a cada doze horas, a maré sobe, levando outras doze horas para atingir seu nível mais baixo.
- 02) a dinâmica das correntes marítimas está relacionada às diferenças de temperatura das águas oceânicas, à disposição do relevo submarino e ao movimento de rotação da Terra.
- 04) a corrente marítima do Golfo exerce influência no clima da Europa Norte Ocidental, tropicalizando-o.
- 08) as ondas ou vagas oceânicas são decorrentes do movimento de rotação da Terra no sentido oeste-leste.
- 16) as ondas marítimas de grande envergadura e forte poder destrutivo estão associadas à ocorrência de maremotos ou de erupções vulcânicas submarinas.
- 32) a corrente fria de Humboldt, ao provocar a queda da temperatura do ar, reduz a evaporação das águas oceânicas e, conseqüentemente, também reduz as chuvas em grande parte da faixa costeira do Chile e do Peru.

02 – Assinale a(s) alternativa(s) correta(s) sobre as áreas turísticas e de preservação do Paraná.

- 01) A cidade histórica de Morretes localiza-se às margens do rio Nhundiaquara, que deságua na baía de Paranaguá.
- 02) O Parque Nacional do Superagüi, formado pelas ilhas das Peças e do Superagüi, apresenta formações arenosas e manguezais.
- 04) O Parque Estadual de Vila Velha é formado por rochas intrusivas. O aspecto de ruína deve-se à grande antigüidade das formações rochosas cristalinas.
- 08) O Parque Estadual do Guartelá apresenta formações areníticas. A principal atração é o *canyon* formado pelo rio Iapó.
- 16) A Ilha do Mel é classificada como Reserva da Biosfera e situa-se na entrada da baía de Paranaguá.
- 32) As Cataratas do Iguaçu apresentam o máximo volume de água entre julho e setembro, que corresponde à estação mais chuvosa, nas zonas subtropicais e temperadas do hemisfério Sul.
- 64) A Estrada da Graciosa liga o planalto ao litoral, através da serra do Mar.

03 – A produção de energia a partir da força hidráulica é considerada uma atividade ecologicamente "limpa", porque não polui a atmosfera. No entanto, pode provocar outros tipos de impacto ao ambiente. Assinale o que for correto sobre a hidreletricidade e as demais fontes de energia e os seus efeitos sobre o planeta.

- 01) A energia hidráulica é considerada uma fonte renovável, assim como a energia geotérmica, que aproveita a biomassa vegetal da lenha e do carvão mineral.
- 02) Na produção de hidreletricidade, um fator fundamental para o aproveitamento da energia gerada é a criação da rede de distribuição de energia.
- 04) No Brasil, a região Norte é a que possui o maior potencial hídrico necessário à geração de energia; mas é a região Sudeste que apresenta a maior capacidade elétrica instalada e que é responsável pelo maior consumo de energia.
- 08) A formação do reservatório de água de uma usina hidrelétrica gera impacto ambiental devido ao alagamento. No Pará, a usina de Tucuruí, no rio Tocantins, foi responsável pela submersão de extensas áreas de floresta.
- 16) A queima de combustíveis fósseis, como o carvão e o petróleo, foi o principal fator responsável pelo aumento de dióxido de carbono na atmosfera.
- 32) O efeito estufa decorre do acúmulo de gases e de aerossóis na atmosfera. Esses poluentes provocam a retenção do calor junto ao solo, devido à destruição da camada de ozônio.
- 64) A chuva ácida resulta da presença de poluentes atmosféricos produzidos, principalmente, pelas atividades industriais em geral. Os seus efeitos podem ser sentidos mesmo em locais distantes do ponto em que foram gerados os poluentes.

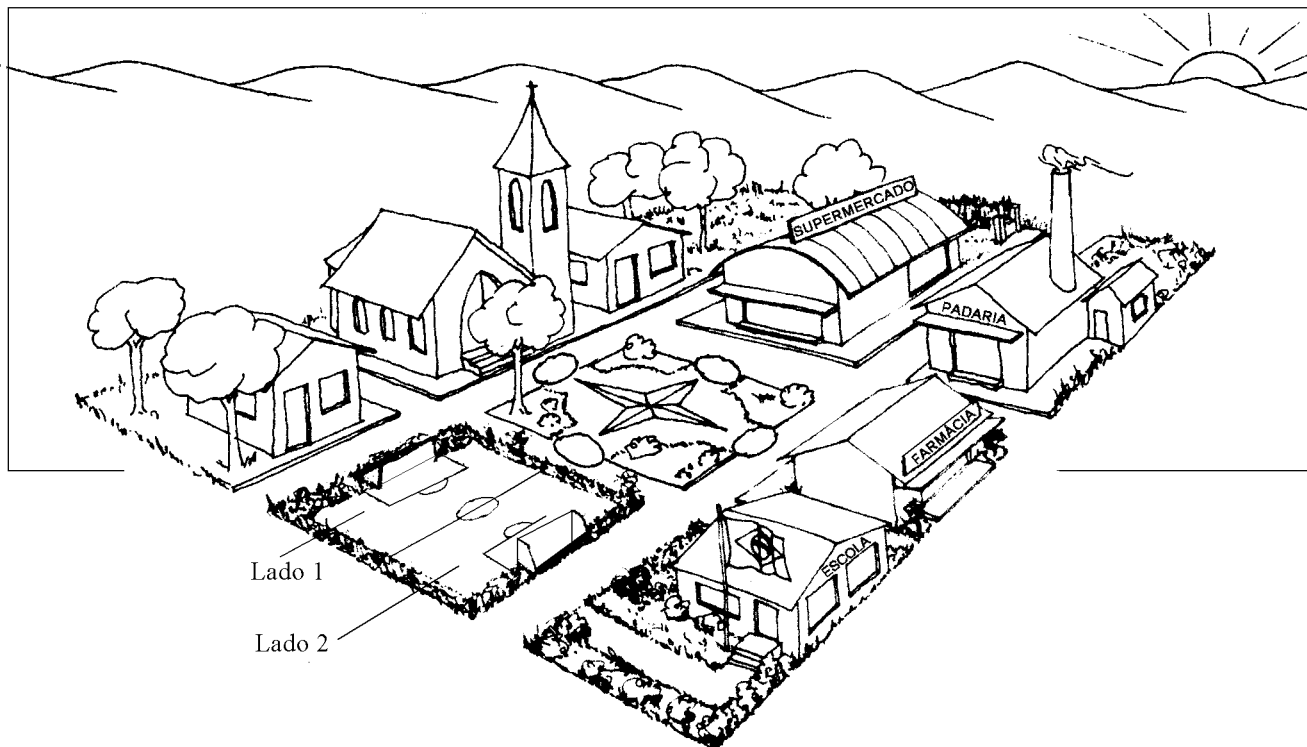
04 – Na China, os idosos correspondem a mais de dez milhões de pessoas; nos Estados Unidos, são cerca de oito milhões e meio e, na Índia, são mais de cinco milhões. Assinale o que for correto sobre o "envelhecimento" da população e sobre a evolução das taxas de natalidade.

- 01) O número de idosos vem aumentando, dentre outros motivos, devido aos avanços da medicina e também em função da melhor assistência dada à saúde.
- 02) No Brasil, embora o número de idosos venha aumentando, as taxas de natalidade ainda são crescentes, resultando em um aumento gradativo da população jovem, isto é, entre zero e dezenove anos.
- 04) Países europeus como a França e a Alemanha têm apresentado, no pós-guerra, um aumento da população jovem, alterando o antigo perfil de países com taxas decrescentes de natalidade, que prevaleceu até o segundo conflito mundial.
- 08) As mulheres compõem menos de 50% da população idosa, na maioria dos países. Isso ocorre porque a expectativa de vida é menor entre as mulheres.
- 16) Nos países desenvolvidos, a pirâmide de idades apresenta uma base estreita, a parte central é mais larga, devido à progressiva redução das taxas de mortalidade na fase adulta, e o topo é mais largo do que nas pirâmides de países subdesenvolvidos, devido à alta qualidade de vida.
- 32) A China, a Índia e os Estados Unidos são países que apresentam grande número de idosos, principalmente devido aos programas de assistência à terceira idade e à valorização da mulher.
- 64) Nos países menos desenvolvidos da África, a pirâmide apresenta uma base larga, afunilando-se, progressivamente, em decorrência das altas taxas de mortalidade. O topo é muito estreito, em virtude da baixa expectativa de vida.

05 – Os tecnopólos são centros irradiadores das inovações tecnológicas. Assinale o que for correto sobre esses novos pólos industriais e sobre as inovações no mundo globalizado.

- 01) Os tecnopólos concentram, por exemplo, indústrias ligadas à informática, à robótica, às telecomunicações e à biotecnologia, todas elas envolvendo alta tecnologia.
- 02) A Nasdaq é uma bolsa de ações de base eletrônica, que funciona através de um pregão virtual. Ela transmite boletins sobre as cotações das ações na bolsa de valores.
- 04) O vale do Silício, na Califórnia, abriga, principalmente, empresas do ramo bélico e aeroespacial.
- 08) São José dos Campos, no Estado de São Paulo, constitui um centro de pesquisa e industrial de alta tecnologia. A cidade abriga a Empresa Brasileira de Aeronáutica (Embraer) e o Instituto Nacional de Pesquisas Espaciais (Inpe).
- 16) O pólo industrial de Campinas, a exemplo dos pólos industriais de alta tecnologia norte-americanos, frutificou em torno da Unicamp e de outras instituições de ensino e de pesquisa, formadoras de profissionais nas áreas de engenharia e informática, dentre outras.
- 32) O Brasil, assim como a Índia e outros países em desenvolvimento, exporta, para os países desenvolvidos industrializados, profissionais altamente qualificados que procuram melhores condições de emprego. Essa "fuga de cérebros" é prejudicial aos países em desenvolvimento, que perdem um importante fator de desenvolvimento.
- 64) Na Europa, apenas a Alemanha conseguiu desenvolver um centro de alta tecnologia. A Inglaterra e a França, por exemplo, apresentam uma atividade industrial muito sólida, mas de base tradicional.

06 – A figura representa uma pequena cidade ao nascer do sol. Na praça central, a rosa-dos-ventos indica os pontos cardeais. Assinale o que for correto sobre a localização das construções, a insolação e os ventos.



- 01) A igreja está ao norte da praça e a noroeste do supermercado.
- 02) A farmácia tem a sua fachada com letreiro voltada para o quadrante menos quente, recebendo diretamente os ventos frios das frentes polares associadas à entrada da massa Polar Atlântica.
- 04) Pode-se afirmar, com certeza, que a escola tem janelas voltadas para o sul e para o poente.
- 08) A padaria, que tem a fachada voltada para oeste, localiza-se a sudeste da praça.
- 16) O movimento da bandeira da escola e da fumaça da chaminé indicam que o vento está soprando do quadrante sul.
- 32) O supermercado situa-se a leste da praça e ao norte da padaria.
- 64) À tarde, a árvore da praça projeta sua sombra sobre o campo de futebol; portanto o goleiro do lado 1 sofre menos calor do que o goleiro do lado 2.

07 – Assinale a(s) alternativa(s) correta(s) sobre a economia globalizada e os blocos econômicos.

- 01) Os poderes que atuam sobre o mundo e as inovações que o transformam não se distribuem igualmente no espaço geográfico. Concentram-se em um número limitado de lugares, como alguns países da Europa Ocidental e as megalópoles da América do Norte e do Japão.
- 02) A atribuição de altas tarifas taxando os produtos importados, o estabelecimento de cotas de importação, a criação de barreiras fitozoosanitárias (proibição da entrada de produtos vegetais ou animais suspeitos de contaminação) e os subsídios aos produtores nacionais são mecanismos utilizados pelas nações para proteger seu mercado da concorrência estrangeira.
- 04) Uma empresa pode ser considerada como transnacional quando ela possui sede em um país, mas atua, por meio de filiais, em vários outros países, concentrando nestes últimos uma parte importante de seu patrimônio, de suas vendas e de seus empregados. Mesmo quando grande parte das operações produtivas ocorre fora do país-sede, as decisões estratégicas, a pesquisa e o controle acionário são realizados no mesmo.
- 08) O Grupo do G-7 é formado por sete grandes potências da Europa Ocidental, da Europa Oriental e da América do Norte.
- 16) No mercado de ações, nem sempre o investidor tem interesse em que a empresa seja bem sucedida, comprando ações e vendendo-as logo em seguida, apenas para obter lucro rápido, de caráter especulativo. Essa atitude não colabora para fortalecer a indústria e o setor produtivo do país, a longo prazo, porque o capital é muito volátil.

08 – Assinale o que for correto a respeito dos movimentos orogênicos (ou orogenéticos) e epirogênicos (ou epirogenéticos) e da dinâmica das formas de relevo.

- 01) As formas e a dinâmica do relevo terrestre estão associadas à ação dos movimentos tectônicos e ao intemperismo das rochas.
- 02) As grandes cadeias de montanhas como o Himalaia, os Alpes e os Andes formaram-se por ação dos movimentos orogênicos, durante a era Terciária.
- 04) Os movimentos epirogênicos, que movimentam as placas tectônicas horizontalmente, são responsáveis pela formação dos vulcões e das montanhas cristalinas.
- 08) No Brasil, os planaltos Atlântico e Meridional estão associados à atividade vulcânica, que resultou em extensos derrames de lavas.
- 16) À erosão provocada pelas águas dos rios e das torrentes dá-se o nome de erosão fluvial. À erosão provocada pelas águas da chuva, que pode criar sulcos e ravinas, dá-se o nome de erosão pluvial.
- 32) As restingas são cordões de areia que se formam paralelamente à costa, quando o mar realiza um trabalho de acumulação ou deposição de sedimentos.

09 – Assinale o que for correto sobre o quadro físico do Paraná.

- 01) O pico do Paraná, com mais de 1800 m de altitude, é o ponto mais elevado do Paraná e está localizado na serra do Mar.
- 02) A bacia do Paraná, com terrenos que datam principalmente das eras Paleozóica e Mesozóica, apresenta rochas sedimentares e rochas vulcânicas. O basalto, que é responsável pela ocorrência de solos ricos, teve origem em derrames vulcânicos.
- 04) No Norte do Paraná, predomina o clima tropical de altitude, com médias térmicas mais elevadas do que nas áreas de clima subtropical, apresentando maior concentração de chuvas nos meses de verão.
- 08) As matas de Araucária, típicas do Paraná, ocupavam todo o Segundo Planalto, bem como o Oeste e o Sudoeste do Estado.
- 16) As Cataratas do Iguaçu se devem ao afloramento dos arenitos sobre os quais o rio Iguaçu esculpiu o seu vale.

10 – Assinale o que for correto sobre o Agreste e o Meio-Norte, sub-regiões do Nordeste do Brasil.

- 01) O agreste corresponde a uma faixa de terras que se localiza entre o sertão semi-árido e o Meio-Norte.
- 02) O agreste é a zona de menor densidade demográfica da região Nordeste, devido à sua localização, distante das principais cidades litorâneas.
- 04) O agreste apresenta, além de cultivos de subsistência, lavouras comerciais de algodão, que abastecem a indústria têxtil.
- 08) No Meio-Norte, as chuvas são variáveis, apresentando-se mais abundantes na porção sul, no contato com a Amazônia, e decrescendo para o norte, na direção do litoral semi-árido.
- 16) As salinas constituem a principal atividade produtiva do litoral maranhense, concentrando grande parte da produção brasileira de sal marinho.
- 32) O extrativismo vegetal ligado ao babaçu e à carnaúba constitui uma importante atividade econômica do Meio-Norte.

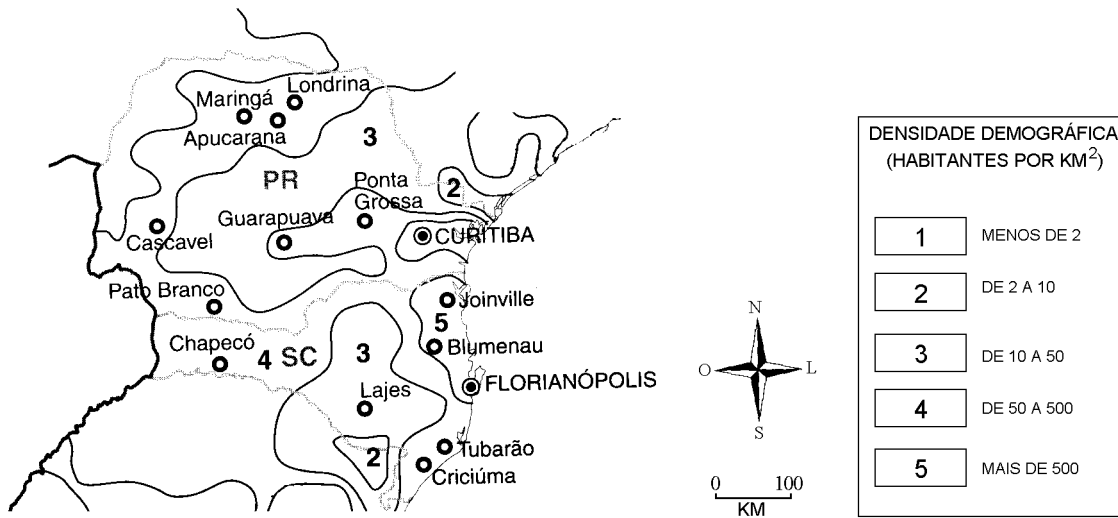
11 – Assinale o que for correto sobre a Revolução Verde e a agricultura "orgânica".

- 01) A Revolução Verde introduziu técnicas ecológicas de cultivo, visando ao aumento da produção agrícola.
- 02) A agricultura "orgânica" e a Revolução Verde contribuíram para a redução do desemprego no campo, por serem intensivas em utilização de mão-de-obra.
- 04) A Revolução Verde valorizava a monocultura em grandes propriedades, como forma de aumentar a produtividade.
- 08) A agricultura "orgânica" não utiliza produtos químicos prejudiciais à saúde.
- 16) Devido aos riscos maiores de perda da colheita e a outros custos de produção, os produtos "orgânicos" costumam ter preço final superior ao dos produtos cultivados da forma convencional, isto é, com uso de agrotóxicos sintéticos prejudiciais à saúde.
- 32) As verduras e os legumes produzidos pela agricultura "orgânica", no Brasil, são rejeitados pelo consumidor, pois apresentam aspecto pouco atraente. Devido a esse motivo, não chegam às prateleiras dos grandes supermercados e não têm padrão para exportação.

12 – Identifique o que for correto sobre as regiões polares.

- 01) O continente Antártico é desprovido de riquezas naturais e também tem pouca importância estratégica, visto situar-se em uma posição isolada. Abriga apenas algumas bases de pesquisa científica, instaladas nas áreas menos hostis.
- 02) Os *inlandsis* são espessas camadas de gelo que recobrem extensivamente as terras situadas nas altas latitudes, como é o caso da Groenlândia, no hemisfério Norte e da região antártica, no hemisfério Sul. Já as banquisas são camadas de gelo flutuante, que se formam junto aos litorais.
- 04) O Ártico é, em grande parte, formado por um oceano congelado, enquanto a Antártida corresponde quase inteiramente a um vasto continente recoberto por uma calota glacial.
- 08) Aves e mamíferos marinhos, respectivamente representados pelos pingüins e pelas focas, são exemplos de animais que vivem em grandes colônias, na Antártida.
- 16) No hemisfério Norte, apenas o Alasca apresenta algum interesse estratégico e econômico, devido às jazidas de carvão. As terras geladas da Europa Setentrional e da Ásia são ocupadas apenas por esquimós, que vivem de forma primitiva.
- 32) Assim como no hemisfério Sul, as regiões polares do hemisfério Norte não têm importância estratégica, pois esses territórios pertencem a nações que sempre estiveram à margem dos grandes conflitos mundiais, como é o caso da Islândia e da Escandinávia.

13 – Assinale o que for correto sobre aspectos da população e da urbanização no território paranaense, recorrendo ao mapa, quando necessário.



- 01) A zona metropolitana de Curitiba ocupa, em parte, os terrenos de uma bacia sedimentar embutida no Planalto Atlântico. As inundações podem afetar parte da população, pois as áreas marginais de muitos córregos locais se tornaram áreas habitadas.
- 02) A "calçada ecológica", parcialmente ajardinada e com área permeável, tem por objetivo principal aumentar a área verde por habitante. Porém, devido à maior infiltração da água no solo, agrava os riscos de inundação.
- 04) O mapa indica que as cidades de Maringá, Londrina e Apucarana apresentam densidades demográficas entre 50 e 500 habitantes por km<sup>2</sup>. Pode-se concluir que, na região de Curitiba e no litoral norte do Estado, a distribuição da população é mais equilibrada, apresentando de 2 a 10 habitantes por km<sup>2</sup>.
- 08) A cidade de Castro, que foi importante marco no ciclo do tropeirismo, apresenta, na sua parte histórica, ruas estreitas e construções sem nenhum recuo frontal, onde portas e janelas se abrem diretamente para o passeio público.
- 16) Ponta Grossa e Guarapuava estão situadas em uma faixa com densidades demográficas entre 10 e 50 habitantes por km<sup>2</sup>.

14 – A região Norte do Brasil vem sofrendo um intenso processo de devastação florestal. Muito se fala sobre as matas equatoriais, mas existem, também, muitos mitos sobre a floresta Amazônica. Identifique o que for verdadeiro sobre a região Norte e a floresta.

- 01) A floresta Amazônica não é o pulmão do mundo, pois ela tanto consome o gás carbônico, no processo de fotossíntese, como libera esse gás, no processo de decomposição da matéria vegetal que fornece.
- 02) Devido à elevada umidade regional, as queimadas não constituem um problema na região. Embora essa prática ocorra em algumas áreas de cultivo, o interesse maior é extrair as madeiras, que têm alto valor no mercado.
- 04) A derrubada da mata pela técnica do correntão é altamente predatória, pois destrói todas as árvores existentes no trajeto da corrente, que é puxada por dois tratores.
- 08) Muitas das madeiras que atuavam no Paraná hoje operam no Pará, em Rondônia e no Mato Grosso, em uma atividade ainda de caráter nômade. O replantio das espécies retiradas, dentro dos princípios do desenvolvimento sustentável, não é, na maior parte dos casos, a forma utilizada na exploração de madeiras na Amazônia brasileira.
- 16) A castanha-do-pará e a castanha-de-caju são dois produtos extrativos florestais amazônicos muito procurados devido ao alto valor que alcançam no mercado nacional. A exportação desses produtos, porém, depende da criação de canais de comercialização.
- 32) A borracha natural é produzida a partir do látex encontrado na seringueira, árvore comum na mata de várzea dos estados do Acre e do Amazonas.
- 64) Madeiros, extrativistas e pecuaristas são três personagens presentes na ocupação da Amazônia. Essas três categorias se unem na luta contra os grupos indígenas, que representam um obstáculo às atividades da economia formal dos setores madeireiro e agrário.



15 – As guerras e os conflitos não acabaram. Pelo contrário, estão cada vez mais presentes no noticiário dos jornais e na vida de muitos povos. Assinale o que for correto sobre as disputas entre as nações e sobre o papel da Organização das Nações Unidas – ONU, que procura intermediar as contradições e os conflitos internos e externos.

- 01) Com sede em Nova Iorque e com grande representatividade nas Américas, o Conselho de Segurança da ONU tem como membros permanentes muitos países anglo-americanos e latino-americanos, mas está insuficientemente representado pelos países da Europa Ocidental e Oriental.
- 02) Os Estados Unidos, um dos grandes mercados consumidores de drogas no mundo, têm combatido o narcotráfico dentro do seu território, porém não têm se envolvido, diretamente, no combate ao narcotráfico nos países latino-americanos, que lutam entre si.
- 04) A ONU foi criada com os seguintes objetivos, dentre outros: preservar a paz e a segurança dos povos, defender os direitos humanos e promover a cooperação internacional para resolver problemas econômicos, sociais, culturais e humanitários.
- 08) O Conselho de Segurança da ONU, formado durante a guerra do Vietnã, pode indicar soluções que visem ao acordo de paz entre as nações. No entanto, não pode autorizar o uso da força militar.
- 16) Os curdos compõem uma nação sem Estado. O Curdistão é uma região que abrange parte dos territórios da Turquia e do Iraque, dentre outros países da região. Os curdos foram historicamente perseguidos pelos países que abrangem a região do Curdistão. Esses países, muitas vezes, impõem resistência ao movimento separatista dos curdos.





# HISTÓRIA

16 – "Nas eleições realizadas em 1989, a disputa pela Presidência da República foi vencida por Fernando Collor de Mello, político alagoano que iniciou sua carreira na Arena, o partido que dava sustentação ao regime militar.

A primeira ação do novo governo foi o lançamento de um plano econômico – conhecido como Plano Collor –, que tinha o objetivo de acabar com a inflação". (PETTA, N. L. de e OJEDA, E.A.B. *História – uma abordagem integrada*. São Paulo: Editora Moderna, s/d, p. 275).

Sobre o plano econômico do Presidente Collor, assinale a(s) alternativa(s) correta(s).

- 01) Segundo seus formuladores, as causas da crise inflacionária e da desigualdade social residiam no crescimento excessivo do Estado intervencionista e regulador herdado da era Vargas, Estado esse que gastava mais do que arrecadava e favorecia determinados setores do funcionalismo público e da iniciativa privada com privilégios e subsídios econômicos.
- 02) Com o Plano, houve um fortalecimento do Estado estatizador e importantes bancos e ferrovias privadas foram nacionalizadas, passando para o domínio do Governo Federal.
- 04) O Plano Collor propôs a diminuição das tarifas de importação e a revogação da proibição de entrada de computadores estrangeiros; tal medida tinha o objetivo de forçar a indústria brasileira a se tornar mais eficiente.
- 08) O Plano Collor foi formulado com base na doutrina keinesiana, que postula que o Estado deve, nos momentos de desaquecimento da economia e de aumento do desemprego de trabalhadores, aumentar seus investimentos em obras públicas e amparar as empresas em dificuldades com empréstimos a juros baixos.
- 16) Os seus formuladores acreditavam que somente o aumento da concorrência da indústria externa e a livre importação de capitais e de tecnologia poderiam preparar a indústria brasileira para a "inserção competitiva" no mercado mundial.

17 – O período entre o final da Idade Média e a Idade Moderna, aproximadamente entre os séculos XV, XVI e XVII, é marcado, na Europa Ocidental, por um conjunto de transformações. Sobre tais transformações, assinale a(s) alternativa(s) correta(s).

- 01) A formação de Estados nacionais, ocorrida naquela época, contribuiu decisivamente para a expansão ultramarina (as grandes navegações dos séculos XV e XVI), pois um Estado centralizado disporia dos recursos financeiros necessários a tal empreendimento.
- 02) Aquele período viveu um notável desenvolvimento cultural, o Renascimento, que se vincula às novas condições socioeconômicas da Europa daquela época. O crescimento da vida urbana, do comércio e, por conseguinte, da burguesia foi poderoso estímulo para a produção artística e intelectual.
- 04) Embora tenham ocorrido grandes transformações econômicas, aquele período não vivenciou o surgimento de novas formas de expressões artístico-culturais. Assim sendo, continuaram a predominar as concepções religiosas feudais.
- 08) Apesar das constantes críticas, a Igreja Católica manteve, no decorrer daquele período, o monopólio do cristianismo.
- 16) Max Weber, um pensador alemão, publicou, no início do século passado, *A ética protestante e o espírito do capitalismo*, livro onde relacionava o desenvolvimento do capitalismo na Europa à ética calvinista.

18 – Leia o fragmento a seguir.

"Foi no final do século XIX, exatamente, que ressurgiu a idéia de criar novamente um 'lar', uma pátria, para os judeus. Quem lançou essa idéia foi um judeu austríaco chamado Theodor Herzl. O movimento iniciado por Herzl recebeu o nome de *sionismo* ou movimento sionista. O objetivo do movimento sionista era conseguir uma pátria para os judeus espalhados pelo mundo." (ARRUDA, J.J. de A. e PILETTI, Nelson. *Toda a história. História Geral e História do Brasil*. São Paulo: Editora Ática, 1997, p. 366).

A respeito da história da criação do Estado de Israel, assinale a(s) alternativa(s) correta(s).

- 01) Os judeus se apegam fortemente ao projeto político de consolidação do Estado de Israel porque se consideram, de acordo com o Antigo Testamento, *o povo escolhido* por Deus para ocupar a região da Palestina, vista como a *Terra Prometida*.
- 02) Um fator político que contribuiu para fortalecer o movimento sionista e aumentar o apoio das potências ocidentais à idéia de criação do Estado de Israel foi o genocídio de judeus praticado pelos nazistas na Segunda Guerra Mundial, que ficou conhecido como Holocausto.
- 04) O Estado Palestino não foi criado até hoje porque a Organização das Nações Unidas (ONU) entende que os palestinos não têm direito ao território que é disputado com os judeus.
- 08) O Estado de Israel foi criado em 1948, pelo líder sionista Davi Ben Gurion, logo após a retirada do exército inglês que controlava a Palestina desde 1922, com mandato atribuído pela Liga das Nações.
- 16) A origem do problema judeu está na *diáspora*, a fuga ou a saída em massa de judeus da Palestina para outras regiões. Ela aconteceu no ano 66 da Era Cristã, após rebelião dos judeus contra o Império Romano, que dominava a Palestina. A partir desse momento, até a criação do Estado de Israel, em 1948, os judeus ficaram sem pátria.



19 – Em janeiro de 1808, a Família Real portuguesa chega ao Brasil fugindo do exército napoleônico que havia invadido Portugal. Uma das primeiras medidas tomadas por Dom João VI, Príncipe Regente do Império português, foi decretar a abertura dos portos. A respeito dessa medida, assinale a(s) alternativa(s) correta(s).

- 01) A abertura dos portos brasileiros foi uma medida inspirada na doutrina mercantilista e seu objetivo era revigorar o exclusivo comercial português e fortalecer Portugal em sua luta contra a França napoleônica.
- 02) Ao abrir os portos brasileiros às nações amigas, o governo português aboliu o pacto colonial no Brasil. A partir daí, ficaram revogados todos os decretos coloniais anteriores que proibiam o comércio livre entre o Brasil e os países estrangeiros.
- 04) O decreto de abertura dos portos inspirou-se na economia política liberal de Adam Smith e de seu discípulo no Brasil, José da Silva Lisboa, futuro Visconde de Cairu. Segundo essa economia liberal, a liberdade comercial e a extensão do mercado constituem o estímulo principal do desenvolvimento econômico.
- 08) Com a abertura dos portos, as mercadorias importadas passaram a pagar, independentemente do país de origem, uma taxa alfandegária de 24% *ad valorem*.
- 16) A abertura dos portos foi uma resposta do governo português ao bloqueio continental, decretado por Napoleão Bonaparte, pelo qual Portugal e seus aliados, como a Inglaterra, ficavam impedidos de comerciar com os países europeus continentais.



20 – O movimento tropicalista surgiu em 1968 e expressou um momento de profunda crise e efervescência da história política e cultural brasileira. Sobre esse assunto, assinale a(s) alternativa(s) correta(s).

- 01) Liderado por Caetano Veloso e Gilberto Gil, o movimento musical tropicalista produziu músicas com letras e melodias universais a partir da mistura de elementos da música brasileira (samba, bossa nova, etc.) com elementos da música internacional (rock, pop, etc.).
- 02) Os tropicalistas assumiam uma postura cultural e política libertária que se constituía em uma alternativa, ao mesmo tempo, ao autoritarismo do governo militar brasileiro e aos projetos políticos de tomada do poder da oposição de esquerda ou populista.
- 04) A irreverência libertária e a influência política e cultural de Caetano Veloso e de Gilberto Gil junto aos jovens brasileiros levou o governo militar a enquadrá-los no AI-5 e a mandá-los para o exílio em 1969.
- 08) A música tropicalista, na letra e na melodia, contrapunha-se às músicas engajadas politicamente de compositores e cantores como Geraldo Vandré e Chico Buarque de Hollanda, compostas e cantadas principalmente para fazer oposição política ao governo militar e para denunciar os problemas sociais.
- 16) O tropicalismo surgiu como uma oposição estética e política nacionalista à penetração da cultura de massa angloamericana no Brasil. A idéia de seus criadores e seguidores era resgatar e fortalecer a cultura popular brasileira, evitando sua descaracterização pela influência cultural e política estrangeira.
- 32) Os tropicalistas condenavam o uso de instrumentos musicais como guitarra e teclados elétricos na música popular brasileira porque supunham que tais instrumentos desvirtuavam nossas tradições culturais.



21 – No século XI, uma nova forma de vida começa a tomar corpo na Europa Ocidental. Depois de séculos de isolamento nos campos, a população europeia voltou a se agrupar em pequenos povoados, que progressivamente se transformam em cidades. Sobre o processo de crescimento da vida urbana no final da Idade Média, assinale a(s) alternativa(s) correta(s).

- 01) O crescimento comercial, estimulado pelas cruzadas, possibilitou um fortalecimento das cidades italianas, tais como Milão, Gênova, Veneza e Florença. Essas cidades conduziram o processo de centralização monárquica que ocorreu na Itália, no século XV.
- 02) O renascimento urbano não se vincula ao renascimento comercial. Assim sendo, a população urbana era constituída, exclusivamente, pelos artesãos e comerciantes.
- 04) A unidade produtiva básica típica na cidade medieval era a oficina. O mestre – artesão – era o proprietário da oficina, da matéria-prima e das ferramentas. Além do mestre, trabalhavam, na oficina, os oficiais ou companheiros e os aprendizes.
- 08) O processo produtivo era organizado pelas corporações, que intervinham na produção, regulando a quantidade, a qualidade, os preços e os salários. Além disso, a corporação exercia um controle da qualidade dos produtos produzidos.
- 16) No final da Idade Média, o Norte da Itália ficou dividido entre principados e cidades independentes. A independência dessas cidades foi obtida através de guerras civis conduzidas pelos *Condottieri*, chefes militares de tropas alugadas.
- 32) As cidades cresciam desordenadamente, não havia nenhum tipo de planejamento. As ruas eram tortuosas e, muitas vezes, inclinadas. Como não havia rede de esgotos, os detritos eram atirados nas ruas, em valas, por onde escorriam, a céu aberto, até os limites da cidade.



22 – Com a Nova Ordem Internacional surgida após a Segunda Guerra Mundial (1939-1945), dois regimes políticos passaram a coexistir na Europa: a socialdemocracia, nos países europeus ocidentais (Inglaterra, França, Alemanha Ocidental, Suécia, etc.) e o comunismo, nos países europeus orientais (Polônia, União Soviética, Hungria, etc.). A respeito da socialdemocracia, assinale a(s) alternativa(s) correta(s).

- 01) Na socialdemocracia, admite-se a democracia representativa, a propriedade privada e uma forte presença do Estado na economia, visando à regulamentação das forças do mercado e a uma distribuição mais igualitária de renda e de riqueza entre a população em geral.
- 02) O projeto político socialdemocrata se aproxima do projeto comunista porque despreza a democracia representativa e propõe a mudança radical do Estado e da sociedade através da luta armada e da abolição da propriedade privada.
- 04) Um dos principais críticos do Estado intervencionista socialdemocrata foi o economista austríaco Friedrich Hayek, ganhador do Prêmio Nobel de Economia, em 1974.
- 08) Na Inglaterra, a eleição da primeira ministra Margareth Thatcher, em 1979, representou a vitória das forças políticas contrárias ao Estado socialdemocrata tradicional e favoráveis ao chamado "Estado mínimo" liberal.
- 16) No Brasil, o período mais claramente socialdemocrata foi aquele que se seguiu ao golpe militar de 1964, quando o presidente Castelo Branco propôs ao Congresso Nacional uma série de reformas que democratizaram o exercício do poder político e possibilitaram uma maior igualdade na distribuição de riquezas no país.

23 – Sobre a região onde, no período colonial da História do Brasil, localizava-se a região que atualmente corresponde ao Estado do Paraná, assinale a(s) alternativa(s) correta(s).

- 01) O Tratado de Tordesilhas, firmado entre Portugal e Espanha, em 1494, estabelecia que a maior parte do atual território do Estado do Paraná pertencia à Espanha.
- 02) Ainda no século XVI, os espanhóis fundaram a cidade real de Guairá, na foz do rio Piquiri e a Vila Rica do Espírito Santo, junto ao rio Ivaí. Ambas tiveram pouca importância como centros urbanos, mas abriram caminho para o estabelecimento das missões jesuíticas na região do Guairá.

04) Nas primeiras décadas do século XVII, com a escassez de escravos africanos provocada pelo domínio holandês na África, os bandeirantes paulistas voltaram sua atenção para as missões jesuíticas do Guairá, Itatim e Tape, onde, naquele período, um grande número de índios foi capturado e vendido como escravo.

08) Na segunda metade do século XV, ocorre um avanço da colonização luso-brasileira em direção ao sul. Os principais personagens desse avanço da colonização portuguesa foram os bandeirantes, os jesuítas e os negros quilombolas que contribuíram para a interiorização do domínio lusitano na América.

16) Além da expansão cafeeira, o "tropeirismo" foi de fundamental importância para o início da efetiva colonização da região norte do Estado do Paraná pelos luso-brasileiros, na segunda metade do século XVIII.

24 – Em 05 de janeiro de 1785, D. Maria I, rainha de Portugal, determinou a extinção de todas as manufaturas têxteis no Brasil, "...excetuando-se tão somente aqueles teares e manufaturas em que se tecem fazendas grossas de algodão que servem para o uso e vestuário dos negros e para enfiar e empacotar fazendas e para outros ministérios semelhantes." (Alvará de D. Maria I, dado no Palácio de Nossa Senhora da Ajuda). A esse respeito, assinale a(s) alternativa(s) correta(s).

- 01) A lei que proibia as manufaturas no Brasil era decorrente da influência das idéias socialistas sobre a monarquia lusitana, pois tal lei defendia os trabalhadores da indústria portuguesa da concorrência da grande produção colonial.
- 02) As restrições ao estabelecimento de manufaturas têxteis atingiram também a metalurgia e a ourivesaria.
- 04) O Alvará de 05 de janeiro de 1785 demonstra que a Coroa considerava que o surgimento de fábricas e de manufaturas no Brasil era prejudicial aos interesses de Portugal.
- 08) A extinção das manufaturas insere-se em um contexto em que a Coroa pretendia promover a industrialização do Brasil, pois somente com a extinção das manufaturas a indústria moderna poderia desenvolver-se no Brasil.
- 16) O alvará que proibia as manufaturas vincula-se à transferência da capital do Brasil, de Salvador para o Rio de Janeiro, em 1762.

25 – Nos dois primeiros séculos da colonização do Brasil, o engenho foi a unidade produtiva básica. Além do engenho propriamente dito – o local onde a cana era transformada em açúcar – faziam parte dessa unidade produtiva a lavoura, a casa-grande, a senzala e a capela. Assim sendo, conforme o jesuíta Antonil escreveu, em 1711, "O ser senhor de engenho é título a que muitos aspiram porque traz consigo o ser servido, obedecido e respeitado de muitos. E se fôr, qual deve ser, homem de cabedal e governo, bem se pode estimar no Brasil o ser senhor de engenho (...)." A esse respeito, assinale a(s) alternativa(s) correta(s).

- 01) O desenvolvimento de uma economia baseada na produção de açúcar pelos engenhos propiciou um notável processo de crescimento urbano nos dois primeiros séculos da colonização do Brasil. Nesse período, surgem as principais cidades da região sul, com destaque para Curitiba, Florianópolis e Porto Alegre.
- 02) A produção açucareira nos engenhos era caracterizada pelo trabalho escravo, pela monocultura e pela grande propriedade. Embora o trabalho escravo fosse predominante, o engenho também utilizava, em menor escala, o trabalho livre. Entre os trabalhadores livres, destacavam-se o feitor, o mestre-do-açúcar e o capitão-do-mato.
- 04) Para a montagem dos engenhos, foi essencial o papel da Coroa portuguesa, que atuava como um banco, financiando a totalidade das atividades às quais o senhor de engenho se dedicava. Essa participação direta da Coroa na colonização pode ser observada, também, na concessão de sesmarias, que era efetuada direta e exclusivamente pela Coroa.
- 08) Na estrutura social do nordeste brasileiro, predominava a figura do senhor de engenho, que exercia seu domínio sobre a sua família, seus escravos, empregados e sobre a região na qual estava instalado o engenho.
- 16) Os quilombos foram, sobretudo, uma reação coletiva dos negros africanos à escravidão. O quilombo mais conhecido, tanto pelo seu nível de organização quanto pela resistência que impôs ao branco, foi o Quilombo de Palmares.

26 – Em 1985, Michail Gorbachov assume o governo da União Soviética e, logo em seguida, passa a implementar um amplo projeto de reforma do socialismo soviético que ficou conhecido como *perestroika*. A respeito desse assunto, assinale a(s) alternativa(s) correta(s).

- 01) A *perestroika* foi uma reestruturação geral da economia soviética, visando romper com o marasmo e a decadência da indústria e da agricultura soviéticas através da adoção de métodos modernos de administração e de gerenciamento do processo produtivo.
- 02) No plano externo, a *perestroika* significou, também, uma aproximação com os Estados Unidos, visando à celebração de tratados para a diminuição da produção de armas nucleares e de novos equipamentos de guerra. Esses tratados interessavam diretamente aos soviéticos porque eles já haviam atingido o limite máximo de sua capacidade de produção de armamentos e precisavam redirecionar os investimentos para a produção de bens de consumo para a população.
- 04) Essa reforma se caracterizou pela retomada dos *Planos Quinquenais* e do processo de coletivização forçada da terra da era de Stalin (1924-1953). No plano político, caracterizou-se pelos expurgos e processos políticos movidos contra os dissidentes políticos do Partido Comunista.
- 08) Juntamente com a política da *perestroika*, Michail Gorbachov implementou também a política da *glasnost*, que se traduziu em um processo de liberalização política. Com a *glasnost*, a política soviética adquiriu maior transparência e os soviéticos puderam usufruir de maior liberdade de expressão nas artes, na imprensa, na política e na cultura em geral.
- 16) A *perestroika* aumentou o poder pessoal de Michail Gorbachov e lhe deu condições para impedir o desmembramento da União Soviética em dezembro de 1991, quando ocorreu um golpe de estado articulado pela CIA (Central de Inteligência Americana).



27 – A história do Paraná registra a existência de vários ciclos econômicos. Além do ciclo da mineração, surgido no século XVII, e o da pecuária, iniciado no século XVIII, desenvolveram-se, a partir do século XIX, mais três importantes ciclos econômicos, cada um dos quais imprimindo sua marca na história paranaense. A respeito dos ciclos econômicos paranaenses, desenvolvidos a partir do século XIX, assinale a(s) alternativa(s) correta(s).

- 01) Ao longo do século XIX e início do século XX, o Sul do Paraná viveu o ciclo da erva-mate, considerado uma época de ouro da economia paranaense. Produzida para ser exportada para o Uruguai e para a Argentina, a erva-mate foi responsável, no período, por 80% da economia do Estado, possibilitando a construção de importantes estradas e ferrovias.
- 02) Na segunda metade do século XIX, a economia paranaense dependeu basicamente do plantio da seringueira e da extração de sua resina para a produção da borracha. Foi o ciclo da borracha que possibilitou o surgimento de grandes fortunas entre plantadores, seringueiros e pequenos industriais responsáveis pela transformação industrial da resina. Esse ciclo declinou, porém, com a expansão da plantação de seringueira na Malásia, a partir de 1890, promovida por capitais alemães.
- 04) A partir de 1914, o Paraná desenvolve um novo ciclo econômico, o da madeira. Ele foi simultâneo ao da erva-mate e foi estimulado pela eclosão da Primeira Guerra Mundial (1914-1918), que interrompeu a importação brasileira do pinho produzido na Letônia, país europeu. A extração de madeiras provocou a destruição indiscriminada das matas paranaenses, mas possibilitou, também, o desenvolvimento da navegação nos rios Paraná e Iguazu e o surgimento de cidades como Campo Mourão e Palma.
- 08) Um outro importante ciclo econômico paranaense foi o do café, que se inicia na década de 1920 e termina em 1975, com as grandes geadas que se abateram sobre as plantações. Um importante estímulo desse ciclo foram as vastas extensões de terra roxa existentes nas regiões norte e noroeste do Estado, garantindo-lhe a liderança da produção cafeeira no Brasil a partir de 1960. Pode-se dizer, assim, que a produção de café foi uma das mais importantes atividades econômicas do Paraná no século XX, possibilitando a ocupação e o desenvolvimento populacional e agroindustrial de uma vasta região que conta, hoje, com importantes cidades como Londrina e Maringá.

16) Com a crise do café, após as geadas de 1975, houve uma maior diversificação da economia paranaense, que passou a produzir trigo, soja, amendoim, etc.

28 – A ocupação e a colonização da América pelos europeus foi um dos eventos mais significativos da época moderna. A esse respeito, assinale a(s) alternativa(s) correta(s).

- 01) Ao chegarem às Américas, portugueses, espanhóis, franceses e ingleses se defrontaram com povos nativos – os índios – que se encontravam em um estágio de desenvolvimento extremamente primitivo. Assim sendo, não havia distinção entre as formas de organização social e de desenvolvimento cultural dos primeiros habitantes das Américas do Norte, Central e do Sul.
- 02) Nos primeiros anos da conquista e da colonização do Brasil, durante breve período, os índios foram tratados pelos portugueses como parceiros comerciais no escambo do pau-brasil ao longo da costa.
- 04) A divisão do território em capitânicas hereditárias foi uma forma de colonização utilizada tanto por Portugal quanto pela Inglaterra. O território brasileiro foi dividido em 14 faixas de terra que se estendiam do litoral para o interior. Na América do Norte, a Inglaterra dividiu o território em 13 colônias, cada uma delas entregue a um capitão donatário com os mesmos direitos e deveres estabelecidos aos capitães donatários no Brasil.
- 08) A colonização espanhola da América concentrou-se exclusivamente na região mineradora do Altiplano Andino, região esta habitada até então pelos Astecas.
- 16) A colonização do Brasil pelos portugueses e a colonização inglesa da região das treze colônias apresentam características semelhantes. Ambas utilizaram, predominantemente, o trabalho escravo de negros africanos na produção de açúcar exclusivamente para o mercado externo.

29 – O período que vai do século XV ao XVIII, correspondente à época moderna, é chamado pela historiografia de Antigo Regime. O século XVIII foi o momento da história em que o Antigo Regime viveu uma profunda crise, a partir da qual foi construído o mundo contemporâneo. A respeito da crise do Antigo Regime, assinale a(s) alternativa(s) correta(s).

- 01) Na França, em fins do século XVIII, o Antigo Regime era alvo de uma acirrada oposição. Os privilégios da aristocracia e o poder absoluto dos reis eram duramente criticados. A liberdade e a igualdade jurídica eram efusivamente defendidas pelo Terceiro Estado.
- 02) A chamada Revolução Industrial que ocorreu na Inglaterra, a partir da segunda metade do século XVIII, transformou radicalmente o sistema de produção e de transportes de mercadorias, a sociedade e a economia na Inglaterra e no resto do mundo.
- 04) Na segunda metade do século XVIII, o parlamento inglês estabeleceu uma série de impostos – a Lei do Açúcar, a Lei do Selo e a Lei do Chá – a serem cobrados dos habitantes das colônias da Inglaterra na América do Norte. A decretação dessas leis foi decisiva para o acirramento dos conflitos entre a Inglaterra e as treze colônias e para o início da Guerra de Independência dos Estados Unidos da América.
- 08) A Inconfidência Mineira foi um movimento sedicioso acontecido em Minas Gerais, no ano de 1888, sob a influência das idéias mercantilistas. Entre as propostas dos inconfidentes, destacam-se seus ideais profundamente democráticos, pois pleiteavam a imediata independência de Portugal, a abolição da escravidão e a implantação de um regime republicano, com eleição direta do presidente da República.
- 16) No século XVIII, um grupo de pensadores franceses, conhecidos por fisiocratas, defendeu a livre concorrência e a liberdade no funcionamento da economia, cunhando a famosa expressão *laissez faire, laissez passer, le monde va de lui même* (deixai fazer, deixe passar, o mundo caminha por si). Esse ideal foi uma das bases para o liberalismo econômico que marcou o pensamento do Século das Luzes.



30 – De 1893 a 1895, os Estados do Paraná, Rio Grande do Sul e Santa Catarina foram o palco da Revolução Federalista, um dos mais importantes movimentos políticos de nossa história republicana. Sobre esse assunto, assinale a(s) alternativa(s) correta(s).

- 01) Inicialmente, foi uma rebelião de políticos e de proprietários liberais gaúchos contra a ditadura do governador do Rio Grande do Sul, Júlio de Castilhos, fiel partidário do poder central autoritário do Presidente Floriano Peixoto. Em um segundo momento, o movimento se espalhou pelos Estados de Santa Catarina e Paraná e assume a característica de uma reação regional ao governo centralizador de Floriano Peixoto.
- 02) Com o fim do conflito e a derrota dos federalistas, Floriano Peixoto decreta uma anistia política geral para evitar retaliações e vinganças políticas por parte dos legalistas (partidários do governo central). No Paraná, importantes personalidades, como o Barão de Cerro Azul, político da região de Castro, são beneficiadas por essa anistia política e reintegradas na vida política paranaense e nacional.
- 04) Ao aderir ao movimento revolucionário federalista, os líderes liberais paranaenses esperavam criar condições políticas favoráveis para retomar parte do território paranaense que havia ficado com o Estado de São Paulo por ocasião da emancipação do Estado do Paraná, ocorrida em 1853.
- 08) O objetivo dos federalistas não era abolir o regime republicano recém-implantado no Brasil, mas apenas rever o pacto republicano entre o poder central e os estados, de maneira que estes últimos pudessem ter mais autonomia e liberdade administrativa e política.
- 16) Os federalistas, chamados de *Maragatos*, agrupavam-se no Partido Nacional Federalista, surgido de uma aliança entre liberais e conservadores, enquanto os partidários de Floriano Peixoto, chamados de *Pica-Paus*, integravam o Partido Republicano.
- 32) No Paraná, os principais focos da luta se localizaram em Curitiba, Paranaguá e Lapa, locais de passagem e de confronto entre as tropas legalistas de Floriano Peixoto e as federalistas sob o comando de Custódio de Melo.

