

---

## História – QUESTÕES de 01 a 06

LEIA CUIDADOSAMENTE O ENUNCIADO DE CADA QUESTÃO, FORMULE SUAS RESPOSTAS COM OBJETIVIDADE E CORREÇÃO DE LINGUAGEM E, EM SEGUIDA, TRANSCREVA COMPLETAMENTE CADA UMA NA FOLHA DE RESPOSTAS.

### INSTRUÇÕES:

- Responda às questões, com caneta de tinta AZUL ou PRETA, de forma clara e legível.
- Caso utilize letra de imprensa, destaque as iniciais maiúsculas.
- O rascunho deve ser feito no espaço reservado junto das questões.
- Na Folha de Respostas, observe a numeração das questões e utilize APENAS o espaço correspondente a cada uma.
- Será atribuída pontuação ZERO à questão cuja resposta
  - não se atenha à situação ou ao tema proposto;
  - esteja escrita a lápis, ainda que parcialmente;
  - apresente texto incompreensível ou letra ilegível.
- Será ANULADA a prova que
  - não seja respondida na respectiva Folha de Respostas;
  - esteja assinada fora do local apropriado;
  - possibilite a identificação do candidato.

### Questão 01 (Valor: 20 pontos)

Até o século XIX, os documentos escritos foram considerados como as fontes dignas de crédito para a produção do conhecimento histórico. Na segunda metade do século XX, outros conceitos de fontes emergiram, enriquecendo bastante a produção historiográfica.

Partindo dessa premissa, indique e descreva dois exemplos dessas novas fontes.

---

Questão 02 (Valor: 10 pontos)

A constituição romana não foi produto de pensamento abstrato, nem o legado de um grande legislador como o ateniense Sólon. Ao contrário, tal como a constituição britânica, a romana desenvolveu-se de modo gradativo e empírico, atendendo a necessidades específicas. Os romanos, diferentemente dos gregos, distinguiram-se pelo espírito prático e pelo bom senso, não pelo amor ao pensamento abstrato. (...)

(PERRY, p. 91)

Considerando as “necessidades específicas” referidas no texto, indique uma razão responsável pela elaboração da Lei das XII Tábuas entre os romanos do século V a.C e justifique sua resposta.

Questão 03 (Valor: 20 pontos)

As práticas mercantilistas fortaleceram, evidentemente, a ação do Estado em todos os níveis das atividades econômicas. A articulação entre o Mercantilismo e o Estado Absolutista torna-se, ao longo da época de transição, cada vez mais estreita. (...)

(FARIA et al., p. 43)

A partir da informação do texto, identifique e explique uma forma de política mercantilista praticada por um dos Estados absolutistas no período da transição do feudalismo para o capitalismo.

---

Questão 04 (Valor: 20 pontos)

ENTRADA DE AFRICANOS ESCRAVIZADOS NO BRASIL

SÉCULO	QUANTITATIVO	PORTOS RECEPTORES
XVI	100.000	Salvador, Recife
XVII	600.000	Salvador, Recife
XVIII	1.300.000	Salvador, Recife, Rio de Janeiro

(ALENCAR et al., p. 31)

Levando em consideração os dados da tabela, indique um dos fatores responsáveis pela predominância dos portos do Nordeste, como importadores de africanos escravizados. Justifique sua resposta.

Questão 05 (Valor: 15 pontos)

Depois do reconhecimento da independência pelos portugueses, veio o reconhecimento oficial da Inglaterra e dos demais países europeus. Entretanto, todo esse processo foi negociado de maneira que esses países obtivessem vantagens econômicas do Brasil.

(COTRIM, p. 163)

A partir da leitura do texto, identifique uma razão para o interesse da Inglaterra no reconhecimento da Independência do Brasil. Justifique sua resposta.

---

Questão 06 (Valor: 15 pontos)

O comportamento das camadas dirigentes fica mais claro de ser entendido quando se fica sabendo que muitos países obtiveram a sua independência em troca de concessões feitas aos antigos dominadores. Hoje se pode observar uma África descolonizada, mas envolvida em revoltas, fome e rebeliões de origem étnico-religiosa.

(FARIA et al., p. 379)

A partir do que afirma o texto, cite um dos fatores responsáveis pela contradição: **África descolonizada x África como foco de conflitos e miséria** e justifique sua resposta.

## Geografia – QUESTÕES de 01 a 06

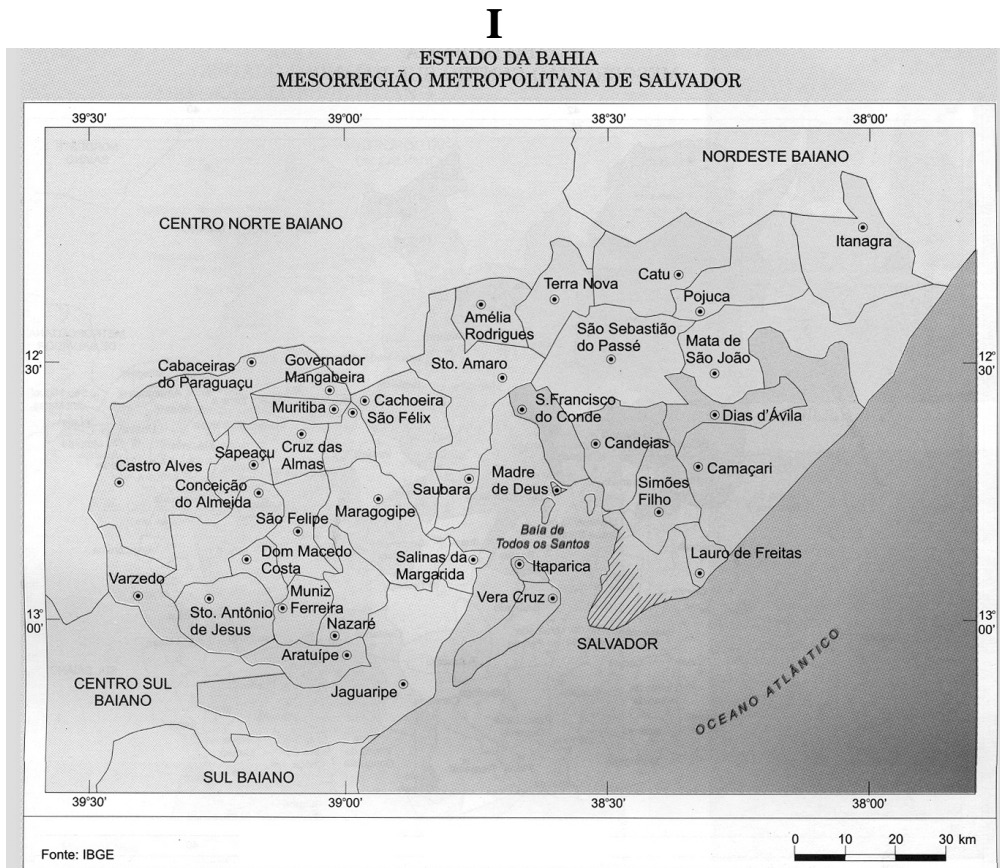
LEIA CUIDADOSAMENTE O ENUNCIADO DE CADA QUESTÃO, FORMULE SUAS RESPOSTAS COM OBJETIVIDADE E CORREÇÃO DE LINGUAGEM E, EM SEGUIDA, TRANSCREVA COMPLETAMENTE CADA UMA NA FOLHA DE RESPOSTAS.

### INSTRUÇÕES:

- Responda às questões, com caneta de tinta AZUL ou PRETA, de forma clara e legível.
- Caso utilize letra de imprensa, destaque as iniciais maiúsculas.
- O rascunho deve ser feito no espaço reservado junto das questões.
- Na Folha de Respostas, observe a numeração das questões e utilize APENAS o espaço correspondente a cada uma.
- Será atribuída pontuação ZERO à questão cuja resposta
  - não se atenha à situação ou ao tema proposto;
  - esteja escrita a lápis, ainda que parcialmente;
  - apresente texto incompreensível ou letra ilegível.
- Será ANULADA a prova que
  - não seja respondida na respectiva Folha de Respostas;
  - esteja assinada fora do local apropriado;
  - possibilite a identificação do candidato.

### Questão 01 (Valor: 20 pontos)

A escala do mapa é de fundamental importância, pois expressa diferentes níveis de abstração do raciocínio geográfico sobre uma realidade concreta.



## II



Identifique, nos mapas I e II, as características das escalas (tipo e tamanho) e, em seguida, associe cada um dos temas abaixo ao mapa apropriado, justificando sua resposta.

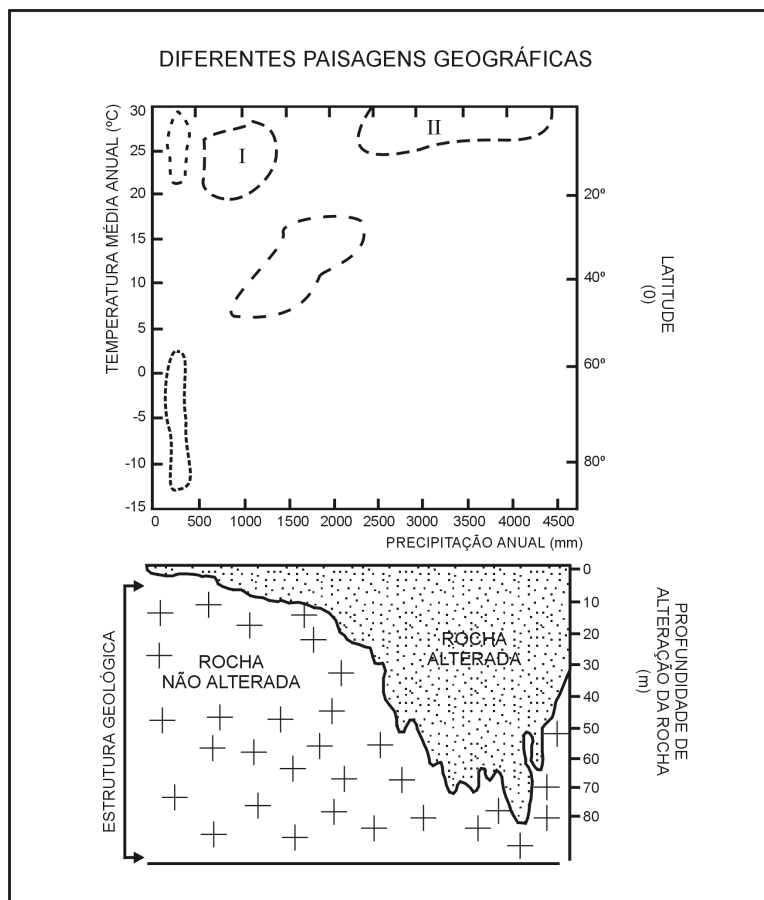
- Mapeamento de locais sujeitos à deslizamentos de encostas.
- Estudo dos fluxos pendulares.

Questão 02 (Valor: 15 pontos)

ZONAS GEOGRÁFICAS	LOCALIZAÇÃO GEOGRÁFICA	RITMO DAS QUATRO ESTAÇÕES DO ANO	POSIÇÃO DO PLANO DE RADIAÇÃO SOLAR
I. Altas latitudes	> 66°Norte / Sul	Inexistente (dia/noite polar)	Extrema obliquidade
II. Médias latitudes	30 a 65°Norte / Sul	Definido	Incidência em um dos trópicos ao longo do ano
III. Baixas latitudes	< 15°Norte / Sul	Pouco definido	Percorre a zona duas vezes no ano

Explique como se processam as estações do ano, verão e inverno, no Hemisfério Norte e no Hemisfério Sul, destacando a incidência dos raios sobre a superfície terrestre.

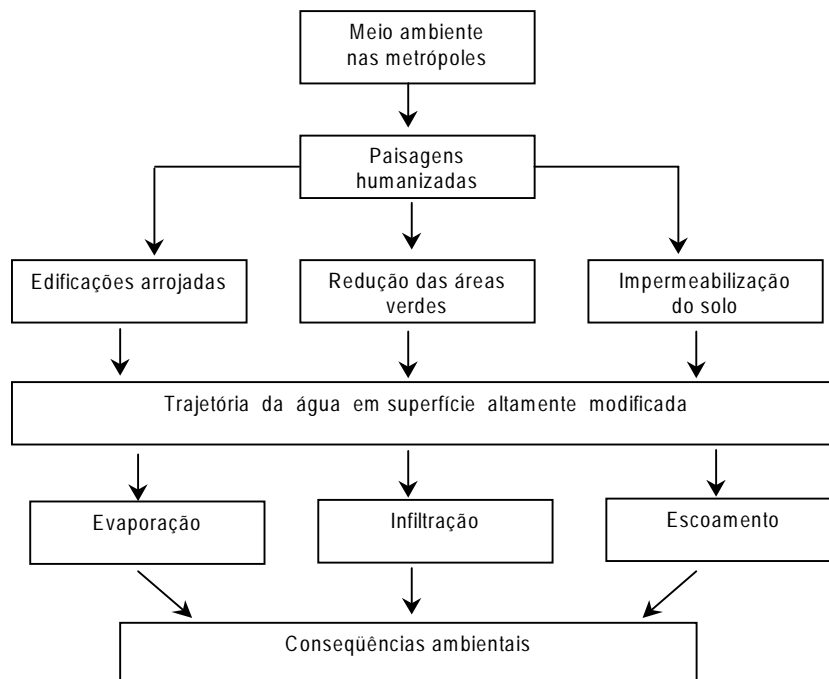
Questão 03 (Valor: 20 pontos)



---

Com base nos dados apresentados no gráfico e nos conhecimentos sobre as paisagens geográficas, caracterize os elementos que compõem os ecossistemas I e II.

Questão 04 (Valor: 15 pontos)



Explique como ocorrem as alterações da trajetória da água que se precipita sobre as metrópoles, destacando as suas principais conseqüências ambientais.



---

**Questão 05** (Valor: 15 pontos)

Indique dois momentos relevantes no processo industrial brasileiro, decorrentes da globalização e do neoliberalismo e justifique a sua importância.

**Questão 06** (Valor: 15 pontos)

As bases da Área de Livre Comércio das Américas (ALCA) foram lançadas em dezembro de 1994, durante a primeira Cúpula das Américas, realizada em Miami (EUA). Seu objetivo seria integrar, numa zona de livre comércio, todos os Estados Soberanos da América, com exceção de Cuba.

Considerando essas informações, explique o porquê do empenho dos Estados Unidos na consolidação desse bloco, identificando quais as implicações que essa consolidação poderá trazer para o Brasil.

---

## REFERÊNCIAS BIBLIOGRÁFICAS

ALENCAR, Chico; RAMALHO, Lucia Carpi; RIBEIRO, Marcus V. Toledo. **História da sociedade brasileira**. 13. ed. rev. e ampl. Rio de Janeiro: Ao Livro Técnico, 1996. (Adaptado)

COTRIM, Gilberto. **História e consciência do Brasil**. São Paulo: Saraiva, 1994.

FARIA, Ricardo de Moura; MARQUES, Adhemar Martins; BERUTTI, Flávio Costa. **História**. Belo Horizonte: Lê, 1993.

PERRY, Marvin. **Civilização ocidental**: uma história concisa. 2. ed. Tradução Waltensir Dutra e Silvana Vieira. São Paulo: Martins Fontes, 1999.

## FONTES DAS ILUSTRAÇÕES

MAGNOLI, Demétrio; ARAÚJO, Regina. **Projeto de ensino de geografia**: natureza, tecnologias, sociedades, geografia geral. São Paulo: Moderna, 2000. (Questão 01)

SILVA, Barbara-Christine Nentwig et al. **Atlas escolar Bahia**: espaço geo-histórico e cultural. João Pessoa: Grafset, 2000. (Questão 01)

\*\*\*\*\*