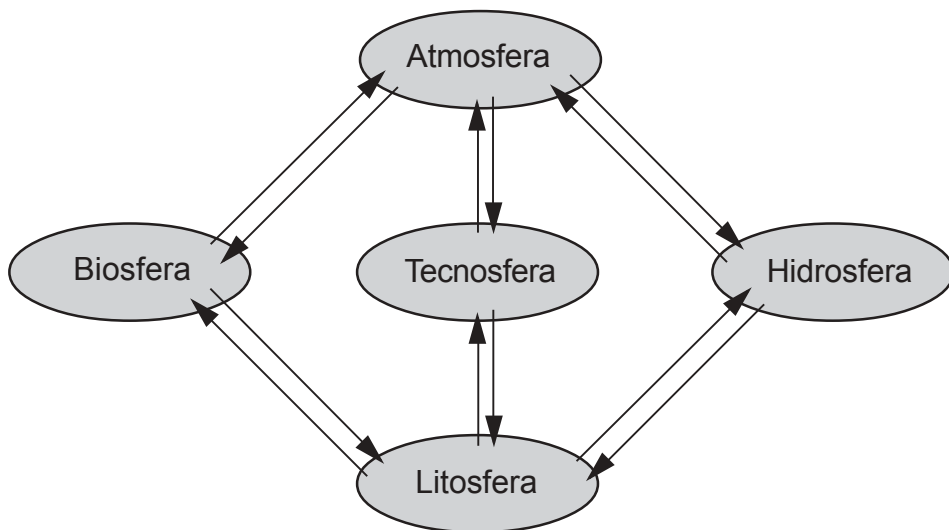


PROVA DE GEOGRAFIA

QUESTÃO 31

Analise esta figura, em que estão representadas as relações entre várias esferas da Terra:



A partir dessa análise e considerando-se outras informações sobre o assunto, é **INCORRETO** afirmar que

- A) as setas, na figura, representam intensos e constantes fluxos de matéria e energia, responsáveis por forte interdependência entre as esferas.
- B) a interação entre as diferentes esferas se processa na superfície do Planeta e dela resulta a produção do espaço geográfico.
- C) as interações espaço-temporais entre litosfera, biosfera, hidrosfera e atmosfera são responsáveis pela formação e dinâmica das paisagens naturais.
- D) a tecnosfera – a esfera da tecnologia – exerce, ainda, papel pouco significativo no processo de transformação da superfície do Globo.

QUESTÃO 32

O comércio internacional, após o fim da Guerra Fria, foi marcado por importantes mudanças.

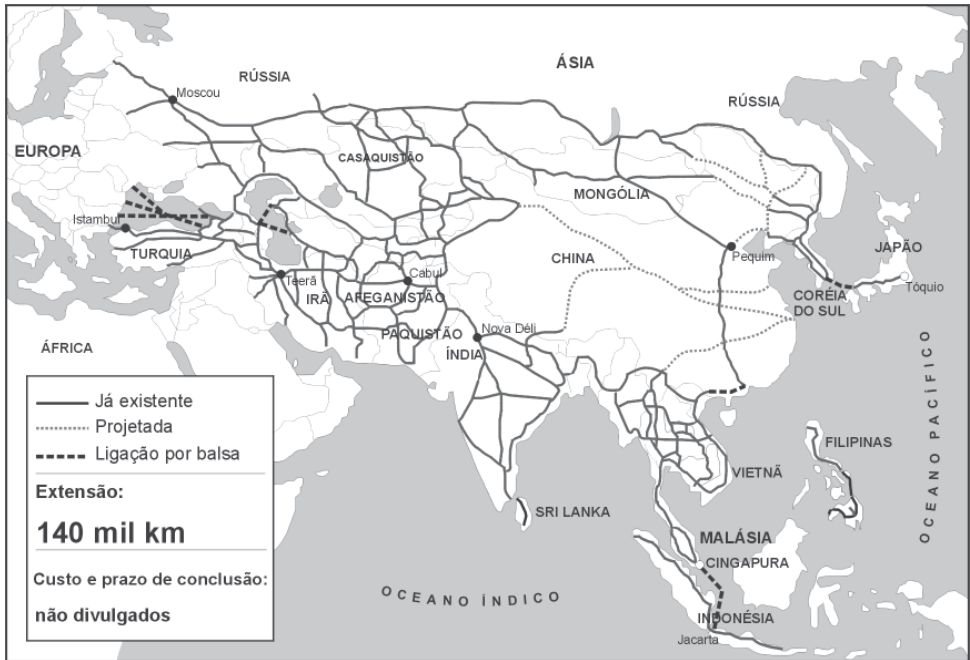
Assim sendo, é **INCORRETO** afirmar que, entre essas mudanças, se inclui o fato de que

- A) a nova configuração do mercado internacional, resultante do crescente antagonismo entre países pobres e ricos, ou seja, entre Sul e Norte, provocou redirecionamento dos fluxos de troca.
- B) a Organização Mundial do Comércio (OMC), visando a ampliar a redução de tarifas alfandegárias e a dar à instituição maior poder de controle sobre o comércio internacional, substituiu o Acordo Geral de Tarifas e Comércio (GATT).
- C) o comércio apresentou grande crescimento em algumas áreas continentais, chegando a superar, em certos casos, as trocas realizadas com países situados a distâncias maiores.
- D) o comércio internacional adotou regras que facilitam as trocas, mas, por outro lado, conservou, ainda, artifícios que restringem as vantagens dos países menos desenvolvidos.

QUESTÃO 33

Analise este mapa:

Ligação Ásia–Europa: vias existentes e projetadas



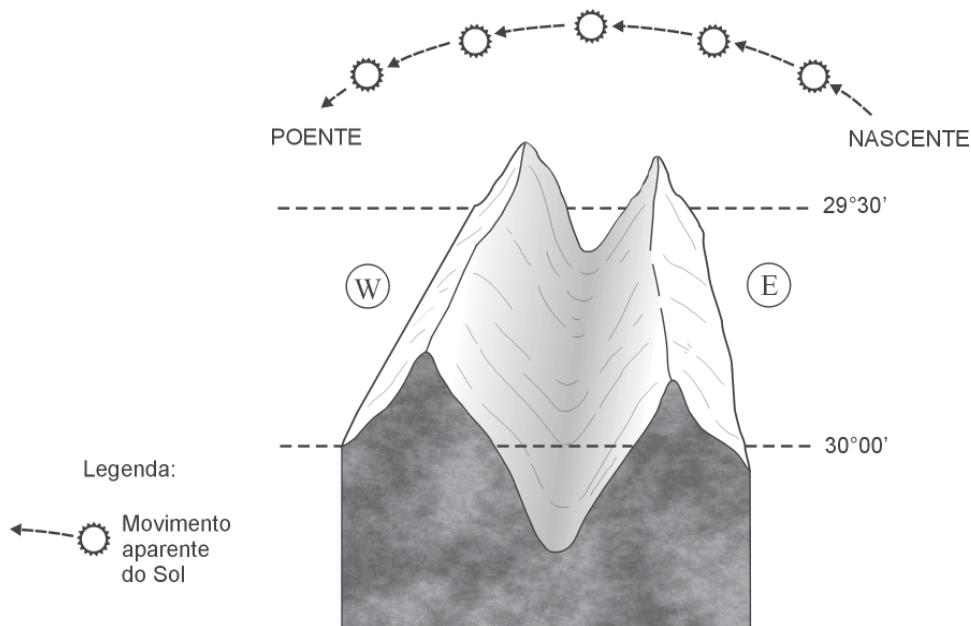
FONTE: *Folha de S. Paulo*, São Paulo, 27 abr. 2004. Caderno Mundo, p.16. (Adaptado)

A partir dessa análise e com base em outros conhecimentos sobre o assunto, é **INCORRETO** afirmar que a ligação viária Ásia–Europa já existente e projetada

- A) estabelece vias de circulação entre países cuja aproximação, durante a Guerra Fria, foi dificultada por divergências ideológicas.
- B) atinge, na extremidade leste, civilizações marcadas por forte homogeneidade étnica e cultural.
- C) concretiza o sonho multissecular de estabelecimento de uma ligação continental entre o Mediterrâneo e a Bacia do Pacífico.
- D) contribui para a integração comercial entre regiões de grande adensamento demográfico do mundo.

QUESTÃO 34

Analise este bloco-diagrama, em que estão representados o relevo de uma região, que se caracteriza pela presença de um vale estreito e profundo, e o movimento aparente do Sol, ao longo do dia:



A partir da análise e interpretação desse bloco-diagrama, é **INCORRETO** afirmar que

- A) o grande vale central, que se estende no sentido dos meridianos, recebe o menor número de horas de insolação da região.
- B) as diferenças de intensidade da insolação, nas várias partes da região representada, se acentuam ao meio-dia local, quando o Sol está na altura máxima.
- C) as formas e a orientação do relevo, mais do que a latitude, criam importantes variações de insolação na região.
- D) as vertentes orientais recebem os raios solares mais diretamente durante a manhã, enquanto, nas ocidentais, essa incidência ocorre durante a tarde.

QUESTÃO 35

Considerando-se as ondas gigantes – fenômeno conhecido como *tsunami* – que atingiram sobretudo o Sudeste Asiático em dezembro de 2004, é **INCORRETO** afirmar que

- A) uniram parcela considerável dos povos do Planeta em torno de uma causa comum, congregando, inclusive, o interesse humanitário de países que têm posições divergentes em relação à luta contra o terrorismo.
- B) afetaram os países localizados nas adjacências imediatas do centro que as gerou e, também, se propagaram por grande parte do Oceano Índico, tendo alcançado, inclusive, a região costeira oriental da África.
- C) provocaram a morte tanto de população residente na orla litorânea, densamente ocupada, dos países afetados quanto de um grande contingente de turistas, atraídos pelo Sol e pelas paisagens tropicais paradisíacas.
- D) tiveram sua origem associada à interação entre as águas oceânicas e a atmosfera, intensificada, na região, pelo forte contraste térmico verificado entre continente e oceano.

QUESTÃO 36

A instabilidade político-social que vem ocorrendo na América do Sul pode, segundo alguns especialistas, colocar em risco a democracia na região.

Considerando-se essa instabilidade político-social, é **INCORRETO** afirmar que

- A) o PIB tem registrado em alguns países uma expansão superior à média regional, mas, em parte destes, o percentual da população que vive abaixo da linha da pobreza continua a aumentar.
- B) a América do Sul se transformou, nos últimos anos, no principal foco de interesse externo dos Estados Unidos, o que tem estimulado manifestações populares pautadas na defesa da soberania dos países que a constituem.
- C) a expectativa das populações em relação à implantação da democracia no subcontinente incluía a aproximação dos padrões de qualidade de vida existentes em países no Hemisfério Norte, de igual regime.
- D) a região convive com a prática da corrupção, a interrupção de mandatos de presidentes legitimamente eleitos e o descompasso entre as propostas de campanha eleitoral e os programas sociais e econômicos implantados posteriormente.



QUESTÃO 37

A atual distribuição geográfica das grandes religiões constitui tema cada vez mais oportuno, em razão de suas ligações com questões políticas e relacionadas a tensões e conflitos.

Considerando-se essa informação, é **INCORRETO** afirmar que

- A) o Islamismo, além de estar presente na imensa região que vai da África Ocidental às ilhas do Sudeste Asiático, tem constituído núcleos ativos e crescentes, embora minoritários, em várias capitais européias.
- B) o Budismo e o Confucionismo são religiões que apresentam crescimento expressivo na Ásia e no Extremo Oriente, em decorrência do sentimento nacionalista que geram.
- C) o Cristianismo, na Europa, está dividido em vários grandes ramos – entre eles, em especial, o Catolicismo Romano, o Protestantismo, o Anglicanismo e o Cristianismo Ortodoxo –, enquanto, nas Américas, predominam os dois primeiros.
- D) o Cristianismo Ortodoxo, resultante de um cisma, está presente e é influente em alguns países eslavos, tanto nos Bálcãs como no Leste Europeu, na Grécia e em algumas regiões asiáticas.

QUESTÃO 38

É **INCORRETO** afirmar que a atual política externa brasileira e o papel geopolítico do País, hoje, no mundo, representam

- A) uma aproximação do NAFTA, em razão da necessidade de se concretizarem os tratados comerciais entre esse bloco e o Mercosul, tendo-se em vista a implementação da ALCA.
- B) um reforço em sua posição econômica e, possivelmente, um novo papel geopolítico no mundo, graças à qualidade de potência regional do Brasil na América do Sul.
- C) um repúdio à ocupação do Iraque e, por outro lado, um apoio à criação do Estado da Palestina, posições formalmente defendidas nos foros internacionais de que o Brasil participa.
- D) uma defesa da idéia do perdão, tanto pelo Brasil quanto pelos países centrais, da dívida dos países mais pobres do mundo – especialmente os africanos.

QUESTÃO 39

Considerando-se a agricultura comercial praticada no Brasil, é **INCORRETO** afirmar que

- A) o agronegócio constitui um canal de entrada do capital internacional na agricultura brasileira e, assim, contribui para a subordinação de grande parte dessa atividade aos interesses estrangeiros.
- B) a agricultura de exportação reúne, em reduzidos espaços, grande diversidade de culturas visando a atender às exigências do mercado.
- C) as áreas agrícolas de incorporação recente apresentam estrutura fundiária concentrada e exigem elevados investimentos por hectare cultivado.
- D) as últimas safras agrícolas justificam a expressão “celeiro mundial” atribuída ao País e contribuem para a liderança deste na exportação de vários produtos alimentares.

QUESTÃO 40

O desempenho atual da indústria brasileira sofre interferência negativa de fatores de ordem interna ou externa.

Considerando-se essa informação, é **INCORRETO** afirmar que, no Brasil, a indústria é afetada,

- A) **internamente**, pelo custo das tarifas públicas e pela carga tributária, que penalizam o setor produtivo brasileiro.
- B) **externamente**, pelas oscilações no valor da moeda do País, que interferem na competitividade do produto nacional.
- C) **externamente**, pelos acordos bilaterais que, assinados pelo País, restringem o número de parceiros e itens comercializados.
- D) **internamente**, pelo baixo poder aquisitivo de grande parte do mercado consumidor, conseqüência da má distribuição de renda no País.

QUESTÃO 41

Analise esta tabela, em que se relacionam as nove unidades administrativas mais ricas do País e suas respectivas participações no PIB nacional, em 1999 e em 2002:

Municípios e Distrito Federal	Participação Relativa no PIB Nacional (%)	
	1999	2002
São Paulo	11,6	10,4
Rio de Janeiro	5,6	4,7
Brasília	2,3	2,7
Manaus	1,3	1,5
Belo Horizonte	1,5	1,4
Duque de Caxias	0,8	1,0
Curitiba	1,3	1,0
Guarulhos	1,1	1,0
São José dos Campos	1,0	1,0
TOTAL	26,5	24,7

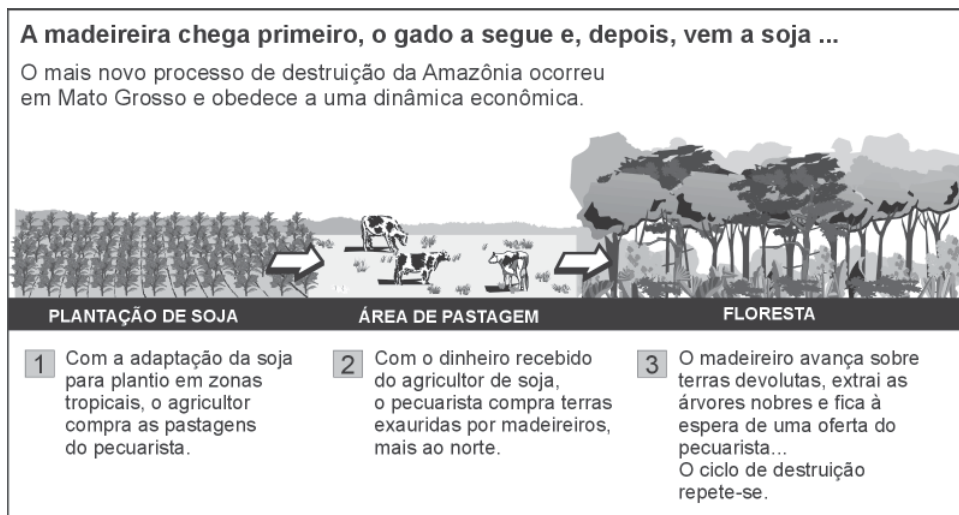
FONTE: *Folha de S. Paulo*, São Paulo, 4 maio 2005. Caderno Dinheiro. (Adaptada)

A partir dessa análise e considerando-se outros conhecimentos sobre o assunto, é **INCORRETO** afirmar que, no período considerado,

- A) os dois municípios de maior população foram os que alcançaram crescimento mais significativo da participação percentual no PIB nacional.
- B) a importância que as atividades industriais ocupam na composição do PIB dessas unidades administrativas é um dos fatores que explicam a concentração espacial da riqueza no Brasil.
- C) a presença, nesse *ranking*, de municípios que não sediam administrações estaduais pode ser explicada pelo extravasamento da atividade industrial de grandes centros para municípios situados em suas proximidades.
- D) o Distrito Federal ocupa posição de destaque por ser a Capital Federal e, conseqüentemente, pela importância de seu setor terciário na geração de renda.

QUESTÃO 42

Analise esta figura, em que está representado um dos processos responsáveis pelo desmatamento da Amazônia:



FONTE: PERES, L.; COUTINHO, L. O Paraíso Cercado e Ameaçado. *Veja*, 25 fev. 2004, p. 65. (Adaptada)

Com base nas informações dessa figura, é **INCORRETO** afirmar que

- A) o desmatamento da Amazônia vem ocorrendo em bases racionais, o que implica o corte seletivo de espécies de maior valor econômico.
- B) a introdução do cultivo de grãos constitui a etapa final do processo de desmatamento na fronteira agrícola sul.
- C) a sucessão temporal e espacial das atividades econômicas integra essa região ao mercado mundial.
- D) as atividades econômicas que avançam sobre a floresta acarretam prejuízo ao patrimônio natural, embora atendam aos interesses do agronegócio.

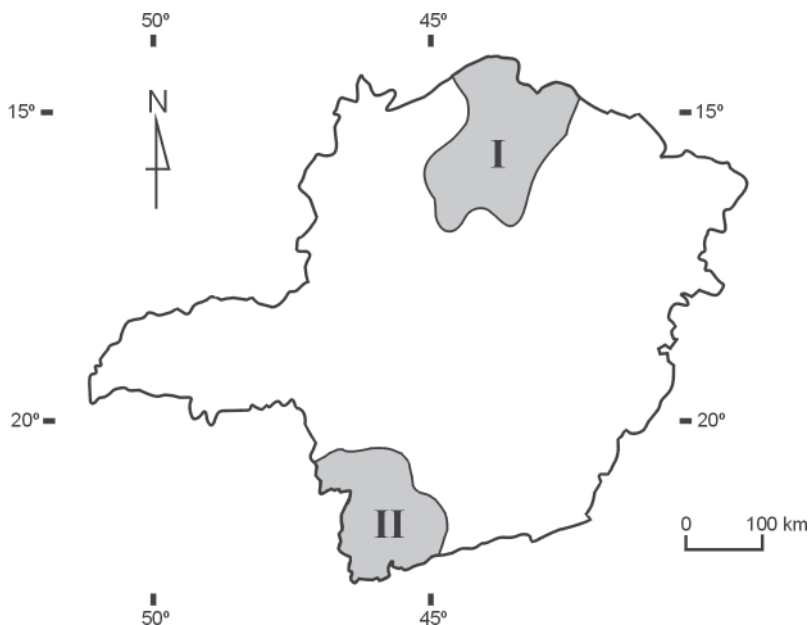
QUESTÃO 43

Considerando-se a posição geoeconômica e política ocupada pela Região Nordeste, hoje, no Brasil, é **INCORRETO** afirmar que essa região se caracteriza por

- A) significativa mobilidade intra-regional de populações atraídas pelo maior dinamismo econômico das metrópoles Salvador, Recife e Fortaleza.
- B) autonomia no controle de suas atividades econômicas, que se traduz em independência em relação à região de economia mais dinâmica do País.
- C) importância, no plano político nacional, desproporcional a seu peso econômico quando comparada ao papel exercido pelo Centro-Sul do País.
- D) relativo declínio da participação de seu setor agropecuário no contexto nacional, sobretudo no que se refere à produção de algodão e de cana-de-açúcar.

QUESTÃO 44

Analise este mapa, em que estão destacadas duas regiões – I e II – do Estado de Minas Gerais:



A partir dessa análise e com base em outros conhecimentos sobre o assunto, é **INCORRETO** afirmar que

- A) a Região II, que abriga as maiores jazidas de ferro do País, fornece parcela considerável do principal minério que figura na pauta de exportação brasileira.
- B) a Região I está inserida no Polígono das Secas, onde a irregularidade das precipitações e as estiagens prolongadas condicionam a atividade agrícola.
- C) a Região I tem sua rede urbana inserida na zona de influência da Capital Mineira e possui um único centro regional – a cidade de Montes Claros.
- D) a Região II é parte integrante da bacia hidrográfica do Rio Paraná, que se destaca por constituir, hoje, no Brasil, a principal fonte geradora de energia.

QUESTÃO 45

Vários elementos da paisagem natural da Amazônia brasileira aparecem com destaque em *Contos amazônicos*, de Inglês de Sousa. Nessa obra, tais elementos associam-se à vida humana nas suas dimensões culturais, econômicas, sociais e religiosas.

Assinale a alternativa em que a associação proposta entre o elemento físico e a dimensão humana, **NÃO** se confirma na leitura da obra.

- A) Os rios, paranás, igarapés e lagos, que formam uma trama intrincada, complexa, são fonte de alimentos, meio de vida e vias de comunicação.
- B) A floresta, cuja existência é explicada pelo clima, bem como as formações herbáceas, favoráveis à pecuária, é fator marcante na paisagem e na vida humana.
- C) As pesadas chuvas que caem no final da tarde, típicas do clima e das condições atmosféricas dominantes, relacionam-se, às vezes, a momentos de tensão e de medo.
- D) Os amplos horizontes, decorrentes da predominância de planícies na região, desprovida de serras, despertam, no homem amazônico, sentimentos de ócio e preguiça.