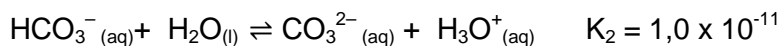
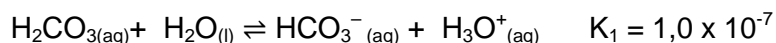


**Questão 1** – O ácido carbônico é formado quando se “borbulha” o dióxido de carbono em água. Ele está presente em águas gaseificadas e refrigerantes. Em solução aquosa, ele pode sofrer duas dissociações conforme as equações abaixo:



- a) Calcule o pH de uma solução de ácido carbônico 0,1 mol.L<sup>-1</sup>, considerando apenas a primeira dissociação.

--	--

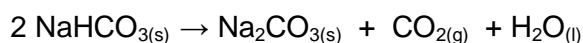
- b) Sabe-se que o íon bicarbonato, ou hidrogenocarbonato, tem um comportamento anfótero, ou seja, pode se comportar tanto como um ácido quanto como uma base. De acordo com a teoria de Bronsted-Lowry, escreva as reações possíveis do íon bicarbonato com a água.

Bicarbonato como base	
Bicarbonato como ácido	

- c) O dióxido de carbono sólido, gelo seco, é muito utilizado em casas noturnas e shows para criar uma névoa branca. Qual é o nome da mudança de estado físico que permite a formação dessa névoa? Qual é a geometria molecular do dióxido de carbono?

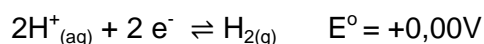
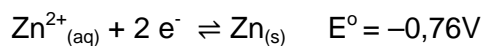
Mudança de Estado Físico	Geometria

- d) O CO<sub>2</sub> também pode ser produzido pela decomposição do fermento biológico, ou seja, o bicarbonato de sódio. Calcule o volume de CO<sub>2</sub>, em mililitros, gerado pela decomposição de 6,0g de bicarbonato de sódio, nas condições normais de pressão e temperatura.



--	--

**Questão 2** – Um aluno fez experimentos eletroquímicos com placas de cobre e soluções ácidas e salinas. No primeiro experimento, a placa de cobre foi mergulhada em uma solução de ácido clorídrico (pH=1). No segundo experimento, outra placa de cobre foi mergulhada em uma solução de nitrato de prata. Com base nos valores de potencial apresentados abaixo, responda aos itens a, b, c, d.



a) Ocorreu alguma reação no primeiro experimento? Explique.

--

b) Identifique os agentes redutor e oxidante do segundo experimento.

Agente Redutor	Agente Oxidante

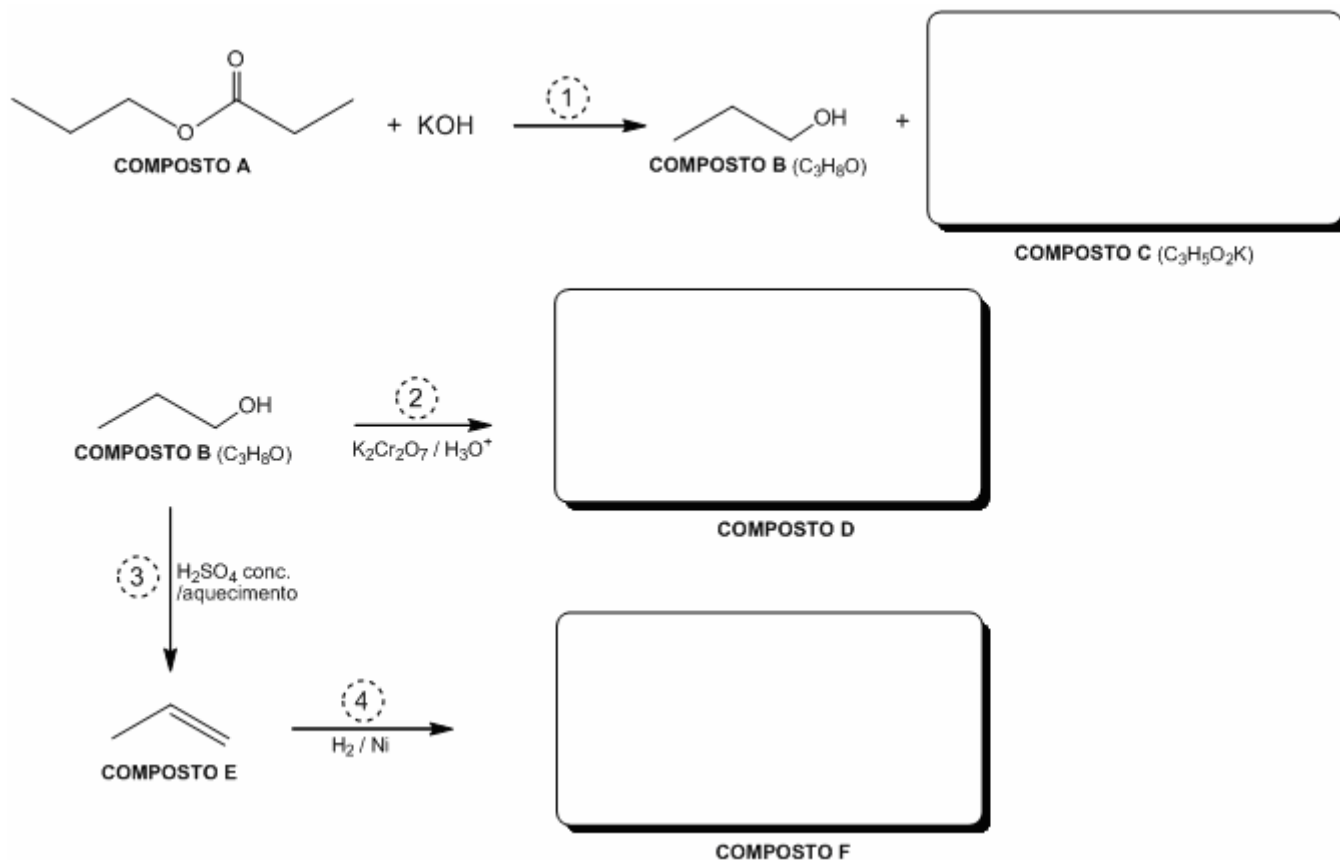
c) Calcule a ddp do processo, caso a placa de cobre seja trocada por uma placa de zinco no primeiro experimento.

--

d) Se a placa de cobre for trocada por uma placa de ouro, o que ocorreria no segundo experimento? Justifique.

--

**Questão 3** – Complete o esquema abaixo com as estruturas dos compostos C, D e F. No quadro, escreva os tipos das reações 1 e 3, bem como o nome dos compostos A, C, D e F.



Reações	Tipos das Reações	Nomes dos Compostos
$\textcircled{1}$		A –
		B – 1-propanol
		C –
$\textcircled{2}$	Oxidação em meio ácido	D –
$\textcircled{3}$		E – propeno
$\textcircled{4}$	Hidrogenação catalítica	F –

**Questão 4** – Podemos classificar alguns óxidos como ácidos, básicos, anfóteros ou neutros. Propriedades como eletronegatividade, tipo de ligação e reações químicas nos dão indicações sobre qual tipo de óxido um determinado elemento pode formar.

- a) Escreva a equação química balanceada da reação de cada óxido apresentado no quadro abaixo com a água e ainda a coloração da solução formada em presença de fenolftaleína.

Óxido	Reação com Água	Coloração
$N_2O_5$		
$Na_2O$		

- b) Classifique os óxidos abaixo e indique o tipo de ligação química formada.

Óxido	Classificação	Tipo de Ligação
$N_2O_5$		
$Na_2O$		

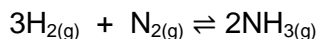
- c) Escreva o nome e a fórmula eletrônica do produto obtido pela reação do trióxido de enxofre com água.

Nome	Fórmula Eletrônica

- d) Escreva a equação BALANCEADA da reação do  $Na_2O$  com ácido clorídrico.

--

**Questão 5** – A síntese da amônia foi desenvolvida por Haber-Bosh e teve papel importante durante a 1ª Guerra Mundial. A Alemanha não conseguia importar salitre para fabricação dos explosivos e, a partir da síntese de  $\text{NH}_3$ , os alemães produziam o  $\text{HNO}_3$  e deste chegavam aos explosivos de que necessitavam. A equação que representa sua formação é mostrada abaixo:



- a) A partir da equação química para a reação de formação da amônia, descrita acima, e sabendo que a reação apresenta  $\Delta H < 0$ , o que aconteceria com o equilíbrio, caso a temperatura do sistema aumentasse?

- b) Calcule a variação de entalpia da formação da amônia, a partir das energias de ligação mostradas na tabela a seguir, a 298K:

Ligação	Energia de Ligação ( $\text{kJ}\cdot\text{mol}^{-1}$ )
H–H	436
$\text{N}\equiv\text{N}$	944
H–N	390

- c) Suponha que a uma determinada temperatura T foram colocados, em um recipiente de 2,0 litros de capacidade, 2,0 mols de gás nitrogênio e 4,0 mols de gás hidrogênio. Calcule o valor da constante de equilíbrio, Kc, sabendo que havia se formado 2,0 mols de amônia ao se atingir o equilíbrio.

- d) Considere que a lei de velocidade para a reação de formação da amônia é  $v = k [\text{H}_2]^3 [\text{N}_2]$ . Calcule quantas vezes a velocidade final aumenta, quando a concentração de nitrogênio é duplicada e a de hidrogênio é triplicada, mantendo-se a temperatura constante.