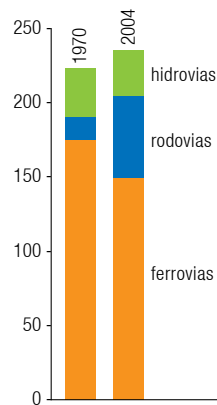
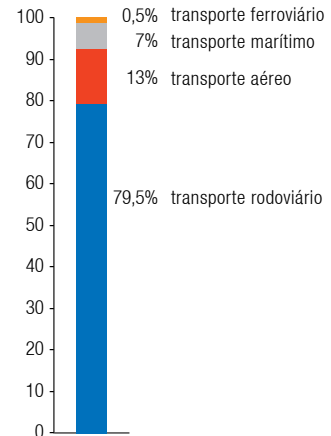


53

**União Europeia**  
Extensão da rede de transportes  
(milhares de quilômetros)



**Mundo**  
Emissões de gases estufa  
(porcentagem)



Adaptado de *Atlas do meio ambiente. Le Monde Diplomatique Brasil*, 2008.

A comparação entre os gráficos permite associar as mudanças na rede de transporte aos seus impactos ambientais. A principal consequência sobre o meio ambiente resultante dos investimentos na matriz de transportes da União Europeia entre 1970 e 2004 é:

- (A) agravamento do aquecimento global
- (B) acentuação do fenômeno da Ilha de Calor
- (C) aceleração do processo de desmatamento
- (D) aumento da destruição do ozônio estratosférico

54

Socialista surgiu como descrição filosófica em princípios do século XIX. Sua raiz linguística era o sentido desenvolvido de social.

A distinção decisiva entre socialista e comunista, como em certo sentido esses termos são hoje comumente utilizados, veio com a mudança de nome, em 1918, do Partido Operário Social-democrata Russo para Partido Comunista Panrusso. Dessa época em diante, uma distinção entre socialista e comunista tornou-se amplamente vigente.

RAYMOND WILLIAMS

Adaptado de "Socialista". In: *Palavras-chave: um vocabulário de cultura e sociedade*. São Paulo: Boitempo, 2007.

Na história europeia, durante o século XX, estabeleceu-se uma diferença entre socialismo e comunismo relacionada ao seguinte aspecto:

- (A) crítica dos valores liberais
- (B) controle da indústria pelo Estado
- (C) defesa da ditadura do proletariado
- (D) importância do sentimento patriótico

## Tribunal de Contas da União: segurança nuclear é falha



Adaptado de O Globo, 11/04/2009

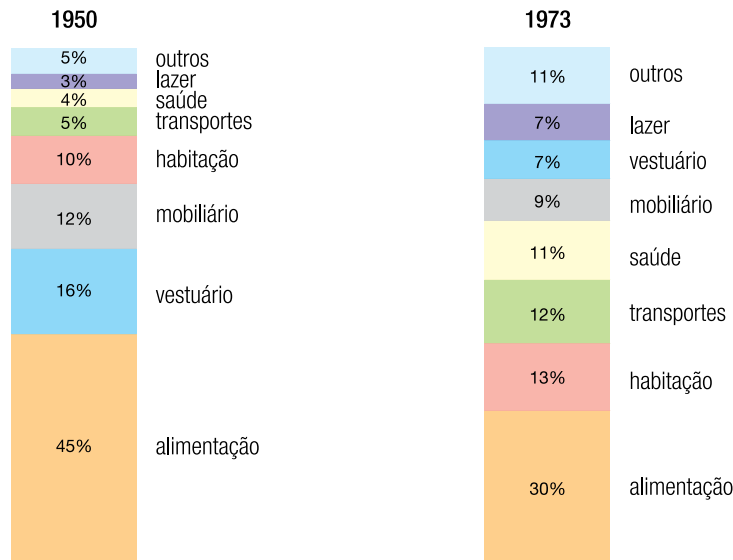
Há 34 anos, os governos do Brasil e da Alemanha firmavam programa de cooperação que previa a construção de oito centrais termonucleares, além de usinas de enriquecimento de urânio e de reprocessamento do combustível nuclear.

Além das irregularidades apontadas na reportagem, o atual programa nuclear brasileiro tem como principal problema:

- (A) risco de poluição ambiental
- (B) inviabilidade da tecnologia adotada
- (C) ausência de fontes de investimentos
- (D) indisponibilidade de mão-de-obra qualificada

## 56

Os gráficos abaixo apresentam a média de gastos mensais dos franceses com diferentes itens do orçamento doméstico em 1950 e em 1973.



VINCENT ADOUMIÉ

*Histoire et Géographie. 3e. Paris: Hachette, 2004.*

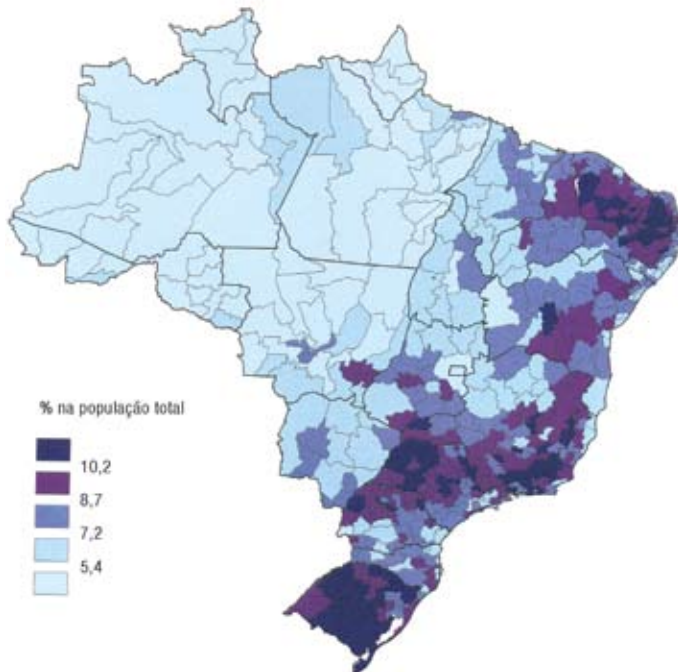
As mudanças observadas na distribuição dos percentuais das despesas domésticas, no período analisado, estão associadas ao seguinte processo histórico ocorrido nos países desenvolvidos:

- (A) elevação do custo de vida da classe trabalhadora, relacionada à crise do petróleo
- (B) desestruturação dos serviços públicos, ligada à ascensão de partidos políticos liberais
- (C) consolidação da sociedade de consumo de massa, vinculada à afirmação do modelo produtivo fordista
- (D) diminuição do poder de compra da população, articulada à depressão econômica do período keynesiano

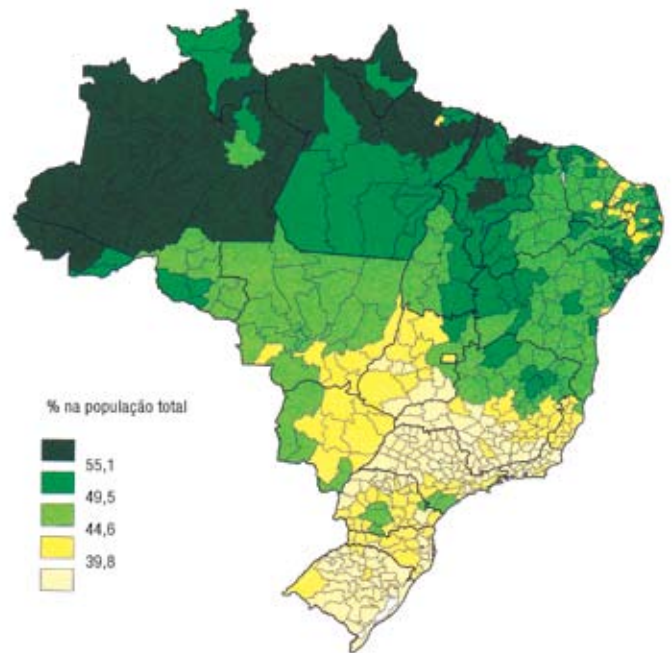
57

### Proporção da população brasileira em dois grupos de idades – 2000

população com mais de 60 anos de idade



população com até 15 anos de idade

CESAR JACOB *et al.**Atlas da filiação religiosa e indicadores sociais no Brasil*. Rio de Janeiro: Ed. PUC-Rio; São Paulo: Loyola, 2003.

A transição demográfica que ocorre no Brasil gera diferenças socioespaciais entre as macrorregiões do país. De acordo com os mapas, as menores proporções de população em idade ativa são encontradas na seguinte macrorregião brasileira:

- (A) Sul
- (B) Norte
- (C) Sudeste
- (D) Nordeste

58

Os monumentos da cidade vão permanecer como  
leões nas areias do deserto  
Desafiando o destino  
E quando os muros forem derrubados com estrondo  
A queda vai ecoar  
Para o testemunho de toda Europa

GOTTFRIED BENN

In: Folha de São Paulo, 16/11/1989



Próxima às ruínas do Muro de Berlim, está preservada uma placa com o seguinte aviso em inglês, russo, francês e alemão: “Você está deixando o setor americano”.

Adaptado de O Globo, 19/03/2009

Em 2009, comemoram-se na Alemanha vinte anos da derrubada do Muro de Berlim. Sua construção, em 1961, esteve relacionada à:

- (A) divisão étnica da cidade
- (B) crise dos regimes democráticos europeus
- (C) bipolaridade das relações internacionais
- (D) reação nacionalista à influência estrangeira

## 59

Para nós, operários, milagre é conseguir sobreviver com os baixos salários que recebemos. Para isso, somos obrigados a trabalhar 12 a 13 horas por dia, e muitos trabalham aos domingos, o que significa, na prática, o fim de uma das maiores conquistas da classe operária: a jornada de 8 horas e o descanso semanal.

Manifesto da Oposição Metalúrgica de São Paulo, 1975.

Apud PAES, Maria Helena Simões. *Em nome da segurança nacional: do golpe de 64 ao início da abertura*. São Paulo: Atual, 1995.



In: *Nosso Século*, nº 78. São Paulo: Abril Cultural, 1980.

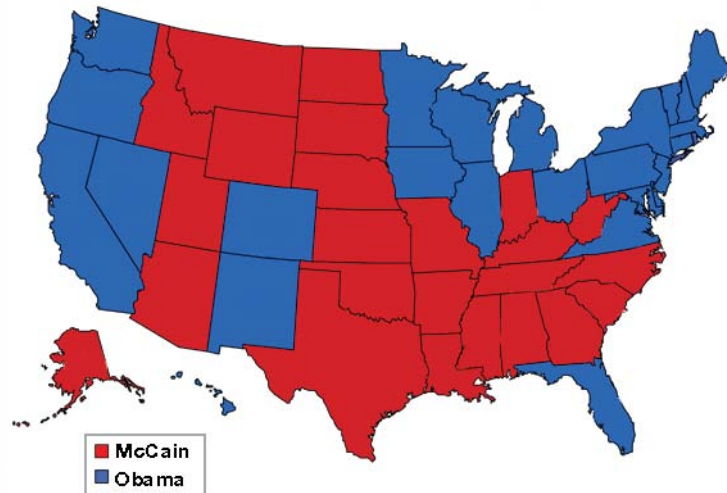
Entre 1969 e 1973, em função das taxas de crescimento então alcançadas, o momento econômico do país ficou conhecido como o do “milagre brasileiro”.

Com base no testemunho do movimento operário e na publicidade, pode-se concluir que os principais efeitos do “milagre brasileiro” foram:

- (A) elevação do PIB – expansão dos sindicatos
- (B) nacionalização da indústria – revisão das leis trabalhistas
- (C) modernização da tecnologia – qualificação da mão-de-obra
- (D) internacionalização da economia – concentração de renda

60

McCain/Obama por estado



<http://blog.estadao.com.br>

A vitória de Barack Obama nas eleições presidenciais de 2008 foi revestida de grande significado. O mapa dos resultados finais do último pleito nacional norte-americano revela que a história do país continua afetando a sua geografia eleitoral.

É possível associar cerca de metade dos estados onde Barack Obama foi derrotado em 2008 ao seguinte aspecto da história dos Estados Unidos:

- (A) utilização da mão-de-obra escrava
- (B) proibição da entrada de imigrantes
- (C) implantação das primeiras unidades industriais
- (D) consolidação das principais organizações sindicais