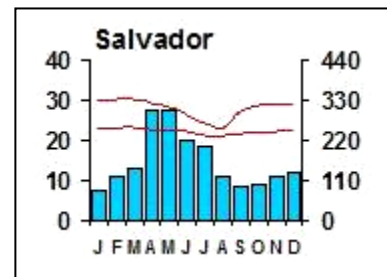
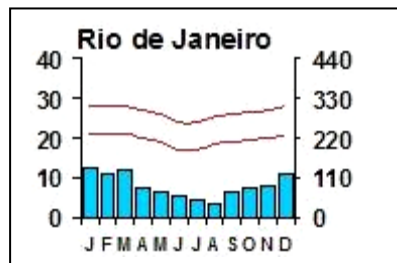
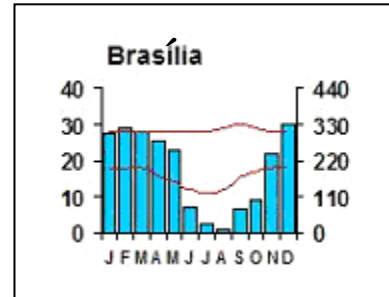
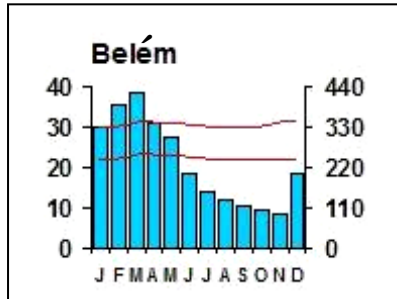


1) Leia os climogramas e o mapa.

a) Identifique o tipo climático representado em cada climograma.



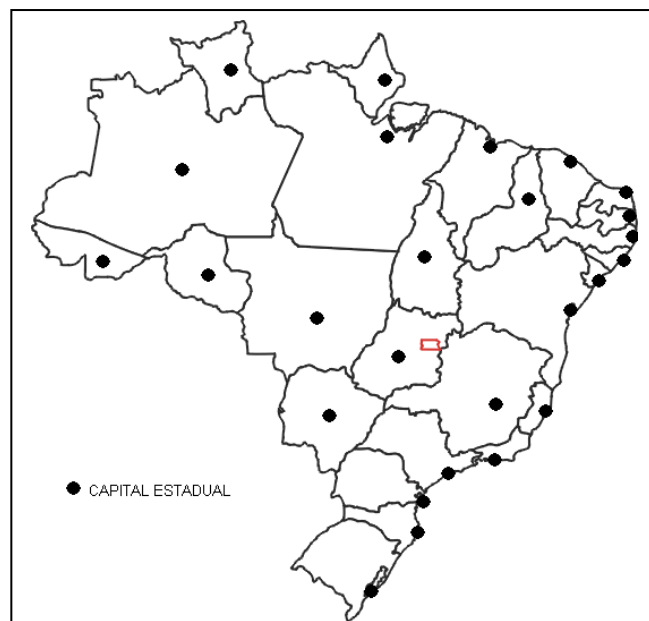
Legenda:

temperatura mínima e máxima

pluviosidade

b) Escreva, no mapa, o número que corresponde à localização das seguintes cidades:

- 1- Belém
- 2- Brasília
- 3- Rio de Janeiro
- 4- Salvador



2) Leia a letra da música.

***WAR**

Bob Marley

"[...] ATÉ O DIA EM QUE A FILOSOFIA QUE SUSTENTA
QUE UMA RAÇA É SUPERIOR E A OUTRA, INFERIOR
SEJA FINALMENTE E PERMANENTEMENTE DESACREDITADA
E ABANDONADA
ATÉ O DIA EM QUE NÃO EXISTAM MAIS
CIDADÃOS DE PRIMEIRA E SEGUNDA CLASSE
DE QUALQUER NAÇÃO
ATÉ O DIA EM QUE A COR DA PELE DE UM HOMEM
NÃO TENHA MAIOR SIGNIFICADO QUE
A COR DE SEUS OLHOS
ATÉ O DIA EM QUE DIREITOS HUMANOS BÁSICOS
SEJAM GARANTIDOS IGUALMENTE PARA TODOS,
SEM DISCRIMINAÇÃO DE RAÇA
ATÉ QUE CHEGUE ESSE DIA,
O SONHO DE PAZ DURADOURA, CIDADANIA MUNDIAL
E AS REGRAS DA MORALIDADE INTERNACIONAL
NÃO SERÃO MAIS QUE MERA ILUSÃO
A SER PERSEGUIDA, MAS NUNCA ATINGIDA
ATÉ O DIA EM QUE OS REGIMES IGNÓBEIS E INFELIZES
QUE AGORA APRISIONAM NOSSOS IRMÃOS
EM ANGOLA, EM MOÇAMBIQUE E NA ÁFRICA DO SUL
EM CONDIÇÕES SUBHUMANAS SEJAM
DESTRUÍDOS PRA SEMPRE BANIDOS
[...]."

* Música gravada no álbum Rastaman Vibration, de [Bob Marley & The Wailers](#), lançado em [30 de abril](#) de [1976](#).
Disponível em: <<http://www.multirio.rj.gov.br/sec21/>>. Acesso em: 17 nov. 2007.

- a) Cite um fator que dá origem a conflitos, apresentado na letra da música. (Não responda copiando trecho da música.)

| |
|--|
| |
| |

- b) O fator que você citou no item **a** é a causa de qual conflito?

| |
|--|
| |
| |
| |

- c) Com relação ao conflito que você citou no item **b**, responda:

Onde ocorre esse conflito?

| |
|--|
| |
| |
| |

3) Leia as notícias abaixo.

Novo campo de Tupi deve mudar perfil energético do Brasil, afirma Dilma Rousseff

Em coletiva realizada após a reunião do Conselho Nacional de Política Energética, no Rio de Janeiro, a ministra Dilma Rousseff afirmou que a área denominada Tupi, localizada na bacia de Santos, pode modificar o atual perfil energético do Brasil.

O presidente da Petrobrás, José Sérgio Gabrielli, disse que com a nova descoberta o Brasil deve subir do 24º lugar no ranking de maiores reservas do mundo para a 8ª ou 9ª colocação, com o acréscimo de 5 a 8 bilhões de barris de petróleo à produção atual (que é de 14,4 bilhões).

A Petrobrás, por sua vez, passaria do atual quinto lugar para o terceiro lugar em termos de tamanho de reservas entre as companhias petroleiras listadas em bolsa de valores em todo o mundo.

A Petrobrás é operadora da área com 65% do capital, em parceria com a britânica BG Group, que detém 25%, e a portuguesa Petrogal/Galp, com 10%.

(Disponível em: <<http://noticias.uol.com.br/ultnot/2007/11/08/ult23u707.jhtm>>. Acesso em: 8 nov. 2007.)

“O Ministro das Minas e Energia informou que a refinaria a ser construída pela Petrobrás em parceria com a Petróleos de Venezuela S. A. (PDVSA) ficará em Pernambuco. Pelo menos 11 estados disputam o empreendimento.”

(Disponível em: <www.gaspnet.com.br/retormonot.asp?iNoticia=2303&iTipo=1&page=0&idioma=1>. Acesso em: 22 nov. 2007.)

Com base na leitura das notícias, responda aos itens **a** e **b**.

a) Por que o novo campo de Tupi deve mudar o perfil energético do Brasil?

| |
|--|
| |
| |
| |
| |
| |

b) Cite dois fatores que determinam a localização de uma refinaria.

| |
|---|
| 1 |
| |
| 2 |
| |



4) Leia os fragmentos abaixo.

“Um detalhado documento divulgado pela Organização Mundial da Saúde (OMS) no mês de junho chama a atenção para o peso do meio ambiente sobre a saúde e a mortalidade do mundo todo.

[...] Segundo o estudo, tornar mais saudável o lugar onde habitamos pode evitar 13 milhões de mortes por ano. Em muitos países, cerca de 30% das doenças são provocadas por causas ambientais.”

(BIANCARELLI, Aureliano. O pior de dois mundos. *Fórum*, São Paulo, v. 5, n. 52. p. 28, jul. 2007.)

a) Cite duas doenças provocadas por causas ambientais.

| |
|--|
| |
| |


“Segundo o estudo da OMS, 33% de todas as doenças de crianças menores de cinco anos se devem à exposição a riscos ambientais. Pelo menos 4 milhões delas morrem por essas causas por ano só nos países em desenvolvimento.”

(BIANCARELLI, Aureliano. O pior de dois mundos. *Fórum*, São Paulo, v. 5, n. 52. p. 28, jul. 2007.)

b) Cite e explique uma implicação desse fato para os países em desenvolvimento.

| |
|--|
| |
| |
| |
| |
| |

5) Leia, com atenção, as tirinhas e o texto apresentados.



Fonte: QUINO. *Cada um no seu lugar*. São Paulo: Martins Fontes, 2005, p. 15.

continua na página seguinte ...



“No documentário de Silvio Tendler sobre o geógrafo Milton Santos, deparei com uma frase instigante. Em meio a suas reflexões geniais sobre os horrores da globalização neoliberal e a possibilidade de outra globalização (a globalização dos povos), o grande intelectual, há pouco falecido, de repente afirma: ‘o consumo tornou-se o maior de todos os fundamentalismos.’”

(ARANTES, José Tadeu. O novo fundamentalismo. *Le Monde Diplomatique*. Brasil, v. 1, n. 3, p. 3, out. 2007.)

Existe relação entre as tirinhas do Quino e a afirmativa de Milton Santos? Explique sua resposta.

| |
|--|
| |
| |
| |
| |
| |
| |
| |
| |
| |

6) Leia o fragmento de texto abaixo.

“Com o aprofundamento da concorrência intercapitalista tem havido uma maior concentração e centralização do capital, seja nos setores produtivos, seja no setor bancário e financeiro, o que concede maior importância para o papel das grandes corporações **transacionais**. Na realidade, conformam-se oligopólios mundiais, responsáveis pela dominação dos principais mercados, como é o caso no setor de computadores com apenas 10 empresas controlando 70% da produção, ou de 10 empresas que respondem por 82% da produção de automóveis, ou de 8 empresas que dominam 90% do processamento de dados, ou de 8 empresas que dominam 71% do setor petroquímico ou ainda de 7 empresas que respondem por 92% do setor de material de saúde.”

(CHESNAIS apud POCHMANN, Márcio. Economia global e a nova Divisão Internacional do Trabalho. Disponível em: < <http://decon.edu.uy/network/>>. Acesso em: 16 nov. 2007.)

a) Cite duas vantagens para as grandes corporações transnacionais formarem oligopólios.

| |
|----|
| 1- |
| |
| 2- |
| |

b) Cite e explique um efeito da ação dos oligopólios na economia dos países menos desenvolvidos.

| |
|--|
| |
| |
| |
| |
| |