

PROVA DE GEOGRAFIA

QUESTÃO 17

Leia este trecho:

“Do chapadão – de onde tudo se enxerga. Do chapadão com desprumo de duras ladeiras repentinas, onde a areia se cimenta: a grava do areal rosado, fazendo pururuca debaixo dos cascos dos cavalos e da sola crua das alpercatas. Ou aquela areia branca, por baixo da areia amarela, por baixo da areia rosa, por baixo da areia vermelha – sarapintada de areia verde [...] O vivido velho dos vaqueiros, gritando galope, encourados rentes, aboiando. Os bois de todo berro, marruás com marcas de unha de onça. Chovia de escurecer, trovoava, trovoava, a escuridão lavrava em fogo. E na chapada a chuva sumia, bebida, como por encanto, não deitava um lenço de lama, não enxurrava meio rego. Depois, subia um branco poder de sol, e um vento enorme falava, respondiam todas as árvores do cerrado [...] E o coração e corôo de tudo, o real daquela terra, eram as veredas vivendo em verde com o muito espelho de suas águas [...] e o buritizal...”

GUIMARÃES ROSA, João. *O recado do Morro*. Rio de Janeiro: Nova Fronteira, 2007. p.116-117.

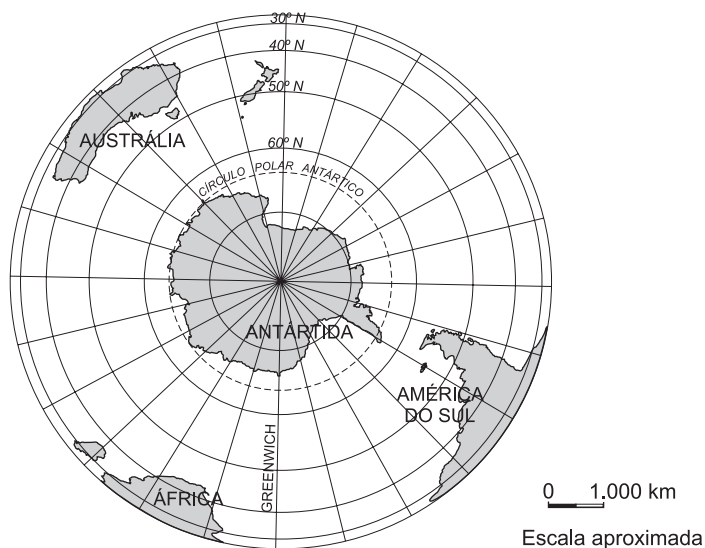
A partir dessa leitura e considerando-se outros conhecimentos sobre o assunto, é **INCORRETO** afirmar que

- A) a pecuária extensiva, que, por longo tempo, foi a principal atividade econômica da região, criou tipos humanos da sociedade sertaneja – o vaqueiro, o peão, o boiadeiro.
- B) a realidade é falseada quando se descrevem, numa região de pouca umidade, chuvas abundantes e fortes, com nuvens escuras, relâmpagos e trovões.
- C) a unidade paisagística descrita é típica do Brasil Central – as grandes chapadas tabulares, do domínio morfoclimático dos cerrados, das matas galerias e veredas.
- D) o solo, por ser arenoso, favorece a infiltração da água da chuva e reduz o escoamento superficial, o que torna o subsolo das chapadas um importante reservatório hídrico.

QUESTÃO 18

Analise este mapa:

A Antártida e áreas oceânicas e continentais periféricas



FONTE: *Atlas geográfico escolar*. 3. ed. Rio de Janeiro: IBGE, 2006. p. 33. (Adaptado)

A partir dessa análise e considerando-se outros conhecimentos sobre o assunto, é **INCORRETO** afirmar que

- A) a Antártida é um continente coberto por uma imensa capa de gelo de água doce, cercada de águas oceânicas, cujo equilíbrio ambiental é de interesse planetário.
- B) a península lançada em direção à Terra do Fogo é a menos desfavorável à presença do homem na região, pois possibilitou a criação de estações permanentes de pesquisa.
- C) a tundra, própria de climas muito frios, encontra condições favoráveis para se desenvolver amplamente nessa região e se constitui a base de uma cadeia alimentar diversificada.
- D) o Círculo Polar Antártico limita, praticamente, o Continente à Zona Polar e, por isso, a Antártida é o mais extenso e contínuo domínio de climas polares continentais da Terra.

QUESTÃO 19

Leia este trecho:

“De um ano para cá, nenhum bicho foi tão mal falado quanto esse tal ‘aquecimento global’. Dia sim, dia não, aparece alguém dizendo que ele vai nos devorar.

.....

Ninguém sabe ao certo, mesmo porque, em fenômenos naturais, o conhecimento humano engatinha. Mas o fato é que, até agora, a paranóia em relação ao aquecimento global só fez bem ao Brasil. [...] Além disso, não dá para levar a sério a previsão de que o calor vai ‘savanizar’ a Amazônia e ‘desertificar’ o cerrado. Segundo o geógrafo Aziz Ab’Saber, ao contrário, o aquecimento será bom para a floresta, uma vez que o Brasil está sujeito às correntes marítimas.”

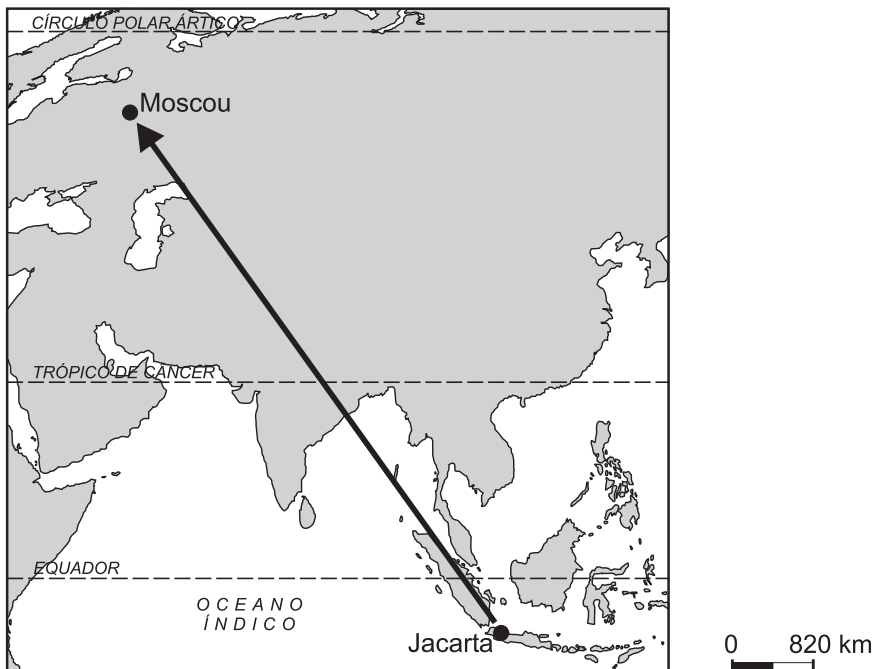
Em defesa do aquecimento global. *ISTOÉ*, 11 abr. 2007. Opinião e Idéias, p. 48. (Adaptado)

A partir dessa leitura e considerando outros conhecimentos sobre o assunto, é **INCORRETO** afirmar que, nesse trecho, o uso da frase

- A) “a paranóia em relação ao aquecimento global só fez bem ao Brasil” pode se referir, por exemplo, ao uso do etanol, que, ao substituir o petróleo, reduz a emissão de gases-estufa.
- B) “ele vai nos devorar” pode se referir à possibilidade de inundação de importantes cidades, na extensa zona costeira do Planeta, em consequência da elevação do nível dos oceanos.
- C) “em fenômenos naturais, o conhecimento humano engatinha” associa a controvérsia atual sobre efeitos desse aquecimento à falta de pesquisas científicas mais aprofundadas.
- D) “o aquecimento será bom para a floresta” se refere aos benefícios futuros da redução das precipitações na Amazônia, que tornará esse espaço mais favorável ao homem.

QUESTÃO 20

Analise este mapa, em que está indicado o trajeto de um viajante que, de avião, partiu de Jacarta, na Indonésia, com destino a Moscou:



FONTE: *Atlas geográfico escolar*. 3. ed. Rio de Janeiro: IBGE, 2006. p. 47. (Adaptado)

Com base em suas observações e conhecimentos geográficos, esse viajante fez várias anotações, numa agenda, sobre as regiões sobrevoadas durante sua viagem.

Assinale a alternativa em que as anotações do viajante contêm informações geográficas **INCORRETAS**.

- A) Levantei vôo em Jacarta, cidade de um país que é um imenso arquipélago, de clima quente e úmido, revestido, outrora, de florestas e cuja população é predominantemente islâmica.
- B) Observei uma grande planície entre o Oceano Índico e uma grande cadeia de montanhas, que imagino tratar-se do delta do Rio Ganges, com seus formigueiros humanos flagelados por enchentes freqüentes.
- C) Suponho que esse sistema de cordilheiras e planaltos elevados, que acabei de cruzar, é o Himalaia, um dos mais imponentes conjuntos montanhosos do mundo, onde vivem populações de tradição budista – caso dos tibetanos.
- D) Julgo já estar próximo de Moscou, pois vejo extensos planaltos elevados, de clima temperado úmido, cobertos de florestas no passado, e com muitos lagos – inclusive o Aral, grande celeiro de cereais.

QUESTÃO 21

Os países menos desenvolvidos — tanto os semiperiféricos quanto os periféricos — ocupam, no cenário internacional, posição diferente da que mantiveram durante o período da Guerra Fria.

Considerando-se os aspectos que justificam essa posição atual, é **INCORRETO** afirmar que

- A) as pautas de exportação mais diversificadas dos países semiperiféricos se diferenciam do padrão anterior, caracterizado pelo fluxo de matérias-primas de áreas pobres para os países ricos e pelo de produtos industriais no sentido contrário.
- B) o crescimento da demanda de matéria-prima e de fontes de energia em algumas dessas economias tem não só valorizado o consumo interno das reservas nacionais, mas também provocado a elevação do preço desses itens no mercado internacional.
- C) o desenvolvimento de tecnologias de uso bélico — inclusive nuclear —, antes de domínio exclusivo de países desenvolvidos, transformou alguns países periféricos em destabilizadores da segurança mundial.
- D) os projetos de desenvolvimento econômico e social, financiados por organismos como o FMI e o Banco Mundial, têm contribuído para reduzir a interdependência que, ao longo do século XX, se estabeleceu entre países centrais e semiperiféricos.

QUESTÃO 22

Recentemente, aspectos de ordem política e humano-econômica da América Latina têm contribuído para modificar a participação desse Subcontinente no cenário mundial.

Considerando-se esses aspectos, é **INCORRETO** afirmar que o Subcontinente Latino-Americano

- A) é um dos grandes exportadores mundiais de combustíveis fósseis e oferece outras possibilidades energéticas em diversidade e volume que permitem sua utilização em outras partes do mundo.
- B) exerce grande poder de atração sobre empresas multinacionais, por abrigar considerável mercado potencial, formado por população numerosa e, ainda, com grande parte de suas necessidades não-atendidas.
- C) registra, hoje, graças ao emprego de tecnologias nele geradas, ritmo de desenvolvimento industrial que supera aquele verificado em outras regiões do mundo, que também abrigam países em desenvolvimento.
- D) tem gerado dúvidas sobre a segurança dos investimentos externos na região, devido às recentes nacionalizações de unidades industriais estrangeiras localizadas em alguns dos países que o constituem.

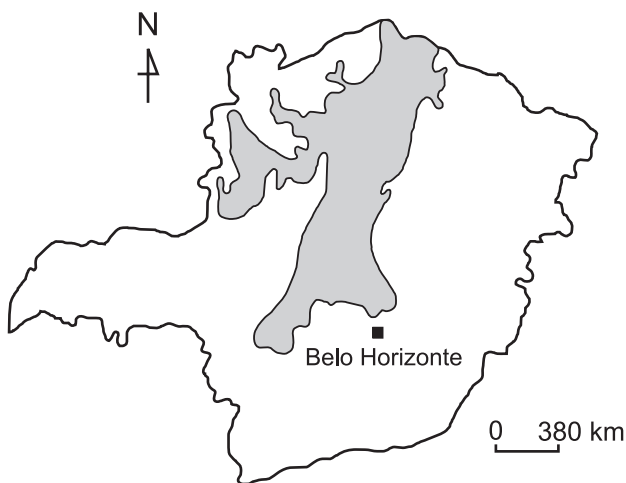
QUESTÃO 23

Considerando-se sua localização e sua dimensão, é **INCORRETO** afirmar que o território brasileiro

- A) é caracterizado por pequena variação latitudinal, responsável pela reduzida amplitude térmica anual registrada no País, típica de espaços intertropicais.
- B) é dotado de extenso litoral, de onde, historicamente, as áreas de fronteira agrícola se projetaram para as bordas da vasta floresta equatorial do Continente Sul-Americano.
- C) ocupa o interior de uma placa litosférica, responsável, em parte, pelo predomínio, na paisagem, de amplas depressões e de planaltos rebaixados pela erosão.
- D) possui quatro fusos horários atrasados em relação ao Meridiano de Greenwich, mas a hora oficial – a Hora de Brasília – estende-se a boa parte do País.

QUESTÃO 24

Analise este mapa, em que está destacada a área de distribuição espacial da Depressão do São Francisco em Minas Gerais:



FONTE: *Atlas geográfico escolar*. 3. ed. Rio de Janeiro: IBGE, 2006. p. 97. (Adaptado)

A partir dessa análise e considerando outros conhecimentos sobre o assunto, é **INCORRETO** afirmar que essa área

- A) abriga uma população que, em número e densidade, decresce, *grosso modo*, de sul para norte, à medida que se afasta da metrópole nacional localizada em território mineiro.
- B) constitui, hoje, o principal pólo mineiro de atração da indústria nacional, diretamente beneficiado pela desconcentração industrial em curso no Estado.
- C) é constituída de grandes áreas, em que a criação extensiva de gado faz uso de pastagens desenvolvidas em áreas ocupadas, originalmente, pelo cerrado e pela caatinga.
- D) ocupa extenso corredor de terras baixas, de orientação norte-sul, resultante do rebaixamento do relevo por ação do Rio São Francisco e de seus principais afluentes.