

# PROVA DE GEOGRAFIA

## QUESTÃO 17

Leia este trecho:

O debate sobre o aumento das taxas de desmatamento na Amazônia, no final de 2007, foi ocasião propícia para um ataque inédito de alguns interesses do setor agroindustrial atuando no Brasil central e na Amazônia ao Inpe, uma das instituições-chave do sistema brasileiro de ciência e tecnologia [...]

Não é inocente, nesse contexto, um doloso desconhecimento: ignorar que a ciência (aqui e em toda parte) avança por meio de acertos e erros. Pretender fazer de diferenças metodológicas sobre como detectar desmatamento e degradação a partir do espaço o argumento para deslegitimar nossa ciência pode ser um ato mais que destrutivo ao futuro do Brasil.

O nó da questão é o falso dilema entre conservação e desenvolvimento. Falso, porque trata a conservação como sinônimo de preservação intocável e identifica o desenvolvimento com produção destrutiva, respaldado num histórico de agropecuária causadora de gigantesco passivo ambiental na Amazônia. Falso, pois não admite a existência de diversos modos de modernidade e caminhos alternativos de desenvolvimento e pretende fazer da verdade complexa dessa questão pouco mais que uma caricatura simplista.

BECKER, Bertha; NOBRE, Carlos A.; BARTHOLO, Roberto. Uma via para a Amazônia. *Folha de S. Paulo*. 27 abr. 2008. p. A3. (Adaptado)

A partir da leitura e interpretação desse trecho, é **INCORRETO** afirmar que

- A) a “caricatura simplista” mencionada se refere à postura comum de reduzir-se o assunto Amazônia a uma só via, o conservadorismo ou o desenvolvimentismo.
- B) a notícia do aumento da taxa de desmatamento na Amazônia, que incomodou diferentes setores da sociedade, motivou várias críticas a um importante órgão de pesquisa brasileiro.
- C) os autores consideram inaceitável criticar-se a possibilidade de a ciência brasileira cometer erros relativos à detecção e ao monitoramento do desmatamento.
- D) uma postura radical do lado conservacionista e a tradição brasileira de uso irracional dos recursos ambientais dificultam o debate sobre a Amazônia.

## QUESTÃO 18

Um projeto, já aprovado pelo Senado, reduz o número de fusos horários, adotados no Brasil, de quatro para três. Cogitou-se, inclusive, a adoção de um fuso único.

Considerando-se as razões que justificam a existência desses fusos, bem como as implicações de possíveis modificações a serem feitas neles, é **INCORRETO** afirmar que

- A) a adoção de fusos horários foi decidida por convenção internacional, com o objetivo de disciplinar o cumprimento de contratos financeiros e de trocas na economia-mundo.
- B) a extensão do território brasileiro, no sentido latitudinal, e as fortes variações sazonais da radiação solar forçam a adoção de fusos horários diferentes no País.
- C) a proposta de adoção de um fuso único esbarra em questões ligadas à prática de atividades econômicas, ao consumo de energia e ao relógio biológico de parte da população.
- D) o emprego de maior número de fusos, no mesmo território nacional, implica inconvenientes ao funcionamento dos sistemas financeiro, administrativo e de comunicações do País.

## QUESTÃO 19

Leia estes trechos:

O interior do Ceará voltou a ser atingido por tremores de terra na madrugada de ontem, com abalos sísmicos que alcançaram até 3,9 graus na escala Richter.

*Folha de S. Paulo*, 1<sup>o</sup> mar. 2008. p. C1. (Adaptado)

A terra voltou a tremer na região de Caraíbas, no Norte de Minas Gerais. O abalo sísmico de 4,0 graus na escala Richter ocorreu anteontem à noite, onde, em dezembro de 2007, terremoto causou a morte da primeira vítima de um tremor de terra no País.

*Estado de Minas*, 21 de mar. 2008. p. 22. (Adaptado)

Por volta das 21h de anteontem, um tremor de terra de 5,2 graus na escala Richter assustou moradores de São Paulo, Rio, Paraná e Santa Catarina. Com epicentro na costa brasileira, a cerca de 270 km da capital paulista, o terremoto foi considerado moderado por cientistas e geólogos do País.

*Folha de S. Paulo*, 24 abr. 2008. p. C4. (Adaptado)

Considerando-se essas informações e outros conhecimentos sobre o assunto, é **INCORRETO** afirmar que

- A) a ausência de vítimas no terremoto que afetou parte de São Paulo, Rio de Janeiro, Paraná e Santa Catarina é explicada pelo fato de, no Centro-Sul do País, a construção civil empregar técnicas antiterremotos eficazes em países como o Japão.
- B) a escala Richter é utilizada para quantificar a magnitude sísmica de um terremoto ocorrido em continente ou em oceano, desde aqueles registrados somente pelos sismógrafos, até aqueles outros sentidos pelo homem e causadores de grande destruição.
- C) a mídia, ao fazer uso das expressões “tremor de terra”, “abalo sísmico” e “terremoto”, está-se referindo a um fenômeno geológico, que tem sua origem associada à mobilidade e ao deslocamento das placas litosféricas.
- D) as áreas continentais distantes das bordas de placas tectônicas – como é o caso de grande parte do território brasileiro –, se revelam, também, sísmicamente instáveis, embora, nelas, os terremotos apresentem magnitude e frequência reduzidas.

## QUESTÃO 20

Segundo especialistas, a atual política internacional voltada à expansão do mercado de biocombustíveis pode implicar repercussões desfavoráveis ao homem e ao meio ambiente.

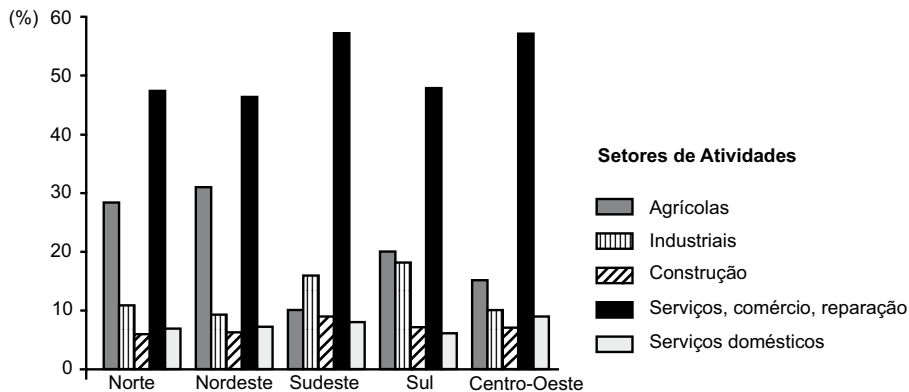
Considerando-se essa possibilidade, é **INCORRETO** afirmar que a expansão do mercado de biocombustíveis poderá

- A) colocar em risco os avanços sociais esperados da aprovação da lei, em tramitação no Legislativo Federal, que proíbe o trabalho escravo no País, haja vista interesses manifestos em ampliar essa relação de trabalho.
- B) incentivar o conflito de natureza socioambiental caracterizado pela presença, de um lado, de lavouras energéticas e, de outro, daquelas destinadas à produção de alimentos.
- C) intensificar o processo, já em curso, de avanço da fronteira agrícola sobre a Floresta Amazônica, caso o plantio de cana-de-açúcar continue a se expandir pelo Centro-Oeste do País.
- D) reduzir ainda mais, no Brasil, a disponibilidade e o volume de recursos hídricos essenciais à manutenção de algumas atividades humanas, se a extensão dos canais alcançar a proporção prevista por especialistas.

## QUESTÃO 21

Analise este gráfico:

**Brasil: Distribuição percentual da população ativa, segundo segmentos de atividades econômicas - 2000**



Fonte: IBGE. *Atlas do Censo Demográfico – 2000*. Rio de Janeiro: IBGE, 2003. p. 108. (Adaptado)

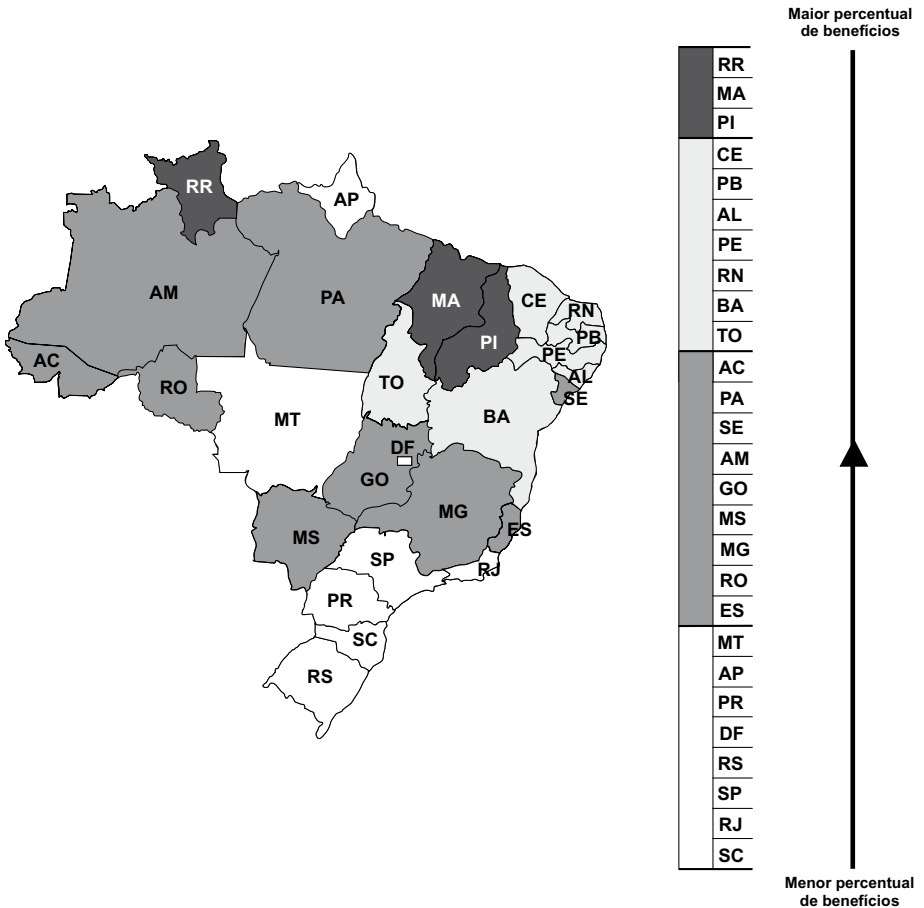
A partir da análise desse gráfico e considerando-se outros conhecimentos sobre o assunto, é **INCORRETO** afirmar que,

- A) em todas as regiões brasileiras, a predominância do setor de serviços e comércio independe do grau de desenvolvimento econômico alcançado, isoladamente, por elas.
- B) no Brasil, as maiores variações inter-regionais do percentual de população ocupada estão relacionadas às atividades agrícolas e industriais.
- C) no Centro-Oeste, a expressiva participação da população no setor de serviços e comércio está ligada, entre outros fatores, à presença de Brasília e da metrópole goiana.
- D) no Sudeste, a reduzida parcela da população ocupada na atividade agrícola torna esse setor pouco atrativo aos investimentos de capital.

## QUESTÃO 22

Analise este mapa:

### Brasil: Percentual de domicílios beneficiados pelos programas sociais do Governo Federal - 2006



Fonte: *Folha de S. Paulo*, 29 mar. 2008. p. A1. (Adaptado)

A partir da análise desse mapa e considerando-se outros conhecimentos sobre o assunto, é **INCORRETO** afirmar que

- A) a região brasileira de maior homogeneidade socioeconômica é a que apresenta os menores percentuais de benefícios concedidos pelo Governo Federal.
- B) o percentual mais elevado de domicílios beneficiados ocorre em Estados com maior expansão da renda do agronegócio.
- C) o mapa evidencia desigualdades que se manifestam entre as regiões geoeconômicas e no interior de cada uma delas.
- D) o percentual de domicílios beneficiados é mais alto nas Unidades da Federação que apresentam densidade demográfica mais baixa.


### QUESTÃO 23

Considerando-se a produção, o comércio e o consumo mundiais na atualidade, é **INCORRETO** afirmar que

- A) a especialização da produção, no período pós-Guerra Fria, promoveu a intensificação do comércio internacional e aumentou a dependência de um grande número de países em relação a essa atividade.
- B) a retomada de índices mais elevados de crescimento da população mundial, no último quarto do século XX, interrompeu a queda continuada do número de famintos e comprometeu a relação entre demanda e oferta de alimentos.
- C) as preocupações com a preservação ambiental têm sido usadas, por países desenvolvidos, para exercer vigilância sobre processos produtivos fora de suas fronteiras e impor barreiras a importações de origens diversas.
- D) os países emergentes vêm opondo resistência à manutenção, no comércio internacional, dos privilégios dos países desenvolvidos, o que pode contribuir para o estabelecimento de uma relação de troca mais equilibrada.

## QUESTÃO 24

Analise esta charge:



Folha de S. Paulo, 9 abr. 2008. p. A2. (Adaptado)

A partir dessa análise e considerando-se outros conhecimentos sobre o assunto, é **CORRETO** afirmar que essa charge está relacionada

- A) a conflitos de natureza religiosa ocorridos na China – no caso, os que envolvem budistas chineses insuflados por monges tibetanos, liderados pelo Dalai Lama.
- B) à garantia da liberdade de expressão da mídia na transmissão das competições dos Jogos Olímpicos, ameaçada por movimentos dissidentes internos à China.
- C) à postura intransigente da China diante das pressões externas por maior liberdade do povo tibetano e do temor ao uso das Olimpíadas para manifestações de protesto.
- D) ao fechamento ou às restrições do regime político chinês às competições esportivas internacionais, supostamente representativas da cultura capitalista ocidental.