

## 2ª FASE

# EXAME DISCURSIVO

01/12/2013

## Geografia

### Caderno de prova

Este caderno, com dezesseis páginas numeradas sequencialmente, contém dez questões de Geografia. Não abra o caderno antes de receber autorização.

### Instruções

1. Verifique se você recebeu mais dois cadernos de prova.
2. Verifique se seu nome, seu número de inscrição e seu número do documento de identidade estão corretos nas sobrecapas dos três cadernos.  
Se houver algum erro, notifique o fiscal.
3. Destaque, das sobrecapas, os comprovantes que têm seu nome e leve-os com você.
4. Ao receber autorização para abrir os cadernos, verifique se a impressão, a paginação e a numeração das questões estão corretas.  
Se houver algum erro, notifique o fiscal.
5. Todas as respostas e o desenvolvimento das soluções, quando necessário, deverão ser apresentados nos espaços apropriados, com caneta azul ou preta de corpo transparente.  
Não serão consideradas as questões respondidas fora desses espaços.

### Informações gerais

O tempo disponível para fazer as provas é de cinco horas. Nada mais poderá ser registrado após o término desse prazo.

Ao terminar, entregue os três cadernos ao fiscal.

Nas salas de prova, não será permitido aos candidatos portar arma de fogo, fumar, usar relógio digital ou boné de qualquer tipo, bem como utilizar corretores ortográficos líquidos ou similares.

Será eliminado do Vestibular Estadual 2014 o candidato que, durante a prova, utilizar qualquer instrumento de cálculo e/ou qualquer meio de obtenção de informações, eletrônicos ou não, tais como calculadoras, agendas, computadores, rádios, telefones, receptores, livros e anotações.

Será também eliminado o candidato que se ausentar da sala levando consigo qualquer material de prova.

**Boa prova!**



## QUESTÃO

## 01



Índios Awá



Impacto ambiental na Amazônia

SEBASTIÃO SALGADO  
*O Globo*, 04/08/2013.

No pouco que resta de Floresta Amazônica no Maranhão, vive o povo Awá, conhecido como "o mais ameaçado do planeta". São pouco mais de 400 pessoas, cercadas de municípios que dependem da extração da madeira. Os Awá falam guajá, do tronco Tupi. Só alguns sabem um pouco de português. Eles são um dos últimos povos apenas caçadores e coletores. Vivem da floresta e pela floresta.

A terra dos Awá-Guajá já foi demarcada, homologada e registrada com 116.582 hectares. Ela está dentro da Reserva Biológica do Gurupi, que foi criada pelo presidente Jânio Quadros em 1961 e tem o mais alto nível de proteção ambiental. Mesmo assim, sofre a ação de grileiros e madeireiros derrubando a floresta e encurralando os índios.

MIRIAM LEITÃO  
 Adaptado de *O Globo*, 04/08/2013.

Com base no conjunto das informações, apresente duas justificativas para a criação de unidades de conservação ambiental e duas justificativas para a demarcação de reservas indígenas.

---



---



---



---



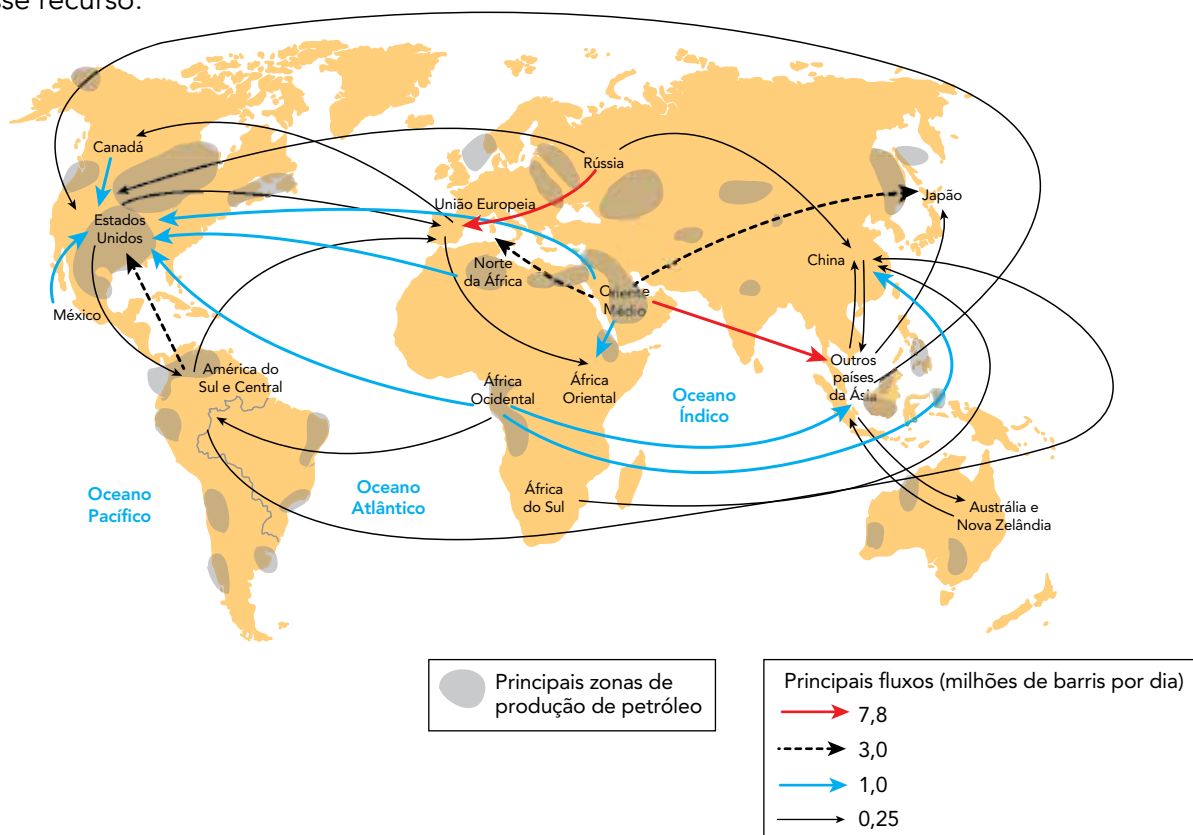
---



---

QUESTÃO  
02

Na atualidade, o petróleo é um recurso natural de grande importância para o crescimento econômico, representando uma das principais fontes de riqueza e investimento para os países do mundo. No mapa abaixo, registram-se os desiguais fluxos comerciais de produção e consumo desse recurso.



Adaptado de DURAND, Marie-Françoise e outros. *Atlas da mundialização: compreender o espaço mundial contemporâneo*. São Paulo: Saraiva, 2009.

Explicita a situação atual do Brasil como produtor e sua participação no comércio mundial de petróleo. Em seguida, identifique dois espaços econômicos desenvolvidos que importam mais de três milhões de barris de petróleo por dia.

---



---



---



---



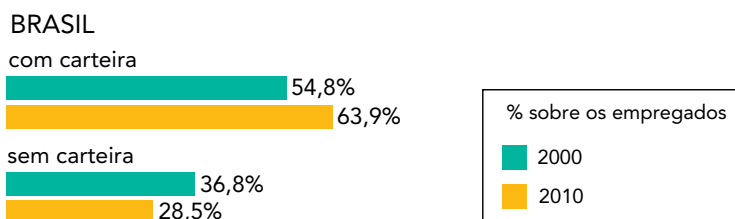
---



---

QUESTÃO  
03

## A década do emprego formal



Adaptado de O Globo, 28/04/2012.

De acordo com o gráfico, o mercado de trabalho formal no Brasil se ampliou na última década. Cite duas vantagens para os trabalhadores nacionais propiciadas pela carteira assinada e duas vantagens para o governo brasileiro decorrentes da ampliação desse benefício.

---

---

---

---

---

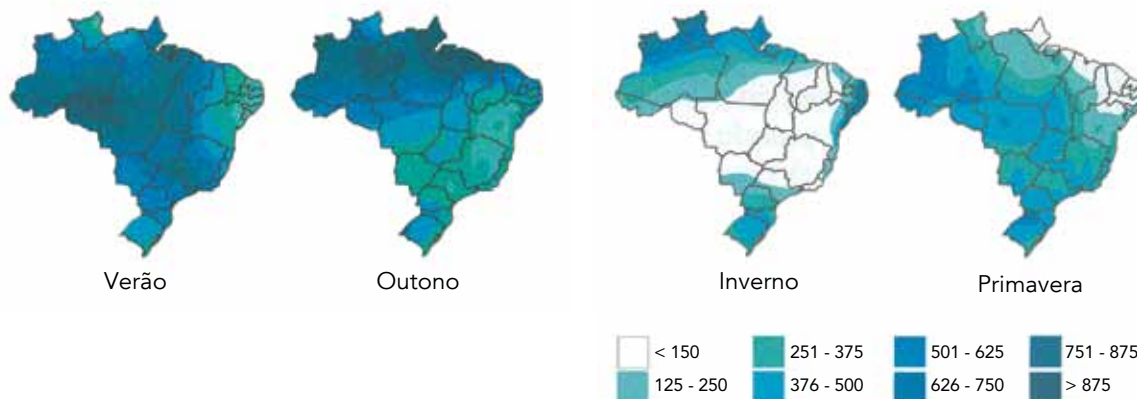
---

---

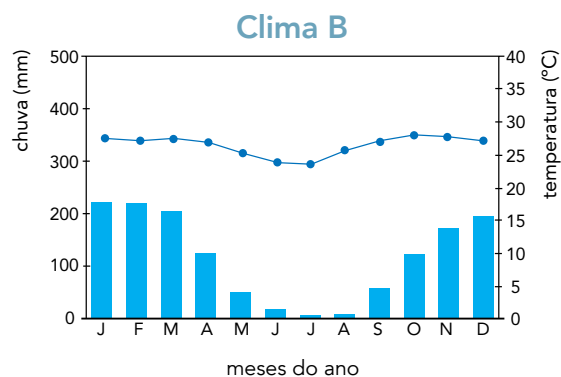
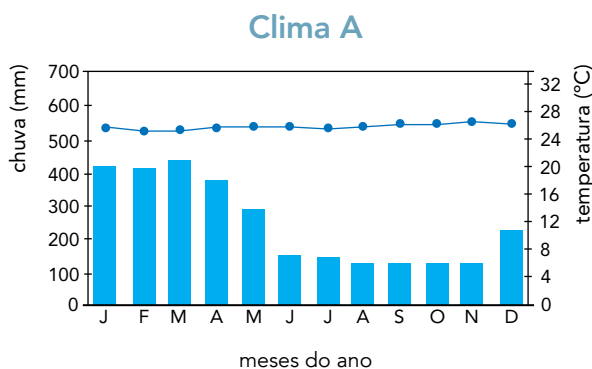
---

**QUESTÃO**  
**04**

Nos mapas abaixo, são representadas as médias históricas de variação da chuva no território brasileiro, em milímetros, por estação do ano.



Considere os seguintes climogramas:



MENDONÇA, Francisco; DANNI-OLIVEIRA, Inês. *Climatologia: noções básicas e climas do Brasil*. São Paulo: Oficina de Textos, 2007.

Comparando os mapas com os gráficos, identifique as macrorregiões brasileiras nas quais predominam os climas A e B, respectivamente. Em seguida, explique a pequena variação anual da temperatura em ambos os climas.

---

---

---

---

---

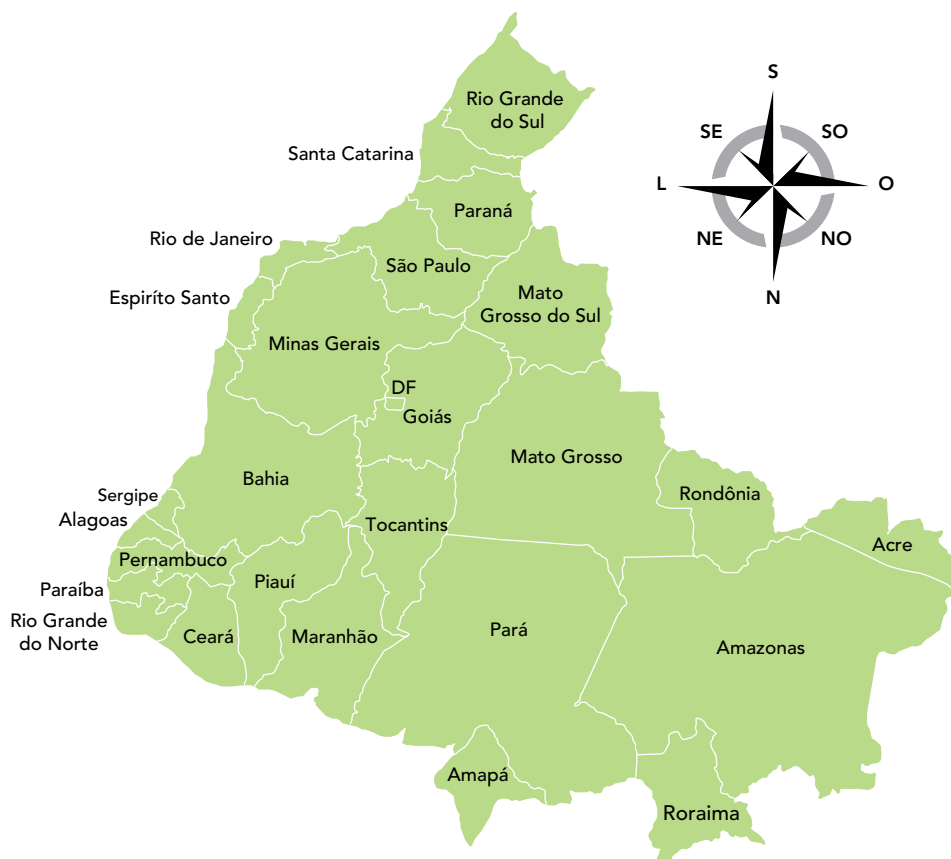
---

---

---

QUESTÃO  
05

Os mapas são representações da superfície terrestre elaborados com base em critérios previamente convencionados. Observe o mapa a seguir, que difere da representação usual do Brasil.



Adaptado de [aprendendofisica.pro.br](http://aprendendofisica.pro.br).

Considerando as normas da cartografia, indique se o mapa está corretamente elaborado e apresente uma justificativa para essa resposta.

---



---



---



---

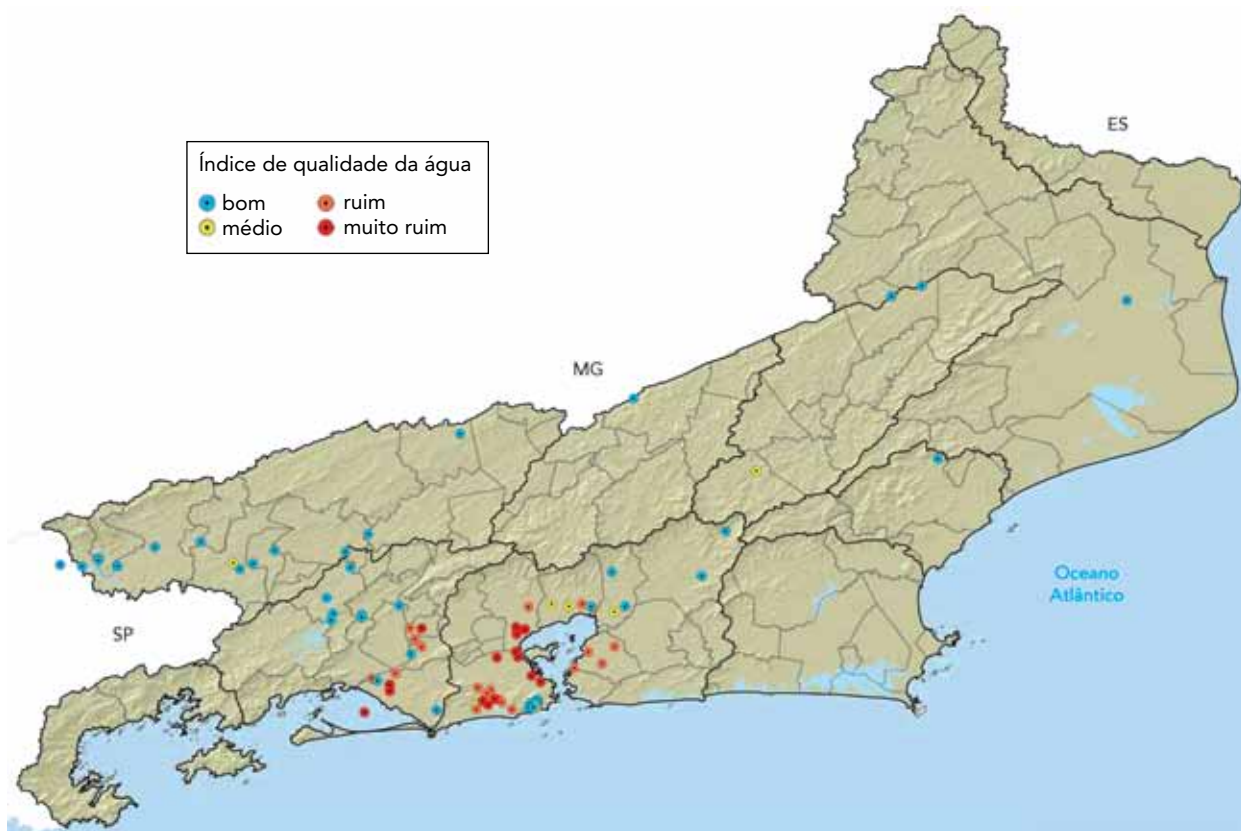


---



---

QUESTÃO  
06



Adaptado de INEA, 2011.

Um corpo de água ou corpo hídrico é a denominação genérica dada aos rios, lagos, lagoas e baías. Um problema que atinge inúmeros corpos hídricos no estado do Rio de Janeiro é a má qualidade de suas águas.

Com base na análise do mapa, identifique o corpo hídrico fluminense com o pior índice de qualidade da água e indique uma fonte poluidora que contribui de forma significativa para sua degradação.

Aponte, ainda, dois usos da água que sofrem impactos negativos em função da degradação na qualidade da água.

---



---



---



---



---



---

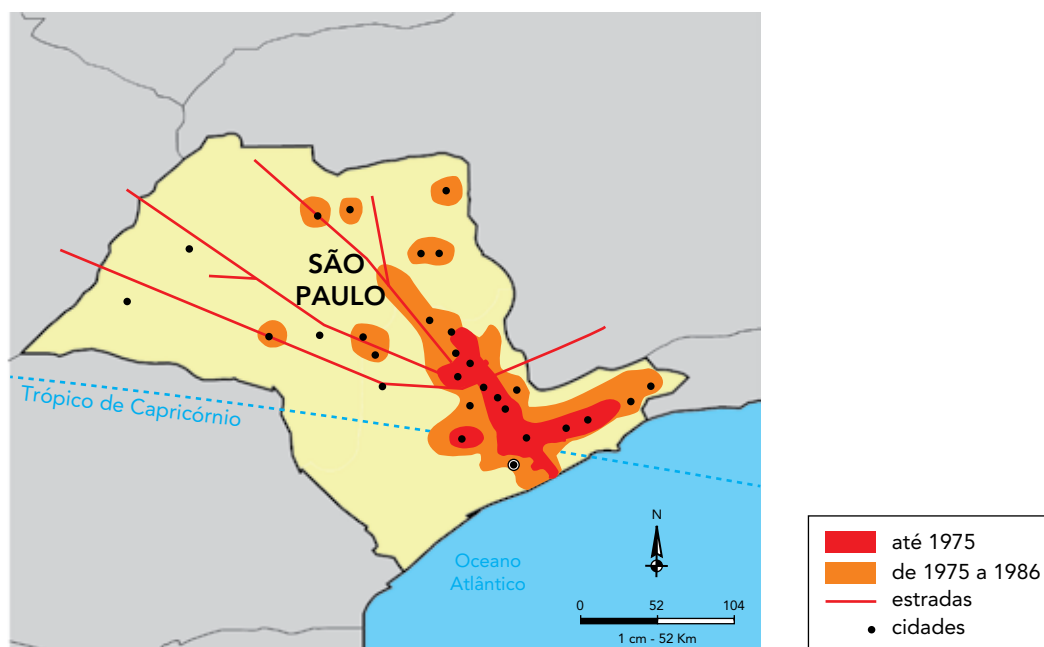


---



QUESTÃO  
07

Acompanhando uma tendência mundial, a partir dos anos 1970, houve uma série de mudanças na localização das atividades industriais brasileiras, como representado, por exemplo, no mapa do estado de São Paulo.



Adaptado de SANTOS, Douglas. *Geografia das redes: o mundo e seus lugares*. São Paulo: Editora do Brasil, 2010.

Indique duas causas para a desconcentração industrial nesse estado e duas consequências desse processo para a região metropolitana paulista.

---



---



---



---



---



---

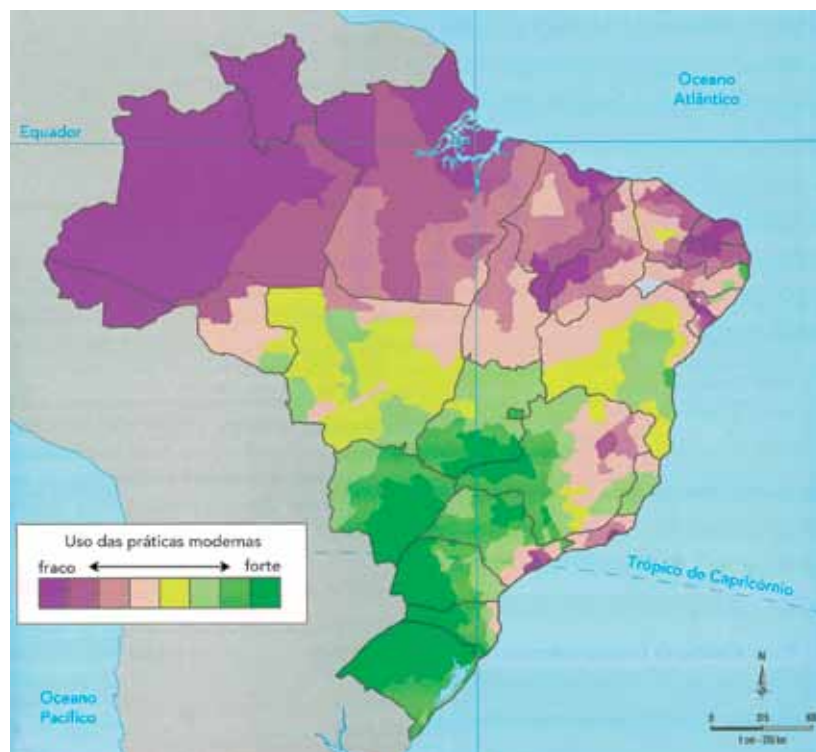


---

## QUESTÃO

## 08

## Modernização na agropecuária brasileira



Adaptado de THÉRY, Hervé; MELLO, Neli. *Atlas do Brasil: disparidades e dinâmicas do território*. São Paulo: Edusp/Imprensa Oficial, 2008.

No Brasil, o setor agropecuário se caracteriza tanto por áreas que ainda adotam práticas tradicionais como por aquelas em que há forte presença de modernização, como se observa no mapa.

Aponte o complexo regional que concentra o uso mais intenso de práticas agropecuárias modernas e a que concentra o uso menos intenso. Em seguida, cite duas características presentes no processo de modernização agropecuária do país.

---



---



---



---



---



---



---

QUESTÃO  
09

– Pense no seguinte: a população da Terra levou milhares de anos, desde a aurora da humanidade até o início do século XIX, para atingir um bilhão de pessoas. Então, de forma estarrecedora, precisou apenas de uns cem anos para duplicar e chegar a dois bilhões, na década de 1920. Depois disso, em menos de cinquenta anos, a população tornou a duplicar para quatro bilhões, na década de 1970. Como a senhora pode imaginar, muito em breve chegaremos aos oito bilhões. Pense nas implicações. (...) Espécies animais estão entrando em extinção num ritmo aceleradíssimo. A demanda por recursos naturais cada vez mais escassos é astronômica. É cada vez mais difícil encontrar água potável.

BROWN, Dan. *Inferno*. São Paulo: Arqueiro, 2013.

A fala do personagem no trecho citado ilustra o ponto de vista defendido por uma teoria demográfica.

Nomeie essa teoria e explicita o ponto de vista que ela defende. Nomeie, também, a teoria demográfica que defende o ponto de vista contrário.

---

---

---

---

---

---

---

---

**QUESTÃO**  
**10**

Na tabela, estão apresentados os percentuais da população brasileira ocupada por atividade econômica em 2009.

Atividade econômica	Norte	Nordeste	Sudeste	Sul	Centro-Oeste	Brasil
Agricultura	20,2	29,6	8,8	17,5	15,1	17,0
Indústria	11,5	9,3	17,5	18,6	11,8	14,7
Construção	8,1	6,9	7,8	6,8	8,2	7,4
Comércio	19,1	17,0	17,9	17,9	18,4	17,8
Serviços e outros	41,1	37,2	48,0	39,2	46,5	43,1

Fonte: IBGE

De acordo com os dados, 60,9% da população brasileira encontram-se no setor terciário, percentual semelhante ao dos países desenvolvidos. Estabeleça a diferença qualitativa existente, neste caso, entre o contexto brasileiro e o dos países desenvolvidos.

Identifique, também, a região brasileira com maior percentual de população ocupada no setor primário e justifique essa situação.

---



---



---



---



---



---



---







