

PROVA DE GEOGRAFIA

QUESTÃO 09

Parcela considerável do desemprego que se verifica, atualmente, no mundo, está associada a mudanças estruturais na economia – é o denominado desemprego estrutural.

É **CORRETO** afirmar que essa modalidade de desemprego é consequência

- A) da adoção de novas tecnologias de produção e gerenciamento industrial.
- B) da crescente importância do setor primário na economia global.
- C) do crescimento da economia informal nos países periféricos.
- D) do desaquecimento e da crise progressivos da economia mundial.

QUESTÃO 10

A inserção da economia brasileira no movimento de globalização teve início na década de 1990.

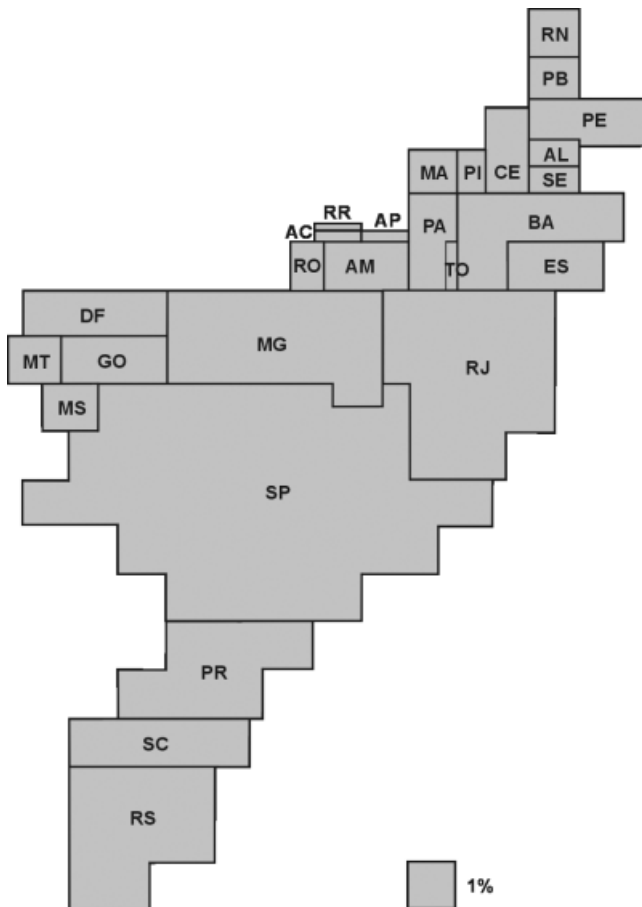
É **INCORRETO** afirmar que essa inserção foi acompanhada pela

- A) adoção de processo industrial voltado para a substituição de importações, que reduziu a dependência do mercado interno por produtos manufaturados.
- B) consolidação de um modelo econômico estruturado na liberalização comercial e na atração de investimentos estrangeiros diretos.
- C) criação de agências de fiscalização das empresas privadas que se tornaram concessionárias de serviços públicos.
- D) implantação de um programa de privatização das estruturas produtivas estatais – indústrias siderúrgicas e empresas de telecomunicação, entre outras.

QUESTÃO 11

Analise esta anamorfose:

Brasil: participação das Unidades da Federação no PIB nacional - 2001



FONTE: IBGE. *Contas Regionais do Brasil 1998-2001*. Disponível em www.ibge.gov.br (Adaptado)

A partir dessa análise e considerando-se outros conhecimentos sobre o assunto, é **INCORRETO** afirmar que essa anamorfose possibilita comprovar-se que

- A) a concentração geográfica da riqueza no espaço nacional se expressa muito claramente.
- B) a parcela mais considerável das estruturas produtivas do País está concentrada no Sudeste.
- C) o PIB é diretamente proporcional à dimensão territorial ocupada pelas Unidades da Federação.
- D) o PIB paulista é maior que o conjunto do PIB da região a que o Estado do Tocantins se integra.

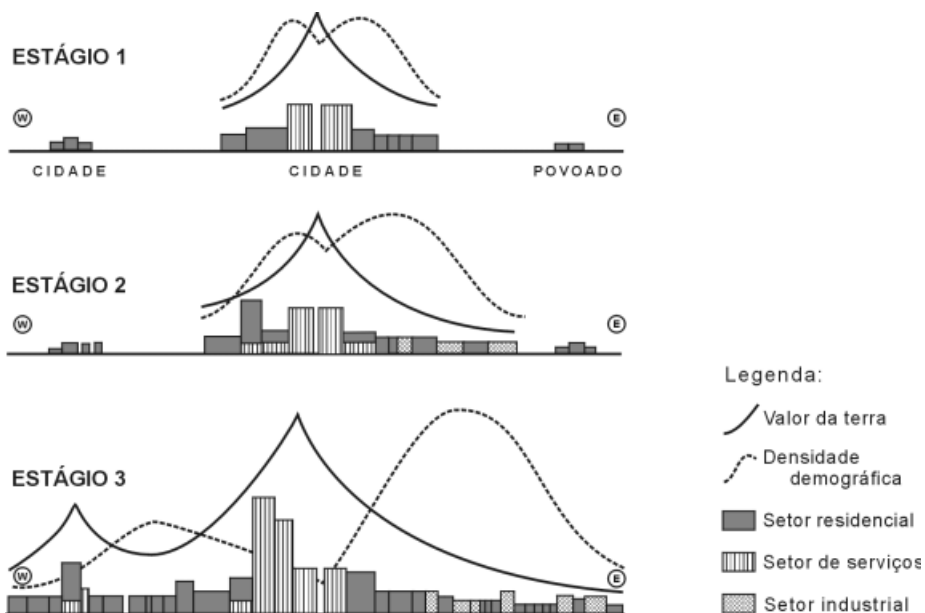
QUESTÃO 12

É **INCORRETO** afirmar que, no Brasil, o processo de urbanização

- A) está presente em todas as suas regiões, apesar de se manifestar em ritmo desigual entre elas.
- B) foi impulsionado, na região Centro-Oeste, pela transferência da Capital Federal para Brasília.
- C) guarda profunda relação com o êxodo rural, ou seja, com a transferência de populações do campo para as cidades.
- D) revela, hoje, níveis mais elevados nos estados nordestinos e nos que constituem a Região Amazônica.

QUESTÃO 13

Analise estas figuras, em que estão representados três estágios do processo de evolução de um espaço urbano:

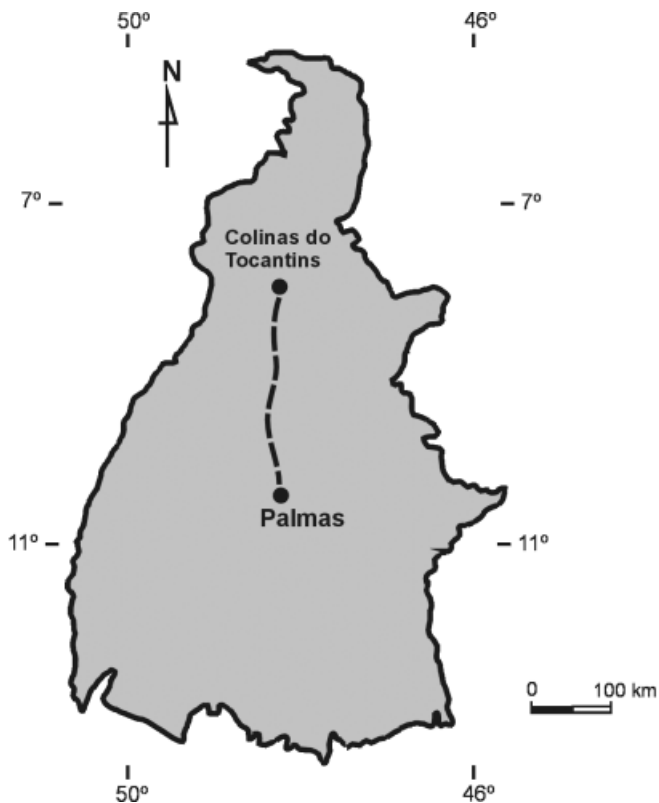


Com base nas informações dessas figuras e em outros conhecimentos sobre o assunto, é **INCORRETO** afirmar que

- A) a densidade demográfica é mais elevada na área urbana ocupada, predominantemente, pelo setor de serviços que na periferia.
- B) a evolução temporal e espacial do espaço urbano representado resultou na formação de uma região metropolitana.
- C) o setor de atividade predominante no espaço urbano – residencial, de serviços ou industrial – guarda estreita correlação com o valor da terra.
- D) o valor da terra na porção oriental do espaço urbano, no Estágio 3, é inferior ao da porção ocidental.

QUESTÃO 14

Analise este mapa, em que está indicada a localização das cidades de Palmas e de Colinas do Tocantins:



Suponha a realização de uma viagem de automóvel de Palmas a Colinas do Tocantins, cuja duração aproximada é de quatro horas, com partida marcada para as 13 horas de um dia ensolarado, na véspera do Natal.

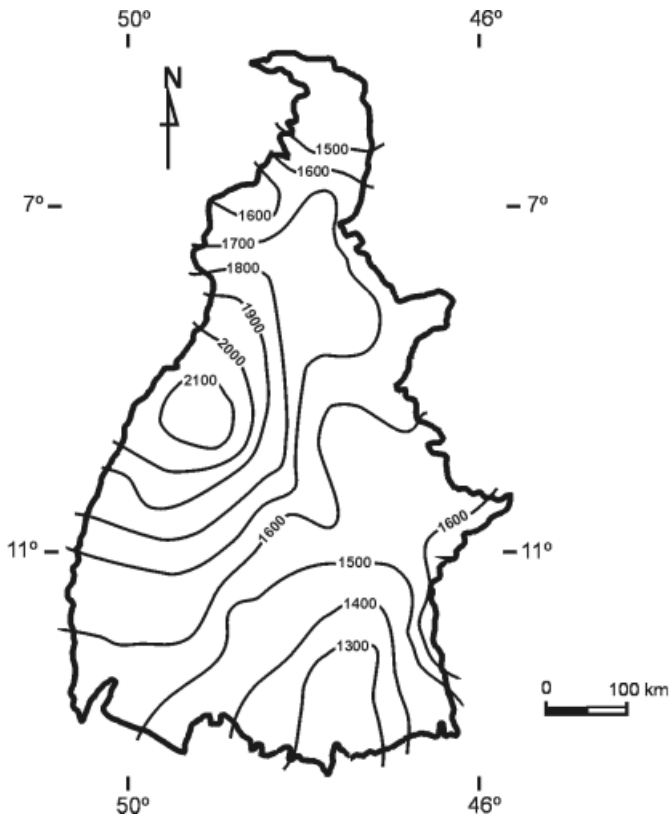
É **CORRETO** afirmar que, durante essa viagem, o motorista vai receber os raios solares **mais** intensamente

- A) de frente e pela direita.
- B) de frente e pela esquerda.
- C) pelas costas e pela direita.
- D) pelas costas e pela esquerda.

QUESTÃO 15

Analise este mapa:

Distribuição da precipitação média anual, em milímetros, no Estado do Tocantins



FONTE: Precipitação Média Anual. Disponível em www.zeeppa.cnpm.embrapa.br/ppa/toca/prec.html (Adaptado)

Com base nas informações desse mapa, é **INCORRETO** afirmar que, no Estado do Tocantins,

- A) a precipitação média anual é mais elevada na porção ocidental, mais precisamente onde as isolinhas apresentam padrão concêntrico.
- B) as áreas menos chuvosas são as extremidades setentrional e meridional do território, com destaque para esta última.
- C) o padrão de distribuição espacial das precipitações é explicado pelos fatores latitude e continentalidade.
- D) o volume de chuvas apresenta, *grasso modo*, tendência de aumento gradual de leste para oeste.

QUESTÃO 16

É **INCORRETO** afirmar que, nas últimas décadas, a população brasileira

- A) acusou aumento da idade mediana, o que, na prática, se traduz no envelhecimento da população.
- B) cresceu em número absoluto, fazendo com que o País seja, atualmente, um dos mais populosos do Planeta.
- C) passou a contar com um número cada vez menor de mulheres, cuja participação no mercado de trabalho se vem, também, reduzindo.
- D) sofreu redução em seu ritmo de crescimento anual devido à queda da taxa de natalidade.