


000/000
000/000
CAIXA
000
000/000

FUVEST 2015
2ª Fase – Terceiro Dia (06/01/2015)



Nome

Identidade

Conteúdo da Prova



Este caderno contém todas as 36 questões do 3º dia de prova, ou seja, 06 questões de cada uma das seguintes disciplinas: Matemática (M), Física (F), Química (Q), Biologia (B), História (H) e Geografia (G).

De acordo com a Carreira escolhida (p. 05 a 30 do Manual do Candidato), no 3º dia de prova, o candidato recebeu um caderno contendo somente 12 questões: 06 questões de duas disciplinas ou 04 questões de três disciplinas (neste caso, sempre as quatro primeiras de cada disciplina).



PROVA DE SEGUNDA FASE – 3º DIA

06/01/2015 (TERÇA-FEIRA)

Instruções

- Só abra este caderno quando o fiscal autorizar.
- Verifique, na capa deste caderno, se seu nome está correto.
- Este caderno compõe-se de **12** questões: [a composição deste caderno depende da Carreira escolhida pelo candidato].
- Antes de iniciar a prova, verifique se o caderno contém as **12** questões e se a impressão está legível.
- A prova deverá ser feita com caneta esferográfica de tinta azul ou preta. Não utilize caneta marca-texto.
- Escreva, com **letra legível**, as respostas das questões.
- Se errar, risque a palavra e a escreva novamente. Exemplo: *casa casa*
O uso de corretivo não será permitido.
- A resposta de cada questão deverá ser escrita exclusivamente no quadro a ela destinado. O que estiver fora desse quadro **NÃO** será considerado na correção.
- Nas questões que exigem cálculo, é indispensável indicar a resolução na página de respostas. A banca de correção não aceitará uma simples resposta.
- Este caderno contém páginas destinadas a rascunho. O que estiver escrito nessas páginas **NÃO** será considerado na correção.
- Duração da prova: **4h**. O candidato deve controlar o tempo disponível.
- O candidato poderá retirar-se do local de prova a partir das 15h.
- Durante a prova, são vedadas a comunicação entre candidatos e a utilização de qualquer material de consulta, eletrônico ou impresso, e de aparelhos de telecomunicação.
- No final da prova, é obrigatória a devolução deste caderno de questões.

Observação

A divulgação da lista da primeira chamada para matrícula será feita no dia **31/01/2015**.

ASSINATURA DO CANDIDATO: _____



M01

Na figura, na página de respostas, a circunferência de centro em O e raio r tangencia o lado \overline{BC} do triângulo ABC no ponto D e tangencia a reta \overleftrightarrow{AB} no ponto E . Os pontos A , D e O são colineares, $AD = 2r$ e o ângulo \widehat{ACO} é reto. Determine, em função de r ,

- a medida do lado \overline{AB} do triângulo ABC ;
- a medida do segmento \overline{CO} .

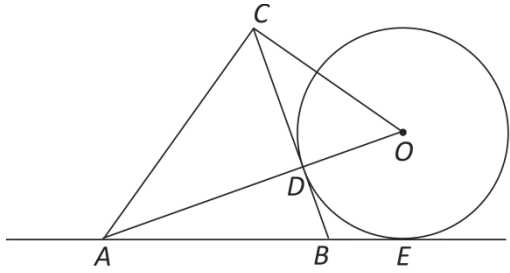
M02

Resolva as inequações:

- $x^3 - x^2 - 6x > 0$;
- $\log_2(x^3 - x^2 - 6x) \leq 2$.

QUADRO DESTINADO À RESPOSTA DA QUESTÃO
 TEXTOS ESCRITOS FORA DESTE QUADRO (OU A LÁPIS) NÃO SERÃO CONSIDERADOS PELO CORRETOR

PROVA 3



FUVEST 2015

<input type="checkbox"/>	<input type="checkbox"/>
<input type="checkbox"/>	<input type="checkbox"/>
<input type="checkbox"/>	<input type="checkbox"/>
<input type="checkbox"/>	<input type="checkbox"/>
<input type="checkbox"/>	<input type="checkbox"/>
<input type="checkbox"/>	<input type="checkbox"/>
<input type="checkbox"/>	<input type="checkbox"/>
<input type="checkbox"/>	<input type="checkbox"/>
<input type="checkbox"/>	<input type="checkbox"/>
<input type="checkbox"/>	<input type="checkbox"/>
<input type="checkbox"/>	<input type="checkbox"/>
<input type="checkbox"/>	<input type="checkbox"/>
<input type="checkbox"/>	<input type="checkbox"/>
<input type="checkbox"/>	<input type="checkbox"/>
<input type="checkbox"/>	<input type="checkbox"/>
<input type="checkbox"/>	<input type="checkbox"/>
<input type="checkbox"/>	<input type="checkbox"/>
<input type="checkbox"/>	<input type="checkbox"/>
<input type="checkbox"/>	<input type="checkbox"/>
<input type="checkbox"/>	<input type="checkbox"/>
<input type="checkbox"/>	<input type="checkbox"/>
<input type="checkbox"/>	<input type="checkbox"/>

<input type="checkbox"/> 0
<input type="checkbox"/> 1
<input type="checkbox"/> 2
<input type="checkbox"/> 3
<input type="checkbox"/> 4

<input type="checkbox"/> 0	OK
<input type="checkbox"/> 1	
<input type="checkbox"/> 2	
<input type="checkbox"/> 3	
<input type="checkbox"/> 4	

<input type="checkbox"/>	<input type="checkbox"/>
<input type="checkbox"/>	<input type="checkbox"/>
<input type="checkbox"/>	<input type="checkbox"/>
<input type="checkbox"/>	<input type="checkbox"/>
<input type="checkbox"/>	<input type="checkbox"/>
<input type="checkbox"/>	<input type="checkbox"/>
<input type="checkbox"/>	<input type="checkbox"/>
<input type="checkbox"/>	<input type="checkbox"/>
<input type="checkbox"/>	<input type="checkbox"/>
<input type="checkbox"/>	<input type="checkbox"/>
<input type="checkbox"/>	<input type="checkbox"/>
<input type="checkbox"/>	<input type="checkbox"/>
<input type="checkbox"/>	<input type="checkbox"/>
<input type="checkbox"/>	<input type="checkbox"/>
<input type="checkbox"/>	<input type="checkbox"/>
<input type="checkbox"/>	<input type="checkbox"/>
<input type="checkbox"/>	<input type="checkbox"/>
<input type="checkbox"/>	<input type="checkbox"/>
<input type="checkbox"/>	<input type="checkbox"/>
<input type="checkbox"/>	<input type="checkbox"/>
<input type="checkbox"/>	<input type="checkbox"/>

QUADRO DESTINADO À RESPOSTA DA QUESTÃO
 TEXTOS ESCRITOS FORA DESTE QUADRO (OU A LÁPIS) NÃO SERÃO CONSIDERADOS PELO CORRETOR

PROVA 3

<input type="checkbox"/> 0
<input type="checkbox"/> 1
<input type="checkbox"/> 2
<input type="checkbox"/> 3
<input type="checkbox"/> 4

<input type="checkbox"/> 0	OK
<input type="checkbox"/> 1	
<input type="checkbox"/> 2	
<input type="checkbox"/> 3	
<input type="checkbox"/> 4	

<input type="checkbox"/>	<input type="checkbox"/>
<input type="checkbox"/>	<input type="checkbox"/>
<input type="checkbox"/>	<input type="checkbox"/>
<input type="checkbox"/>	<input type="checkbox"/>

FUVEST 2015



M03

No cubo $ABCDEFGH$, representado na figura, na página de respostas, cada aresta tem medida 1. Seja M um ponto na semirreta de origem A que passa por E . Denote por θ o ângulo \widehat{BMH} e por x a medida do segmento \overline{AM} .

- Exprima $\cos \theta$ em função de x .
- Para que valores de x o ângulo θ é obtuso?
- Mostre que, se $x = 4$, então θ mede menos do que 45° .

M04

Resolva os três itens abaixo.

- Calcule $\cos(3\pi/8)$ e $\sin(3\pi/8)$.
- Dado o número complexo $z = \sqrt{2 - \sqrt{2}} + i\sqrt{2 + \sqrt{2}}$, encontre o menor inteiro $n > 0$ para o qual z^n seja real.
- Encontre um polinômio de coeficientes inteiros que possua z como raiz e que não possua raiz real.



M05

A função f está definida da seguinte maneira: para cada inteiro ímpar n ,

$$f(x) = \begin{cases} x - (n - 1), & \text{se } n - 1 \leq x \leq n \\ n + 1 - x, & \text{se } n \leq x \leq n + 1 \end{cases}$$

- a) Esboce o gráfico de f para $0 \leq x \leq 6$.
- b) Encontre os valores de x , $0 \leq x \leq 6$, tais que $f(x) = \frac{1}{5}$.

M06

Um “alfabeto minimalista” é constituído por apenas dois símbolos, representados por $*$ e $\#$. Uma palavra de comprimento n , $n \geq 1$, é formada por n escolhas sucessivas de um desses dois símbolos. Por exemplo, $\#$ é uma palavra de comprimento 1 e $\#**\#$ é uma palavra de comprimento 4.

Usando esse alfabeto minimalista,

- a) quantas palavras de comprimento menor do que 6 podem ser formadas?
- b) qual é o menor valor de N para o qual é possível formar 1.000.000 de palavras de tamanho menor ou igual a N ?



F01

Uma criança com uma bola nas mãos está sentada em um “gira-gira” que roda com velocidade angular constante e frequência $f = 0,25$ Hz.

- a) Considerando que a distância da bola ao centro do “gira-gira” é 2 m, determine os módulos da velocidade \vec{V}_T e da aceleração \vec{a} da bola, em relação ao chão.

Num certo instante, a criança arremessa a bola horizontalmente em direção ao centro do “gira-gira”, com velocidade \vec{V}_R de módulo 4 m/s, em relação a si.

Determine, para um instante imediatamente após o lançamento,

- b) o módulo da velocidade \vec{U} da bola em relação ao chão;
c) o ângulo θ entre as direções das velocidades \vec{U} e \vec{V}_R da bola.

Note e adote:

$$\pi = 3$$

F02

O aquecimento de um forno elétrico é baseado na conversão de energia elétrica em energia térmica em um resistor. A resistência R do resistor desse forno, submetido a uma diferença de potencial V constante, varia com a sua temperatura T . Na figura da página de respostas é mostrado o gráfico da função $R(T) = R_0 + \alpha(T - T_0)$, sendo R_0 o valor da resistência na temperatura T_0 e α uma constante.

Ao se ligar o forno, com o resistor a 20°C , a corrente é 10 A. Ao atingir a temperatura T_M , a corrente é 5 A. Determine a

- a) constante α ;
b) diferença de potencial V ;
c) temperatura T_M ;
d) potência P dissipada no resistor na temperatura T_M .



F03

Um recipiente hermeticamente fechado e termicamente isolado, com volume de 750 ℓ, contém ar inicialmente à pressão atmosférica de 1 atm e à temperatura de 27 °C. No interior do recipiente, foi colocada uma pequena vela acesa, de 2,5 g. Sabendo-se que a massa da vela é consumida a uma taxa de 0,1 g/min e que a queima da vela produz energia à razão de $3,6 \times 10^4$ J/g, determine

- a) a potência W da vela acesa;
- b) a quantidade de energia E produzida pela queima completa da vela;
- c) o aumento ΔT da temperatura do ar no interior do recipiente, durante a queima da vela;
- d) a pressão P do ar no interior do recipiente, logo após a queima da vela.

Note e adote:

O ar deve ser tratado como gás ideal.

O volume de 1 mol de gás ideal à pressão atmosférica de 1 atm e à temperatura de 27 °C é 25 ℓ.

Calor molar do ar a volume constante: $C_v = 30$ J/(mol K).

Constante universal dos gases: $R = 0,08$ atm ℓ/(mol K).

0 °C = 273 K.

Devem ser desconsideradas a capacidade térmica do recipiente e a variação da massa de gás no seu interior devido à queima da vela.

F04

O espelho principal de um dos maiores telescópios refletores do mundo, localizado nas Ilhas Canárias, tem 10 m de diâmetro e distância focal de 15 m. Supondo que, inadvertidamente, o espelho seja apontado diretamente para o Sol, determine

- a) o diâmetro D da imagem do Sol;
- b) a densidade S de potência no plano da imagem, em W/m^2 ;
- c) a variação ΔT da temperatura de um disco de alumínio de massa 0,6 kg colocado no plano da imagem, considerando que ele tenha absorvido toda a energia incidente durante 4 s.

Note e adote:

$\pi = 3$

O espelho deve ser considerado esférico.

Distância Terra-Sol = $1,5 \times 10^{11}$ m.

Diâmetro do Sol = $1,5 \times 10^9$ m.

Calor específico do Al = 1 J/(g K).

Densidade de potência solar incidindo sobre o espelho principal do telescópio = 1 kW/m².

O diâmetro do disco de alumínio é igual ao da imagem do Sol.

Desconsidere perdas de calor pelo disco de alumínio.



F05

Uma criança de 30 kg está em repouso no topo de um escorregador plano de 2,5 m de altura, inclinado 30° em relação ao chão horizontal. Num certo instante, ela começa a deslizar e percorre todo o escorregador. Determine

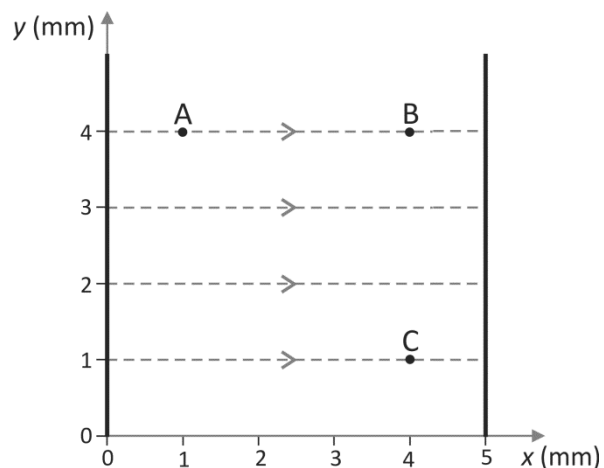
- a energia cinética E e o módulo Q da quantidade de movimento da criança, na metade do percurso;
- o módulo F da força de contato entre a criança e o escorregador;
- o módulo a da aceleração da criança.

Note e adote:
Forças dissipativas devem ser ignoradas.
A aceleração local da gravidade é 10 m/s^2 .
 $\text{sen } 30^\circ = \text{cos } 60^\circ = 0,5$
 $\text{sen } 60^\circ = \text{cos } 30^\circ = 0,9$

F06

A região entre duas placas metálicas, planas e paralelas está esquematizada na figura ao lado. As linhas tracejadas representam o campo elétrico uniforme existente entre as placas. A distância entre as placas é 5 mm e a diferença de potencial entre elas é 300 V. As coordenadas dos pontos A, B e C são mostradas na figura. Determine

- os módulos E_A , E_B e E_C do campo elétrico nos pontos A, B e C, respectivamente;
- as diferenças de potencial V_{AB} e V_{BC} entre os pontos A e B e entre os pontos B e C, respectivamente;



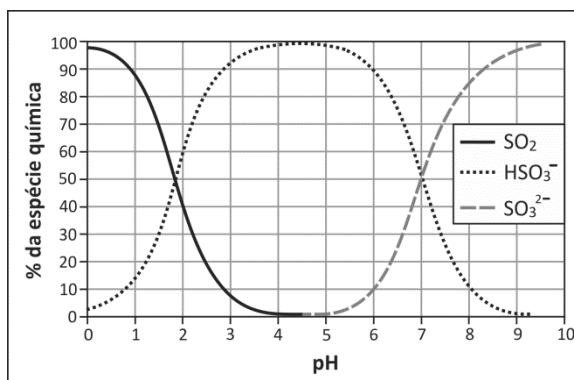
- o trabalho τ realizado pela força elétrica sobre um elétron que se desloca do ponto C ao ponto A.

Note e adote:
O sistema está em vácuo.
Carga do elétron = $-1,6 \times 10^{-19} \text{ C}$.

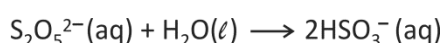


Q01

O metabissulfito de potássio ($K_2S_2O_5$) e o dióxido de enxofre (SO_2) são amplamente utilizados na conservação de alimentos como sucos de frutas, retardando a deterioração provocada por bactérias, fungos e leveduras. Ao ser dissolvido em soluções aquosas ácidas ou básicas, o metabissulfito pode se transformar nas espécies químicas SO_2 , HSO_3^- ou SO_3^{2-} , dependendo do pH da solução, como é mostrado no gráfico.



A equação a seguir representa a formação dos íons HSO_3^- em solução aquosa.



- a) Escreva as equações químicas balanceadas que representam a formação das espécies químicas $SO_2(aq)$ e $SO_3^{2-}(aq)$ a partir dos íons $S_2O_5^{2-}(aq)$.
- b) Reações indesejáveis no organismo podem ocorrer quando a ingestão de íons $S_2O_5^{2-}$, HSO_3^- ou SO_3^{2-} ultrapassa um valor conhecido como IDA (ingestão diária aceitável, expressa em quantidade de SO_2 /dia/massa corpórea), que, neste caso, é igual a $1,1 \times 10^{-5}$ mol de SO_2 por dia para cada quilograma de massa corpórea. Uma pessoa que pesa 50 kg tomou, em um dia, 200 mL de uma água de coco industrializada que continha 64 mg/L de SO_2 . Essa pessoa ultrapassou o valor da IDA? Explique, mostrando os cálculos.

Dados: massa molar (g/mol) O 16
S 32

Q02

O hidrogênio tem sido apontado como possível fonte de energia do futuro. Algumas montadoras de automóveis estão construindo carros experimentais que podem funcionar utilizando gasolina ou hidrogênio líquido como combustível.

Considere a tabela a seguir, contendo dados obtidos nas mesmas condições, sobre a energia específica (quantidade de energia liberada pela combustão completa de 1 g de combustível) e o conteúdo de energia por volume (quantidade de energia liberada pela combustão completa de 1 L de combustível), para cada um desses combustíveis:

Combustível	Energia específica (kJ/g)	Conteúdo de energia por volume (10^3 kJ/L)
Gasolina líquida	47	35
Hidrogênio líquido	142	10

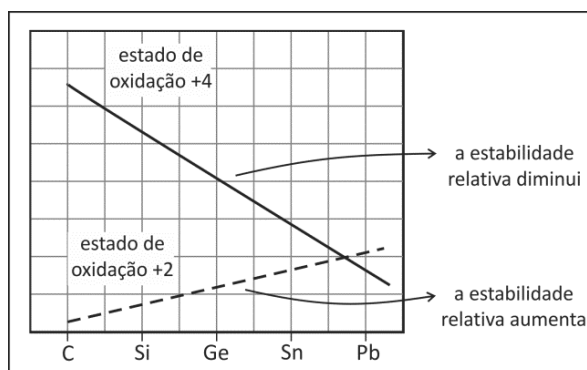
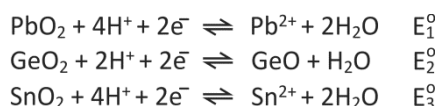
- a) Com base nos dados da tabela, calcule a razão entre as densidades da gasolina líquida e do hidrogênio líquido ($d_{gasolina(l)} / d_{hidrogênio(l)}$). Mostre os cálculos.
- b) Explique por que, embora a energia específica do hidrogênio líquido seja maior do que a da gasolina líquida, o conteúdo de energia por volume do hidrogênio líquido é menor do que o da gasolina líquida.



Q05

A figura ao lado ilustra as estabilidades relativas das espécies que apresentam estado de oxidação +2 e +4 dos elementos da mesma família: carbono, silício, germânio, estanho e chumbo.

As estabilidades relativas podem ser interpretadas pela comparação entre potenciais padrão de redução das espécies +4 formando as espécies +2, como representado a seguir para os elementos chumbo (Pb), germânio (Ge) e estanho (Sn):

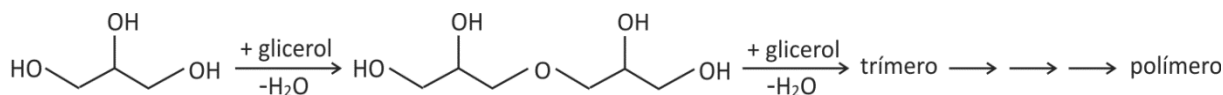


Os potenciais padrão de redução dessas três semirreações, E_1° , E_2° e E_3° , foram determinados experimentalmente, obtendo-se os valores $-0,12\text{ V}$, $-0,094\text{ V}$ e $1,5\text{ V}$, não necessariamente nessa ordem. Sabe-se que, quanto maior o valor do potencial padrão de redução, maior o caráter oxidante da espécie química.

- Considerando as informações da figura, atribua, na tabela da página de respostas, os valores experimentais aos potenciais padrão de redução E_1° , E_2° e E_3° .
- O elemento carbono pode formar óxidos, nos quais a proporção entre carbono e oxigênio está relacionada ao estado de oxidação do carbono. Comparando os óxidos CO e CO_2 , qual seria o mais estável? Explique, com base na figura apresentada acima.

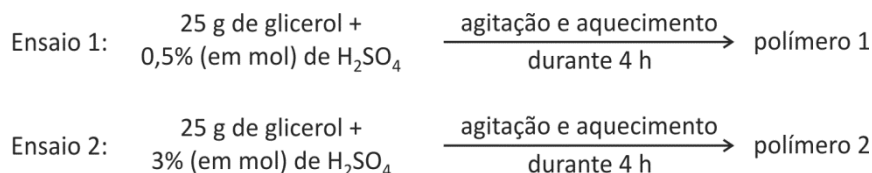
Q06

O glicerol pode ser polimerizado em uma reação de condensação catalisada por ácido sulfúrico, com eliminação de moléculas de água, conforme se representa a seguir:



- Considerando a estrutura do monômero, pode-se prever que o polímero deverá ser formado por cadeias ramificadas. Desenhe a fórmula estrutural de um segmento do polímero, mostrando quatro moléculas do monômero ligadas e formando uma cadeia ramificada.

Para investigar a influência da concentração do catalisador sobre o grau de polimerização do glicerol (isto é, a porcentagem de moléculas de glicerol que reagiram), foram efetuados dois ensaios:



Ao final desses ensaios, os polímeros 1 e 2 foram analisados separadamente. Amostras de cada um deles foram misturadas com diferentes solventes, observando-se em que extensão ocorria a dissolução parcial de cada amostra. A tabela a seguir mostra os resultados dessas análises:

Amostra	Solubilidade (% em massa)	
	Hexano (solvente apolar)	Etanol (solvente polar)
polímero 1	3	13
polímero 2	2	3

- Qual dos polímeros formados deve apresentar **menor** grau de polimerização? Explique sua resposta, fazendo referência à solubilidade das amostras em etanol.

QUADRO DESTINADO À RESPOSTA DA QUESTÃO
 TEXTOS ESCRITOS FORA DESTE QUADRO (OU A LÁPIS) NÃO SERÃO CONSIDERADOS PELO CORRETOR

PROVA 3

FUVEST 2015

a)

	E_1°	E_2°	E_3°
Valor experimental em volt			

b)

<input type="checkbox"/>	<input type="checkbox"/>
<input type="checkbox"/>	<input type="checkbox"/>
<input type="checkbox"/>	<input type="checkbox"/>
<input type="checkbox"/>	<input type="checkbox"/>
<input type="checkbox"/>	<input type="checkbox"/>
<input type="checkbox"/>	<input type="checkbox"/>
<input type="checkbox"/>	<input type="checkbox"/>
<input type="checkbox"/>	<input type="checkbox"/>
<input type="checkbox"/>	<input type="checkbox"/>
<input type="checkbox"/>	<input type="checkbox"/>
<input type="checkbox"/>	<input type="checkbox"/>
<input type="checkbox"/>	<input type="checkbox"/>
<input type="checkbox"/>	<input type="checkbox"/>
<input type="checkbox"/>	<input type="checkbox"/>
<input type="checkbox"/>	<input type="checkbox"/>
<input type="checkbox"/>	<input type="checkbox"/>
<input type="checkbox"/>	<input type="checkbox"/>
<input type="checkbox"/>	<input type="checkbox"/>
<input type="checkbox"/>	<input type="checkbox"/>
<input type="checkbox"/>	<input type="checkbox"/>
<input type="checkbox"/>	<input type="checkbox"/>
<input type="checkbox"/>	<input type="checkbox"/>
<input type="checkbox"/>	<input type="checkbox"/>

<input type="checkbox"/>	0
<input type="checkbox"/>	1
<input type="checkbox"/>	2
<input type="checkbox"/>	3
<input type="checkbox"/>	4

<input type="checkbox"/>	0
<input type="checkbox"/>	1
<input type="checkbox"/>	2
<input type="checkbox"/>	3
<input type="checkbox"/>	4
	OK

<input type="checkbox"/>	<input type="checkbox"/>
<input type="checkbox"/>	<input type="checkbox"/>
<input type="checkbox"/>	<input type="checkbox"/>
<input type="checkbox"/>	<input type="checkbox"/>
<input type="checkbox"/>	<input type="checkbox"/>
<input type="checkbox"/>	<input type="checkbox"/>
<input type="checkbox"/>	<input type="checkbox"/>
<input type="checkbox"/>	<input type="checkbox"/>
<input type="checkbox"/>	<input type="checkbox"/>
<input type="checkbox"/>	<input type="checkbox"/>
<input type="checkbox"/>	<input type="checkbox"/>
<input type="checkbox"/>	<input type="checkbox"/>
<input type="checkbox"/>	<input type="checkbox"/>
<input type="checkbox"/>	<input type="checkbox"/>
<input type="checkbox"/>	<input type="checkbox"/>
<input type="checkbox"/>	<input type="checkbox"/>
<input type="checkbox"/>	<input type="checkbox"/>
<input type="checkbox"/>	<input type="checkbox"/>
<input type="checkbox"/>	<input type="checkbox"/>
<input type="checkbox"/>	<input type="checkbox"/>
<input type="checkbox"/>	<input type="checkbox"/>
<input type="checkbox"/>	<input type="checkbox"/>

QUADRO DESTINADO À RESPOSTA DA QUESTÃO
 TEXTOS ESCRITOS FORA DESTE QUADRO (OU A LÁPIS) NÃO SERÃO CONSIDERADOS PELO CORRETOR

PROVA 3

FUVEST 2015

<input type="checkbox"/>	0
<input type="checkbox"/>	1
<input type="checkbox"/>	2
<input type="checkbox"/>	3
<input type="checkbox"/>	4

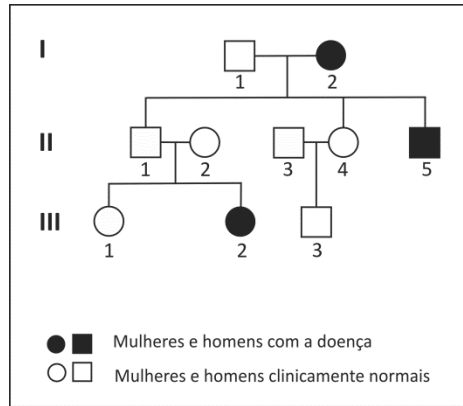
<input type="checkbox"/>	0
<input type="checkbox"/>	1
<input type="checkbox"/>	2
<input type="checkbox"/>	3
<input type="checkbox"/>	4
	OK

<input type="checkbox"/>	<input type="checkbox"/>
<input type="checkbox"/>	<input type="checkbox"/>
<input type="checkbox"/>	<input type="checkbox"/>



B01

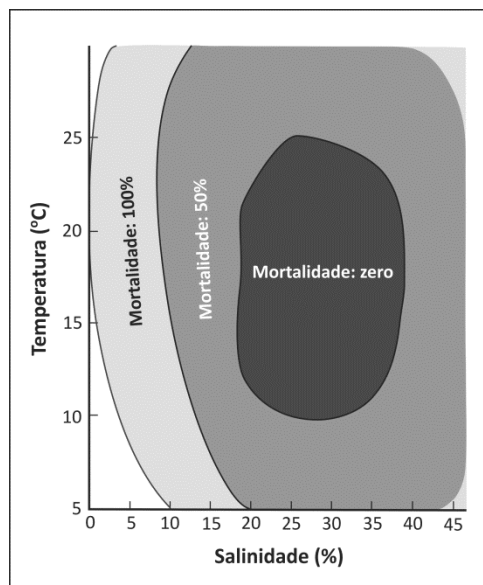
No heredograma abaixo estão representadas pessoas que têm uma doença genética muito rara, cuja herança é dominante. A doença é causada por mutação em um gene localizado no cromossomo 6. Essa mutação, entretanto, só se manifesta, causando a doença, em 80% das pessoas heterozigóticas.



- a) Usando os algarismos romanos e arábicos correspondentes, identifique as pessoas que são certamente heterozigóticas quanto a essa mutação. Justifique sua resposta.
- b) Qual é a probabilidade de uma criança, que II-5 venha a ter, apresentar a doença? Justifique sua resposta.

B02

Analise o gráfico abaixo, relativo à mortalidade de fêmeas férteis do camarão-da-areia (*Crangon septemspinosa*) em água aerada, em diferentes temperaturas e salinidades, durante determinado período.



Begon, M., Townsend, C. R. & Harper, J. L. *Ecologia: de indivíduos a ecossistemas*. Artmed. Porto Alegre, 2007. Adaptado.

- a) Qual dos seguintes conceitos – ecossistema, hábitat, nicho ecológico – está implícito nesse gráfico?
- b) Os dados de mortalidade representados nesse gráfico referem-se a que nível de organização: espécie, população ou comunidade?
- c) Temperatura e salinidade são fatores abióticos que, nesse caso, provocaram mortalidade das fêmeas do camarão-da-areia. Cite dois fatores bióticos que também possam produzir mortalidade.



B03

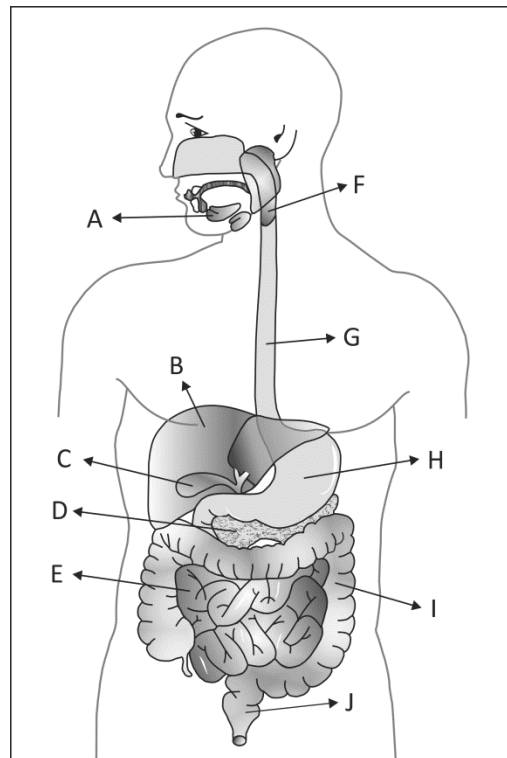
Em certa doença humana, enzimas digestivas intracelulares (hidrolases) são transportadas do complexo golgiense para a membrana celular e secretadas, em vez de serem encaminhadas para as organelas em que atuam.

Nos indivíduos clinicamente normais,

- em que organelas celulares essas enzimas digestivas atuam?
- além de materiais capturados do meio externo, que outros materiais são digeridos pela célula?
- qual é o destino dos produtos da digestão intracelular?

B04

A figura abaixo mostra órgãos do sistema digestório humano.



Identifique com a letra correspondente, nomeando-o,

- o órgão cuja secreção contém bicarbonato de sódio, além de várias enzimas digestivas;
- o principal órgão responsável pela absorção de nutrientes;
- o órgão em que se inicia a digestão de proteínas;
- o órgão que produz substâncias que auxiliam a digestão de gorduras, mas que não produz enzimas.



B05

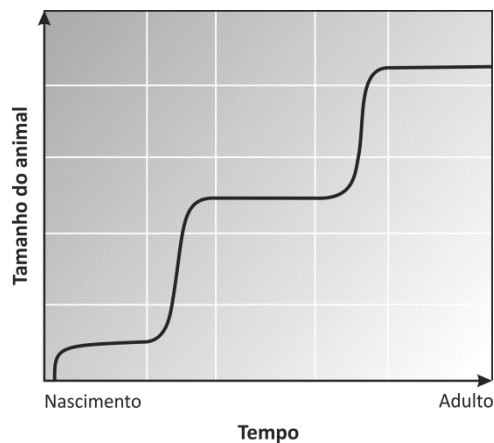
No processo de adaptação ao ambiente terrestre, animais e plantas sofreram modificações morfológicas e funcionais.

Considere a classificação tradicional das plantas em algas, briófitas, pteridófitas, gimnospermas e angiospermas.

- Qual(is) desses grupos de plantas independe(m) da água para a fecundação? Que estrutura permite o encontro dos gametas, em substituição à água?
- As briófitas, primeiro grupo de plantas preponderantemente terrestre, têm tamanho reduzido. As pteridófitas, surgidas posteriormente, são plantas de grande tamanho, que chegaram a constituir extensas florestas. Que relação existe entre o mecanismo de transporte de água e o tamanho das plantas nesses grupos?

B06

O rígido exoesqueleto dos artrópodes é periodicamente substituído para que seu corpo possa crescer. Após as mudas, com o revestimento do corpo ainda flexível, o animal cresce. O gráfico abaixo representa o crescimento desses animais.



Nas coordenadas da página de respostas, represente

- o crescimento de alguns moluscos, cujo exoesqueleto agrega material de maneira contínua, permitindo o crescimento continuado do animal;
- o crescimento de mamíferos, que têm endoesqueleto ósseo e crescem até se tornarem adultos.



H01

Examine a seguinte imagem:



Louis-Michel van Loo & Claude-Joseph Vernet, **O Marquês de Pombal**, 1766.

- Identifique e analise dois elementos representados na imagem, relativos ao contexto sociopolítico de Portugal na segunda metade do século XVIII.
- Aposte e explique uma medida relativa ao Brasil, adotada por Portugal nessa mesma época.

H02

O movimento político conhecido como “Confederação do Equador”, ocorrido em 1824 em Pernambuco e em províncias vizinhas, contou com a liderança de figuras como Manuel Carvalho Paes de Andrade e Frei Joaquim do Amor Divino Caneca. Relacione esse movimento com

- o projeto político desenvolvido pela Corte do Rio de Janeiro, na mesma época;
- outros dois movimentos ocorridos em Pernambuco, em anos anteriores.

QUADRO DESTINADO À RESPOSTA DA QUESTÃO
 TEXTOS ESCRITOS FORA DESTE QUADRO (OU A LÁPIS) NÃO SERÃO CONSIDERADOS PELO CORRETOR

PROVA 3

FUVEST 2015

Empty response box for the question.

Vertical grid of 20 empty boxes for marking answers.

<input type="checkbox"/>	0
<input type="checkbox"/>	1
<input type="checkbox"/>	2
<input type="checkbox"/>	3
<input type="checkbox"/>	4

<input type="checkbox"/>	0	OK
<input type="checkbox"/>	1	
<input type="checkbox"/>	2	
<input type="checkbox"/>	3	
<input type="checkbox"/>	4	

Vertical grid of 20 empty boxes for marking answers.

QUADRO DESTINADO À RESPOSTA DA QUESTÃO
 TEXTOS ESCRITOS FORA DESTE QUADRO (OU A LÁPIS) NÃO SERÃO CONSIDERADOS PELO CORRETOR

PROVA 3

FUVEST 2015

Empty response box for the question.

<input type="checkbox"/>	0
<input type="checkbox"/>	1
<input type="checkbox"/>	2
<input type="checkbox"/>	3
<input type="checkbox"/>	4

<input type="checkbox"/>	0	OK
<input type="checkbox"/>	1	
<input type="checkbox"/>	2	
<input type="checkbox"/>	3	
<input type="checkbox"/>	4	

Vertical grid of 20 empty boxes for marking answers.



H03

Leia os dois fragmentos abaixo.

- I. *É necessário, pois, aceitar como princípio e ponto de partida o fato de que existe uma hierarquia de raças e civilizações, e que nós pertencemos a raça e civilização superiores, reconhecendo ainda que a superioridade confere direitos, mas, em contrapartida, impõe obrigações estritas. A legitimação básica da conquista de povos nativos é a convicção de nossa superioridade, não simplesmente nossa superioridade mecânica, econômica e militar, mas nossa superioridade moral. Nossa dignidade se baseia nessa qualidade, e ela funda nosso direito de dirigir o resto da humanidade. O poder material é apenas um meio para esse fim.*

Declaração do francês Jules Harmand, em 1910. Apud: Edward Said. **Cultura e imperialismo**. São Paulo: Companhia das Letras, 1995. Adaptado.

- II. (...) *apesar das suas diferenças, os ingleses e os franceses viam o Oriente como uma entidade geográfica — e cultural, política, demográfica, sociológica e histórica — sobre cujos destinos eles acreditavam ter um direito tradicional. Para eles, o Oriente não era nenhuma descoberta repentina, mas uma área ao leste da Europa cujo valor principal era definido uniformemente em termos de Europa, mais particularmente em termos que reivindicavam especificamente para a Europa — para a ciência, a erudição, o entendimento e a administração da Europa — o crédito por ter transformado o Oriente naquilo que era.*

Edward Said. **Orientalismo**. São Paulo: Companhia das Letras, 1990.

- a) Identifique a principal ideia defendida no texto I e explique sua relação com a expansão imperialista europeia no final do século XIX.
- b) Relacione o texto I com o texto II, quanto à concepção política neles presente.

H04



Anônimo. **Viva Espanha**, s/d



Emeterio Melendreras.
**Todas as milícias fundidas
no Exército Popular**, s/d

Os cartazes acima circularam durante a Guerra Civil Espanhola (1936-1939).

- a) Identifique, em cada um dos cartazes, um elemento que permita associá-los, respectivamente, às principais forças políticas envolvidas nessa guerra.
- b) Caracterize as principais propostas das forças políticas representadas nos cartazes.



H05

A cidade do Rio de Janeiro abre o século XX defrontando-se com perspectivas extremamente promissoras. Aproveitando-se de seu papel privilegiado na intermediação dos recursos da economia cafeeira e de sua condição de centro político do país, a sociedade carioca via acumularem-se no seu interior vastos recursos enraizados principalmente no comércio e nas finanças, mas derivando já para as aplicações industriais. A mudança da natureza das atividades econômicas do Rio foi de monta, portanto, a transformá-lo no maior centro cosmopolita da nação, em íntimo contato com a produção e o comércio europeus e americanos, absorvendo-os e irradiando-os para todo o país. Muito cedo, no entanto, ficou evidente o anacronismo da velha estrutura urbana do Rio de Janeiro diante das demandas dos novos tempos.

Nicolau Sevcenko. **Literatura como missão. Tensões sociais e criação cultural na Primeira República.**
São Paulo: Brasiliense, 1983. Adaptado.

- Cite dois exemplos que justifiquem o mencionado “anacronismo da velha estrutura urbana do Rio de Janeiro”.
- Cite duas importantes mudanças socioeconômicas pelas quais a cidade do Rio de Janeiro passou no princípio do século XX.

H06

Em 25 de abril de 1984, a Câmara dos Deputados do Brasil rejeitou a Emenda Constitucional que propunha o restabelecimento das eleições diretas para a presidência da República. Durante quase nove meses, situação e oposição realizaram articulações políticas, visando à escolha do novo presidente. Em 15 de janeiro de 1985, Tancredo Neves foi eleito presidente do Brasil por um Colégio Eleitoral.

- Explique em que consistia esse Colégio Eleitoral e como ele era composto.
- Identifique e caracterize a articulação política vitoriosa na eleição presidencial de 1985.

QUADRO DESTINADO À RESPOSTA DA QUESTÃO
TEXTOS ESCRITOS FORA DESTE QUADRO (OU A LÁPIS) NÃO SERÃO CONSIDERADOS PELO CORRETOR

PROVA 3

FUVEST 2015

<input type="checkbox"/>	<input type="checkbox"/>
<input type="checkbox"/>	<input type="checkbox"/>
<input type="checkbox"/>	<input type="checkbox"/>
<input type="checkbox"/>	<input type="checkbox"/>
<input type="checkbox"/>	<input type="checkbox"/>
<input type="checkbox"/>	<input type="checkbox"/>
<input type="checkbox"/>	<input type="checkbox"/>
<input type="checkbox"/>	<input type="checkbox"/>
<input type="checkbox"/>	<input type="checkbox"/>
<input type="checkbox"/>	<input type="checkbox"/>
<input type="checkbox"/>	<input type="checkbox"/>
<input type="checkbox"/>	<input type="checkbox"/>
<input type="checkbox"/>	<input type="checkbox"/>
<input type="checkbox"/>	<input type="checkbox"/>
<input type="checkbox"/>	<input type="checkbox"/>
<input type="checkbox"/>	<input type="checkbox"/>
<input type="checkbox"/>	<input type="checkbox"/>
<input type="checkbox"/>	<input type="checkbox"/>
<input type="checkbox"/>	<input type="checkbox"/>

<input type="checkbox"/>	0
<input type="checkbox"/>	1
<input type="checkbox"/>	2
<input type="checkbox"/>	3
<input type="checkbox"/>	4

<input type="checkbox"/>	0	OK
<input type="checkbox"/>	1	
<input type="checkbox"/>	2	
<input type="checkbox"/>	3	
<input type="checkbox"/>	4	

QUADRO DESTINADO À RESPOSTA DA QUESTÃO
TEXTOS ESCRITOS FORA DESTE QUADRO (OU A LÁPIS) NÃO SERÃO CONSIDERADOS PELO CORRETOR

PROVA 3

FUVEST 2015

<input type="checkbox"/>	<input type="checkbox"/>
<input type="checkbox"/>	<input type="checkbox"/>
<input type="checkbox"/>	<input type="checkbox"/>
<input type="checkbox"/>	<input type="checkbox"/>
<input type="checkbox"/>	<input type="checkbox"/>
<input type="checkbox"/>	<input type="checkbox"/>
<input type="checkbox"/>	<input type="checkbox"/>
<input type="checkbox"/>	<input type="checkbox"/>
<input type="checkbox"/>	<input type="checkbox"/>
<input type="checkbox"/>	<input type="checkbox"/>
<input type="checkbox"/>	<input type="checkbox"/>
<input type="checkbox"/>	<input type="checkbox"/>
<input type="checkbox"/>	<input type="checkbox"/>
<input type="checkbox"/>	<input type="checkbox"/>
<input type="checkbox"/>	<input type="checkbox"/>
<input type="checkbox"/>	<input type="checkbox"/>
<input type="checkbox"/>	<input type="checkbox"/>
<input type="checkbox"/>	<input type="checkbox"/>

<input type="checkbox"/>	0
<input type="checkbox"/>	1
<input type="checkbox"/>	2
<input type="checkbox"/>	3
<input type="checkbox"/>	4

<input type="checkbox"/>	0	OK
<input type="checkbox"/>	1	
<input type="checkbox"/>	2	
<input type="checkbox"/>	3	
<input type="checkbox"/>	4	

<input type="checkbox"/>	<input type="checkbox"/>
<input type="checkbox"/>	<input type="checkbox"/>
<input checked="" type="checkbox"/>	<input checked="" type="checkbox"/>



G01

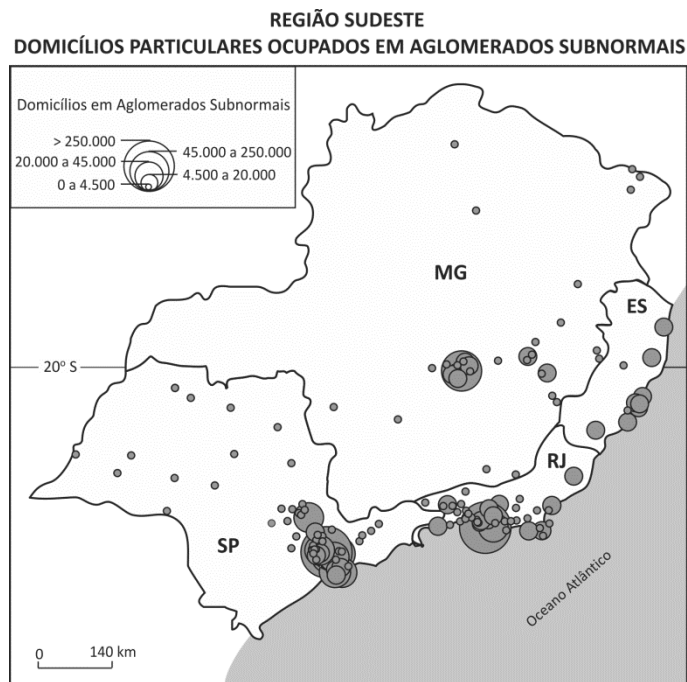
Segundo o IBGE, aglomerado subnormal “é um conjunto constituído de, no mínimo, 51 unidades habitacionais (barracos, casas, etc.) carentes, em sua maioria, de serviços públicos essenciais. O conceito de aglomerado subnormal foi utilizado pela primeira vez no Censo Demográfico 1991. Possui certo grau de generalização, de forma a abarcar a diversidade de assentamentos existentes no País, conhecidos como: favela, invasão, grota, baixada, comunidade, vila, rессaca, mocambo, palafita, entre outros”.

Aglomerados subnormais. IBGE, 2011. Adaptado.

Com base no texto e no mapa,

a) identifique duas características dos aglomerados subnormais, sendo uma relativa à questão fundiária e outra ao padrão de urbanização;

b) explique a concentração espacial dos aglomerados subnormais na região Sudeste e o processo que levou a essa concentração.



Censo Demográfico 2010. Aglomerados subnormais. IBGE, 2011.

G02

A Convenção das Nações Unidas sobre Direito do Mar estabelece as linhas de base a partir das quais passam a ser contados o mar territorial, a zona contígua, a zona econômica exclusiva e o limite exterior da plataforma continental, bem como os critérios para o delineamento do limite exterior da plataforma.

www.marinha.mil.br. Acesso em 30/10/2014. Adaptado.

Com base nessa Convenção, da qual o Brasil é signatário, o governo brasileiro propôs às Nações Unidas a ampliação do limite exterior de sua plataforma continental para até 350 milhas náuticas (648 km), o que resultaria em uma área total com cerca de 4,4 milhões de quilômetros quadrados, a qual vem sendo chamada pela Marinha do Brasil de “Amazônia Azul”.

Considerando o mapa e seus conhecimentos,

a) explique a importância geoestratégica da delimitação de áreas/zonas marítimas para as nações litorâneas;

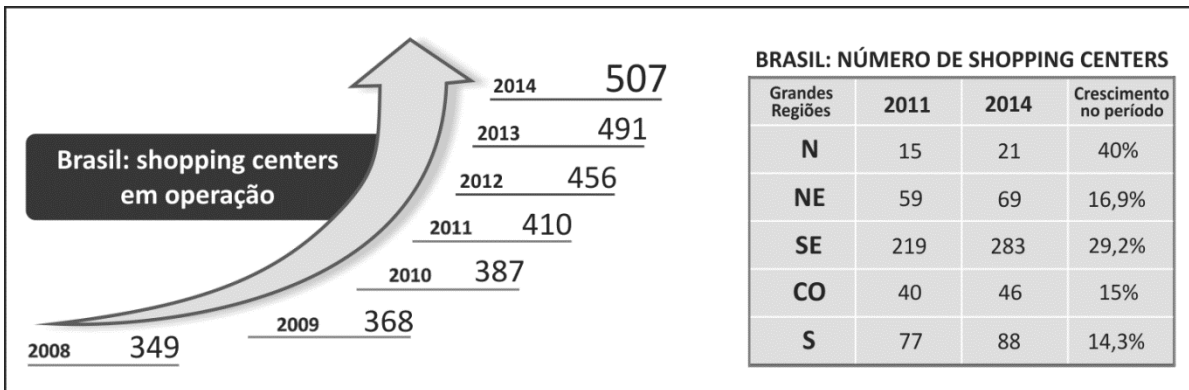
b) identifique e explique duas razões da importância econômica da chamada Amazônia Azul para o Brasil.



www.marinha.mil.br. Acesso em 30/10/2014. Adaptado.



G03



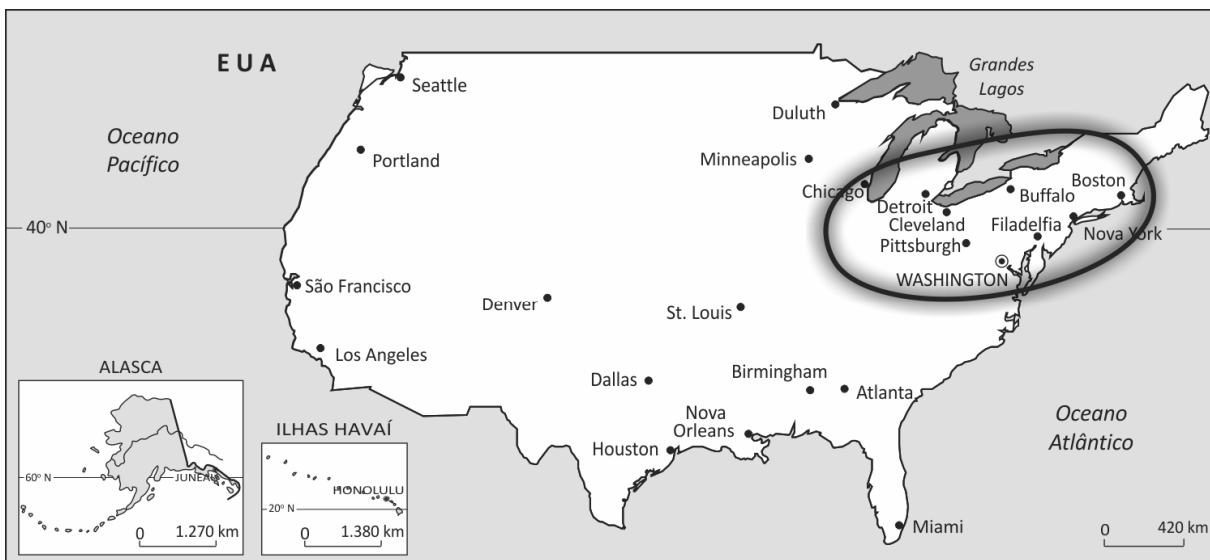
Geonotícias, nº 21, Shopping Centers. www.ibope.com.br/pt-br. Acesso em 20/10/2014.

Com base nas informações acima e em seus conhecimentos, identifique

- dois fatores responsáveis pelo crescimento do número de *shopping centers* no Brasil entre 2008 e 2014.
- duas tendências da distribuição geográfica dos *shopping centers* pelas diferentes regiões brasileiras, considerando o crescimento no período 2011-2014. Justifique sua resposta.

G04

Observe o mapa.



Atlas Geográfico Escolar. IBGE, 2012.

Com base no mapa e em seus conhecimentos sobre os EUA,

- aponte duas razões da importância geopolítica desse país, na atualidade, considerando sua localização e dimensão territorial;
- explique a importância econômica, para esse país, da região circundada no mapa, considerando os recursos naturais e os aspectos humanos.

QUADRO DESTINADO À RESPOSTA DA QUESTÃO
TEXTOS ESCRITOS FORA DESTE QUADRO (OU A LÁPIS) NÃO SERÃO CONSIDERADOS PELO CORRETOR

PROVA 3

FUVEST 2015

<input type="checkbox"/>	<input type="checkbox"/>
<input type="checkbox"/>	<input type="checkbox"/>
<input type="checkbox"/>	<input type="checkbox"/>
<input type="checkbox"/>	<input type="checkbox"/>
<input type="checkbox"/>	<input type="checkbox"/>
<input type="checkbox"/>	<input type="checkbox"/>
<input type="checkbox"/>	<input type="checkbox"/>
<input type="checkbox"/>	<input type="checkbox"/>
<input type="checkbox"/>	<input type="checkbox"/>
<input type="checkbox"/>	<input type="checkbox"/>
<input type="checkbox"/>	<input type="checkbox"/>
<input type="checkbox"/>	<input type="checkbox"/>
<input type="checkbox"/>	<input type="checkbox"/>
<input type="checkbox"/>	<input type="checkbox"/>
<input type="checkbox"/>	<input type="checkbox"/>
<input type="checkbox"/>	<input type="checkbox"/>
<input type="checkbox"/>	<input type="checkbox"/>
<input type="checkbox"/>	<input type="checkbox"/>
<input type="checkbox"/>	<input type="checkbox"/>
<input type="checkbox"/>	<input type="checkbox"/>
<input type="checkbox"/>	<input type="checkbox"/>

<input type="checkbox"/>	0
<input type="checkbox"/>	1
<input type="checkbox"/>	2
<input type="checkbox"/>	3
<input type="checkbox"/>	4

<input type="checkbox"/>	0	OK <input type="checkbox"/>
<input type="checkbox"/>	1	
<input type="checkbox"/>	2	
<input type="checkbox"/>	3	
<input type="checkbox"/>	4	

<input type="checkbox"/>	<input type="checkbox"/>
<input type="checkbox"/>	<input type="checkbox"/>
<input type="checkbox"/>	<input type="checkbox"/>
<input type="checkbox"/>	<input type="checkbox"/>
<input type="checkbox"/>	<input type="checkbox"/>
<input type="checkbox"/>	<input type="checkbox"/>
<input type="checkbox"/>	<input type="checkbox"/>
<input type="checkbox"/>	<input type="checkbox"/>
<input type="checkbox"/>	<input type="checkbox"/>
<input type="checkbox"/>	<input type="checkbox"/>
<input type="checkbox"/>	<input type="checkbox"/>
<input type="checkbox"/>	<input type="checkbox"/>
<input type="checkbox"/>	<input type="checkbox"/>
<input type="checkbox"/>	<input type="checkbox"/>
<input type="checkbox"/>	<input type="checkbox"/>
<input type="checkbox"/>	<input type="checkbox"/>
<input type="checkbox"/>	<input type="checkbox"/>
<input type="checkbox"/>	<input type="checkbox"/>
<input type="checkbox"/>	<input type="checkbox"/>
<input type="checkbox"/>	<input type="checkbox"/>

QUADRO DESTINADO À RESPOSTA DA QUESTÃO
TEXTOS ESCRITOS FORA DESTE QUADRO (OU A LÁPIS) NÃO SERÃO CONSIDERADOS PELO CORRETOR

PROVA 3

FUVEST 2015

<input type="checkbox"/>	0
<input type="checkbox"/>	1
<input type="checkbox"/>	2
<input type="checkbox"/>	3
<input type="checkbox"/>	4

<input type="checkbox"/>	0	OK <input type="checkbox"/>
<input type="checkbox"/>	1	
<input type="checkbox"/>	2	
<input type="checkbox"/>	3	
<input type="checkbox"/>	4	

<input type="checkbox"/>	<input type="checkbox"/>
<input type="checkbox"/>	<input type="checkbox"/>
<input type="checkbox"/>	<input type="checkbox"/>
<input type="checkbox"/>	<input type="checkbox"/>



G05

Considere o texto abaixo para responder à questão.

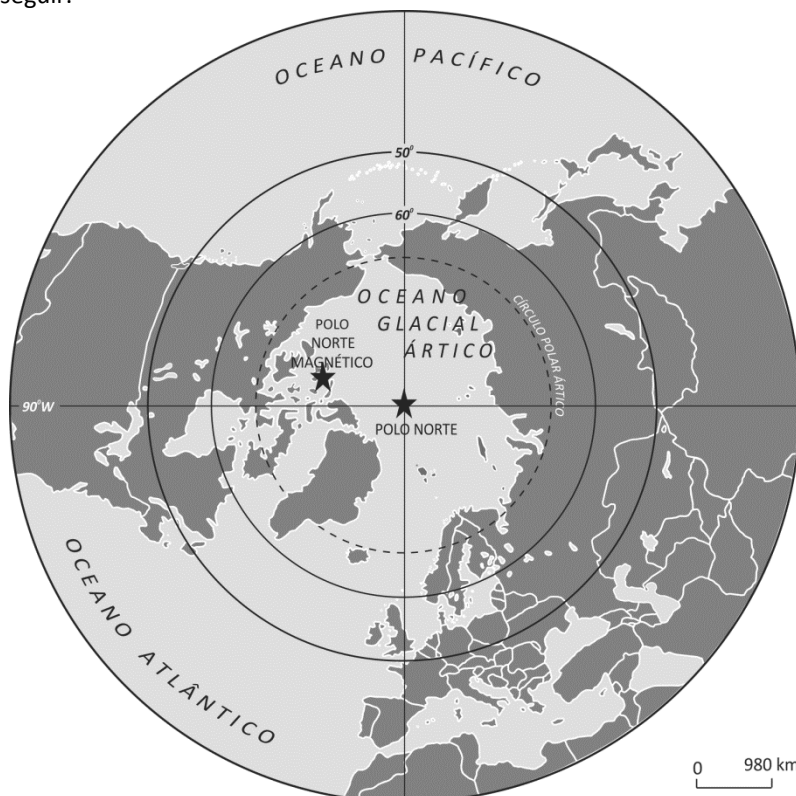
O que houve em Canudos e continua a acontecer hoje, no campo como nas grandes cidades brasileiras, foi o choque do Brasil “oficial e mais claro” com o Brasil “real e mais escuro” (...). Euclides da Cunha, formado, como todos nós, pelo Brasil oficial, de repente, ao chegar ao sertão, viu-se ofuscado pelo Brasil real de Antônio Conselheiro e seus seguidores. Sua intuição de escritor de gênio e seu nobre caráter de homem de bem colocaram-no imediatamente ao lado do Conselheiro, para honra e glória do escritor. De modo que, entre outros erros e contradições, só lhe ocorreu, além da corajosa denúncia do crime, pregar uma “modernização” que consistiria, finalmente, em conformar o Brasil real pelos moldes do Brasil oficial. Isto é, uma modernização falsificadora e falsa, que, como a que estão tentando fazer agora, é talvez pior do que uma invasão declarada. Esta apenas destrói e assola, enquanto a falsa modernização, no campo como na cidade, descaracteriza, assola, destrói e avilta o povo do Brasil real.

Ariano Suassuna. **Folha de S. Paulo**, 30/11/1999. Adaptado.

- Identifique e explique dois elementos da questão agrária brasileira contemporânea que justificam a expressão “falsa modernização no campo”.
- Descreva uma característica comum entre o movimento de Canudos e os movimentos sociais que atuam no campo brasileiro na atualidade.

G06

Observe o mapa a seguir.



Atlas Geográfico Escolar. IBGE, 2012.

- Aponte, sobre a região ártica, um interesse geoeconômico, indicando três países nele envolvidos.
- Explique a ocorrência de um impacto ambiental relacionado a uma importante atividade econômica desenvolvida nessa região.

QUADRO DESTINADO À RESPOSTA DA QUESTÃO

TEXTOS ESCRITOS FORA DESTE QUADRO (OU A LÁPIS) NÃO SERÃO CONSIDERADOS PELO CORRETOR

PROVA 3

FUVEST 2015

0	
1	
2	
3	
4	

0	OK
1	
2	
3	
4	

0	
1	
2	
3	
4	

0	
1	
2	
3	
4	

0	OK
1	
2	
3	
4	

0	
1	
2	
3	
4	

0	
1	
2	
3	
4	

QUADRO DESTINADO À RESPOSTA DA QUESTÃO

TEXTOS ESCRITOS FORA DESTE QUADRO (OU A LÁPIS) NÃO SERÃO CONSIDERADOS PELO CORRETOR

PROVA 3

FUVEST 2015

0	
1	
2	
3	
4	

0	OK
1	
2	
3	
4	

0	
1	
2	
3	
4	

0	
1	
2	
3	
4	

0	OK
1	
2	
3	
4	

0	
1	
2	
3	
4	



0000-00 38 594

Área Reservada
Não escreva no topo da folha

FUVEST Fundação Universitária para o Vestibular[06/01/2015]10:29:59
XXX.XXX.XXX.XXX.DD/MM/AAAA HH:MM:SS

FUVEST 2015
2ª Fase - Terceiro Dia (06/01/2015)

000/000
CAIXA
000
000/000